

Урок математики в 1 классе

Автор презентации: Кадырова Ольга Игоревна,
учитель начальных классов МАОУ ООШ №52 города Тюмени

2019

Настрои на урок

**На математике мы
обычно ...**



Математический ДИКТАНТ

Число, которое стоит между 4
и 6

5

Больше 3 на
1

4

Число стоит перед
числом 7

6

Состоит из 2-х
двоек

4

Следующее число
за 7

8



Математический ДИКТАНТ

Предыдущее
числу 6

5

Меньше 8 на 1

7

Состоит из 2-х
троек

6

Сосед числа 3
справа



4

Сосед числа 6
слева

5



??????



Что
разного
?



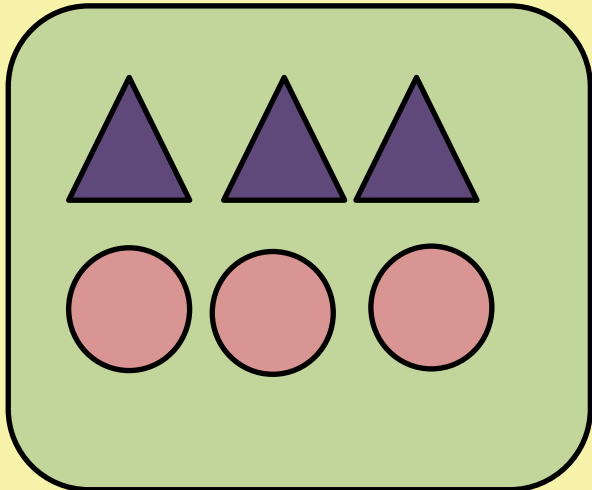
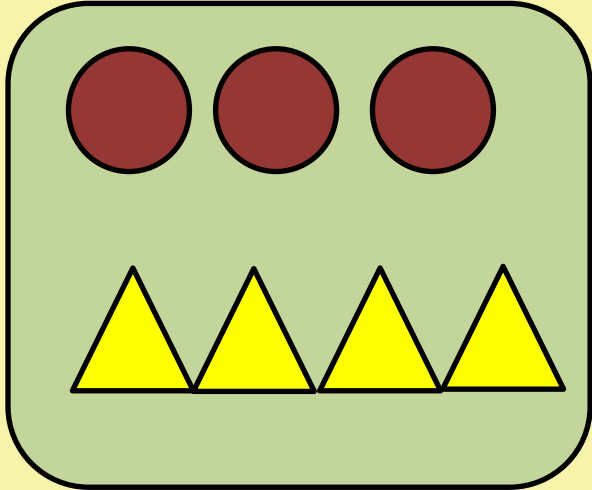
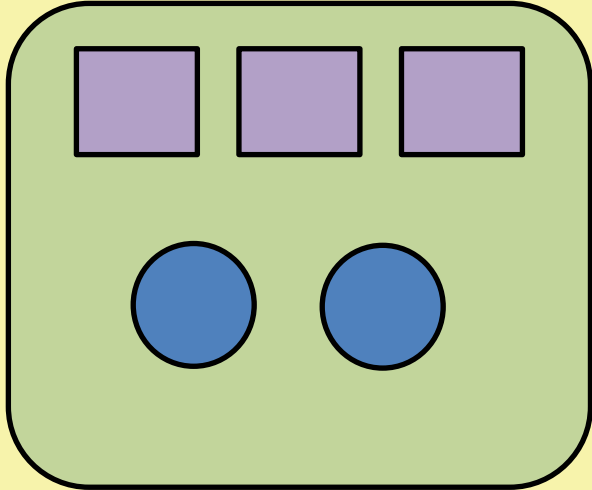
**Составьте замкнутую
ломаную линию из 6
звеньев**

**Составьте незамкнутую
ломаную линию из 5
звеньев**

**Составьте ломаную
линию
из 7 звеньев**



??????





Тема
урока

БОЛЬШ

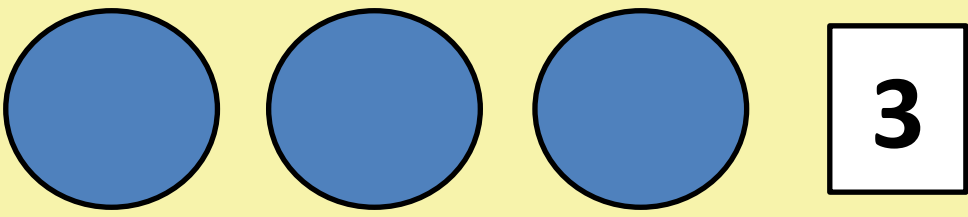

е

Меньше

Равно



Сравни



$$\boxed{2} < \boxed{3}$$

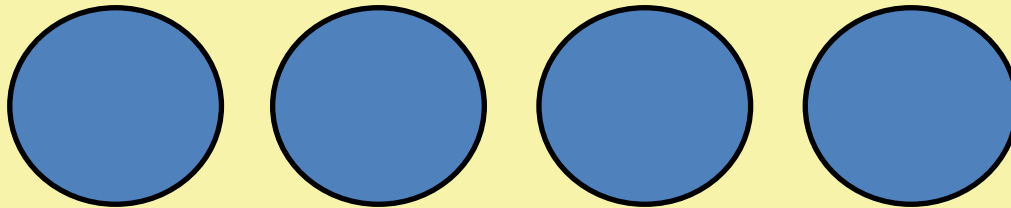
$$\boxed{3} > \boxed{2}$$



Сравн и



3





4

$$\boxed{3} < \boxed{4}$$

$$\boxed{4} > \boxed{3}$$



Сравни

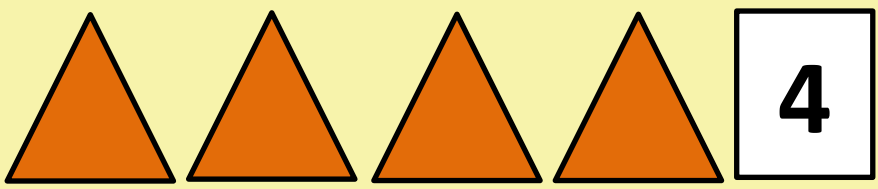



$$\boxed{4} < \boxed{5}$$

$$\boxed{5} > \boxed{4}$$



Сравни

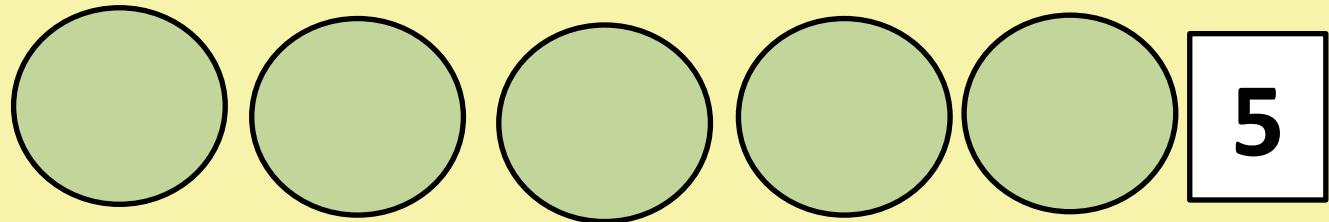



$$\boxed{2} < \boxed{4}$$

$$\boxed{4} > \boxed{2}$$



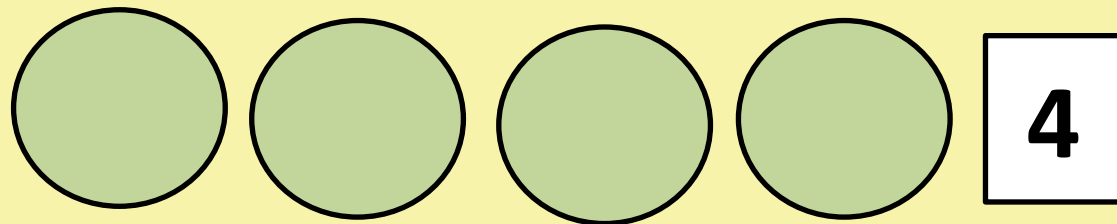

Сравни



$$5 = 5$$




Сравни



$$\boxed{4} = \boxed{4}$$



?????



$$3 + 1 = 4$$



$$4 > 3$$



$$4 - 1 = 3$$

$$3 < 4$$

?????



$$1 + 3 = 4$$

$$4 - 3 = 1$$

$$3 > 1$$

$$1 < 3$$

Сравни

и

$4 < 5$

$3 < 4$

$6 > 3$

$8 < 9$

$5 = 5$

$6 > 4$



Проверь

ь

$3 < 5$

$6 = 6$

$1 < 4$

$3 < 4$

$4 > 2$

$8 > 5$

$7 = 7$

$3 < 6$



Как получить 5?




$$4 + 1 = 5$$

$$1 + 4 = 5$$

$$3 + 2 = 5$$

$$2 + 3 = 5$$

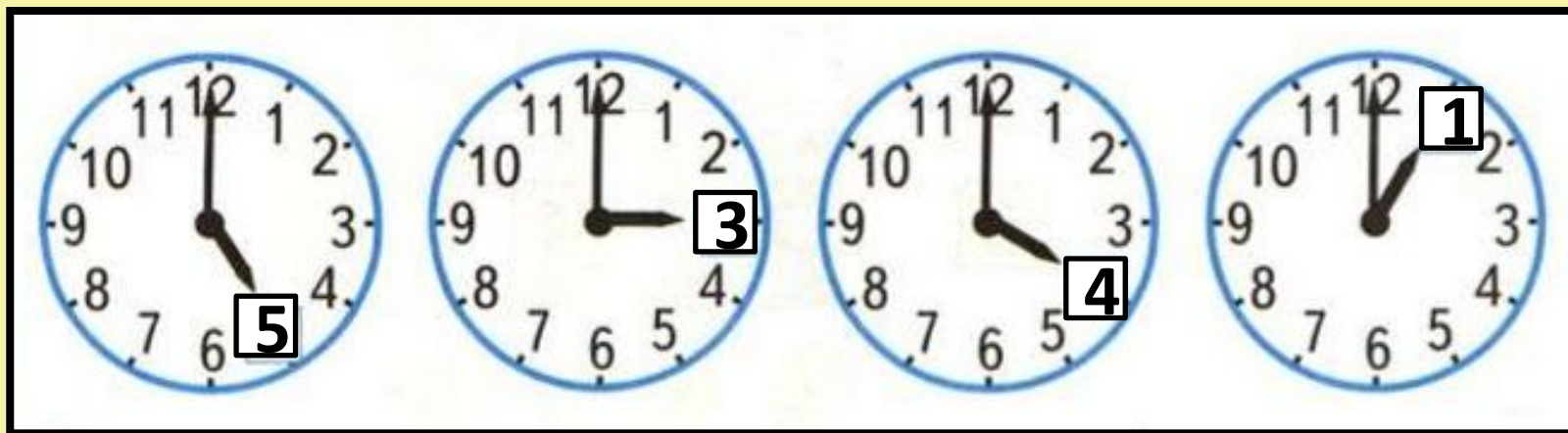




Как
получить
5 рублей ?



Укажи время



?????

3



5



$5 > 3$

$3 < 5$



Самооценк

а



ИТОГ
урока

Я сегодня понял (а)

...

