

# Урок математики в 1 классе

Автор презентации: Кадырова Ольга Игоревна,  
Учитель начальных классов МАОУ ООШ №52 города Тюмени  
2020

# Настрои на урок

Уроки  
математики учат  
нас ....











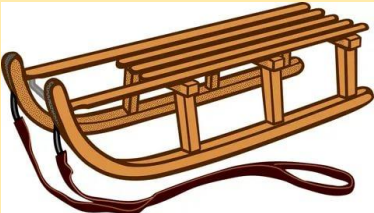
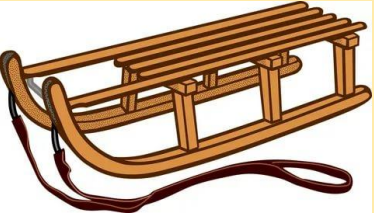
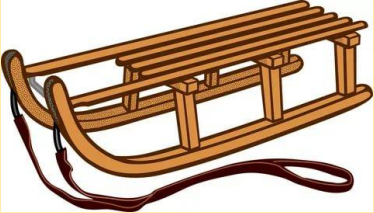
?????

Меньше на 1



??????

Меньше на 2



**Тема  
урока**

**Решение задач  
меньше на ...**

**Решение задач на  
уменьшение на  
несколько единиц**



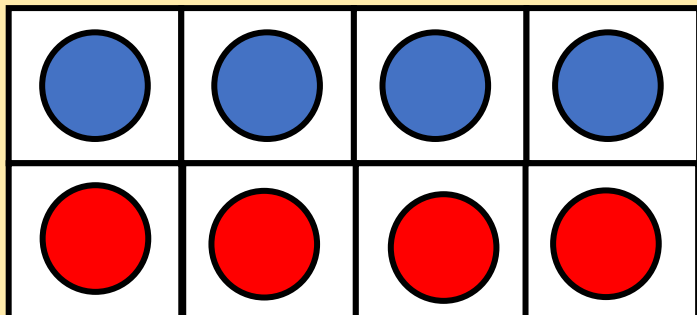
Объясн  
и



Столько

же

$$4 = 4$$



# Объясни


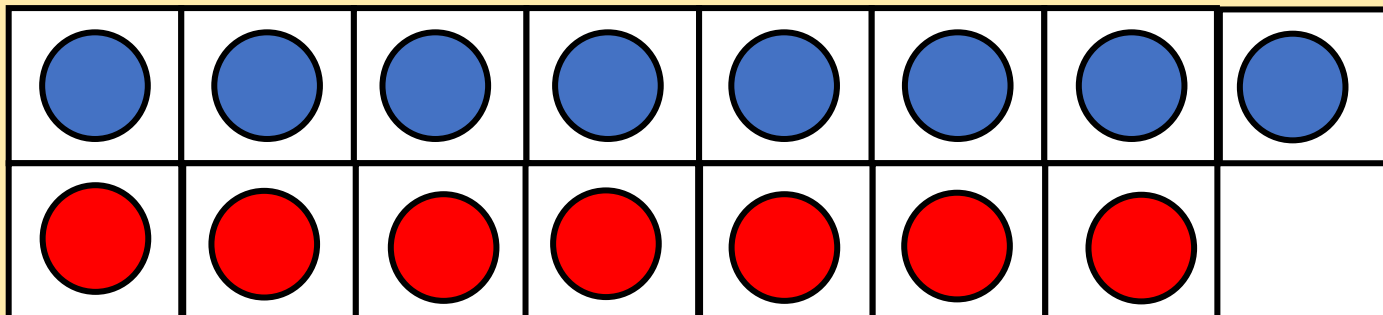
и



На 1  
меньше



Столько же  
без 1

$$8 - 1 = 7$$





№1



$$6 - 2 = 4$$

на 2  
меньше  
...



№2



5

СТАКАНОВ



СТОБУЧКА

СТАКАНОВ



№4

9 СТАКАНОВ  
БОЛЬШЕ

№3

$$9 - 2 - 2 = 5$$

$$1 + 7 - 5 = 3$$

$$8 - 1 - 3 = 4$$

$$2 + 8 - 6 = 4$$

$$7 - 0 - 4 = 3$$

$$6 + 3 - 5 = 4$$

$$2 + 8 - 0 = 10$$

$$4 + 6 - 8 = 2$$

$$7 + 2 - 6 = 3$$



№4

Оля старше Вани, но моложе  
Коли. Кто из них старше? Моложе  
всех?



Кол  
я




Ол  
я





Ван  
я




# Раскрась



7



на 3 меньше



$$7 - 3 = 4$$



# Задача

- 1 У Лены 8 тетрадей в линейку, а в клетку на 2 тетради меньше. Сколько у Лены тетрадей в клетку?

$$8 - 2 = 6$$

Ответ: 6  
тетрадей



# Проверь

На ветке сидело 5 птичек, а на проводах на 2 больше. Сколько птичек сидело на проводах?

$$5 - 2 = 3$$

Мама испекла 7 пирожков с капустой, а с яблоком на 2 меньше. Сколько пирожков с яблоками испекла мама?

$$5 + 2 = 7$$

Маша помыла 5 яблок, а груш на 2 меньше. Сколько груш помыла Маша?

$$7 - 2 = 5$$

В букете было 7 ромашек, а роз на 2 больше. Сколько было роз в букете?


$$7 + 2 = 9$$



**БОЛЬШЕ  
НА**

**???????**

**МЕНЬШЕ  
НА**



**УВЕЛИЧИТЬ  
НА**

**УМЕНЬШИТЬ  
НА**



# Примеры

$10 - 3 + \mathbf{2} = 9$

$9 - 1 - \mathbf{2} = 6$

$8 + 2 - \mathbf{3} = 7$

$10 - 1 - \mathbf{3} = 6$

$9 - 2 - \mathbf{3} = 4$

$7 - 3 - \mathbf{2} = 2$

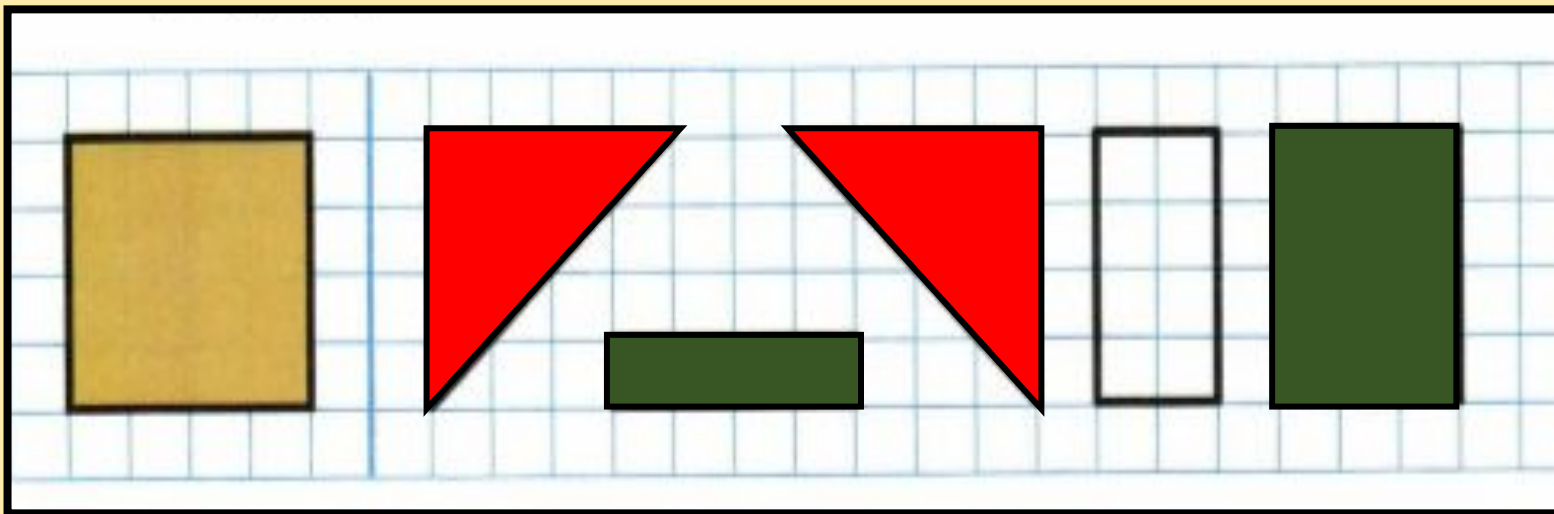
$10 - 2 + \mathbf{1} = 9$

$9 - 3 - \mathbf{1} = 5$

$6 - 2 + \mathbf{3} = 7$



# Раскрась



Самооценк

а



**НАЧАЛО УРОКА**



**КОНЕЦ УРОКА**

# Итог урока

**Мы научились  
решать задачи ...**

