

Урок математики в 1 классе

Автор презентации: Кадырова Ольга Игоревна,
учитель начальных классов МАОУ ООШ №52 города Тюмени

2019

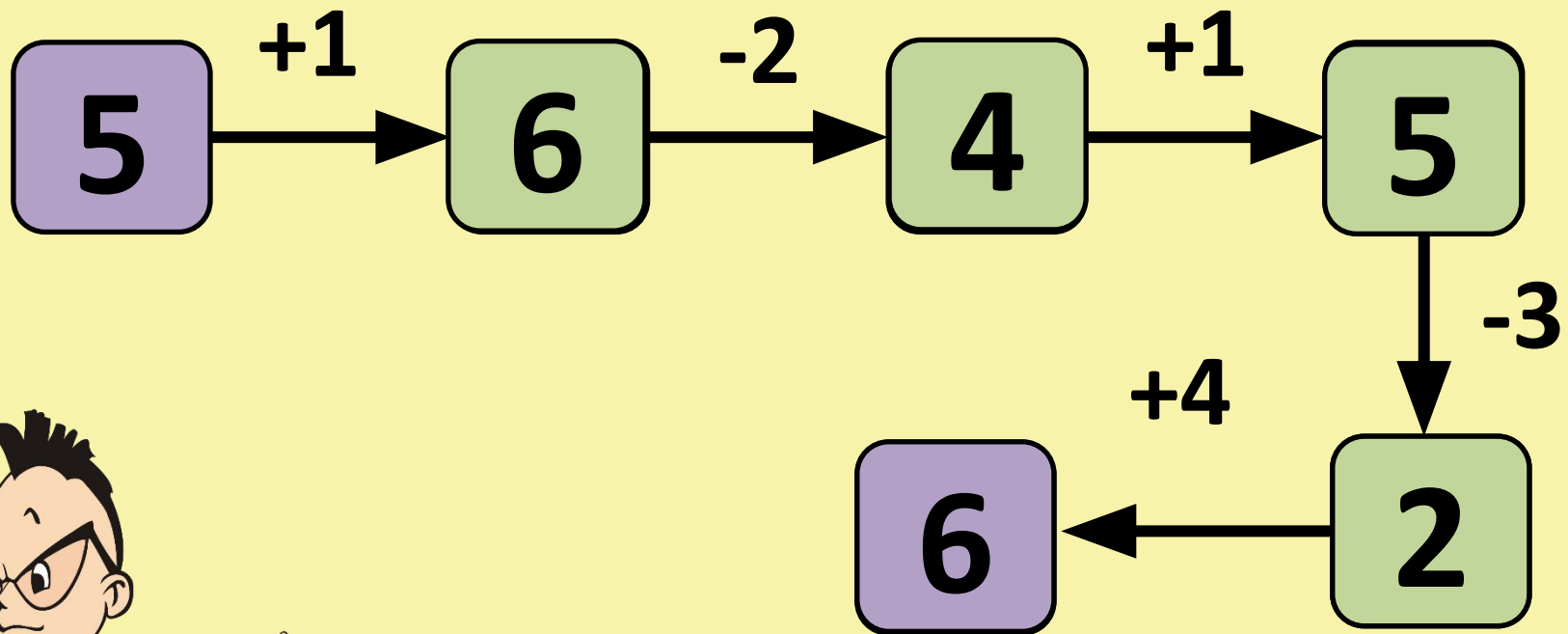
Настрой на
урок

Незнайка на печи

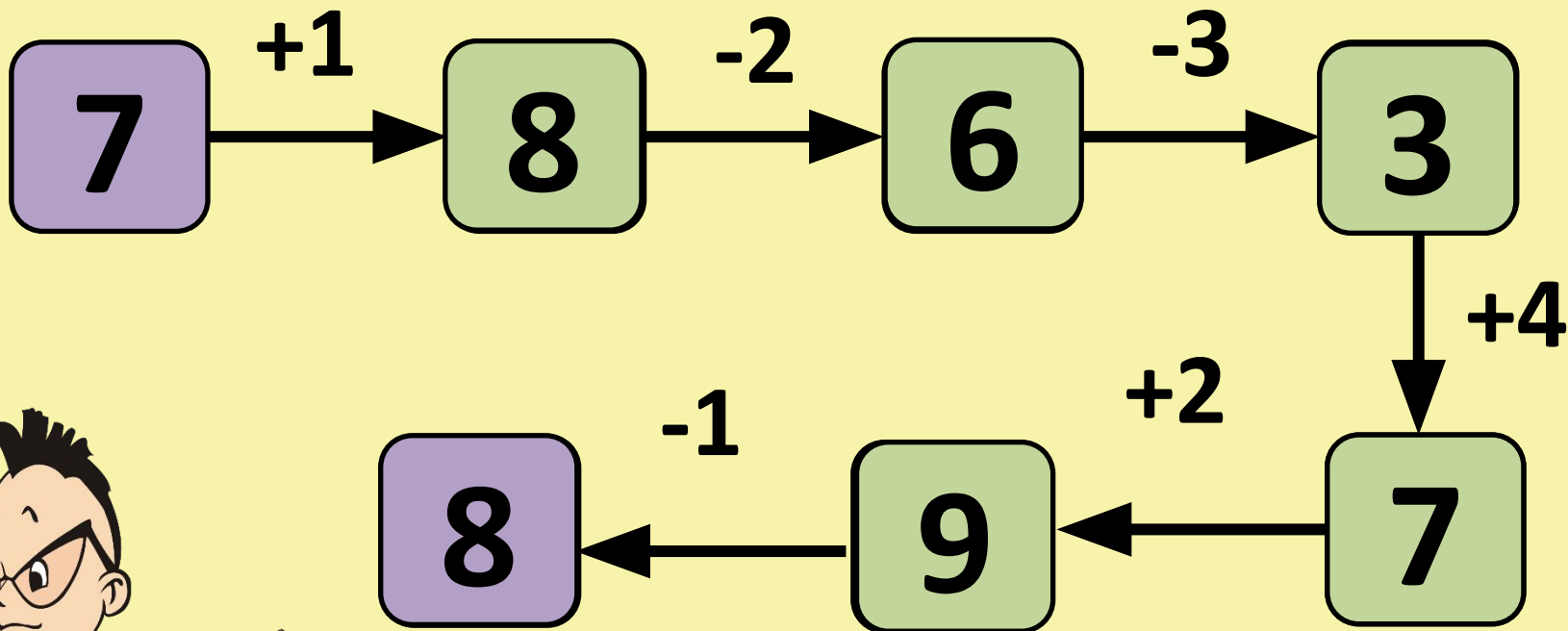
лежит
Знайка по дорожке
бежит!



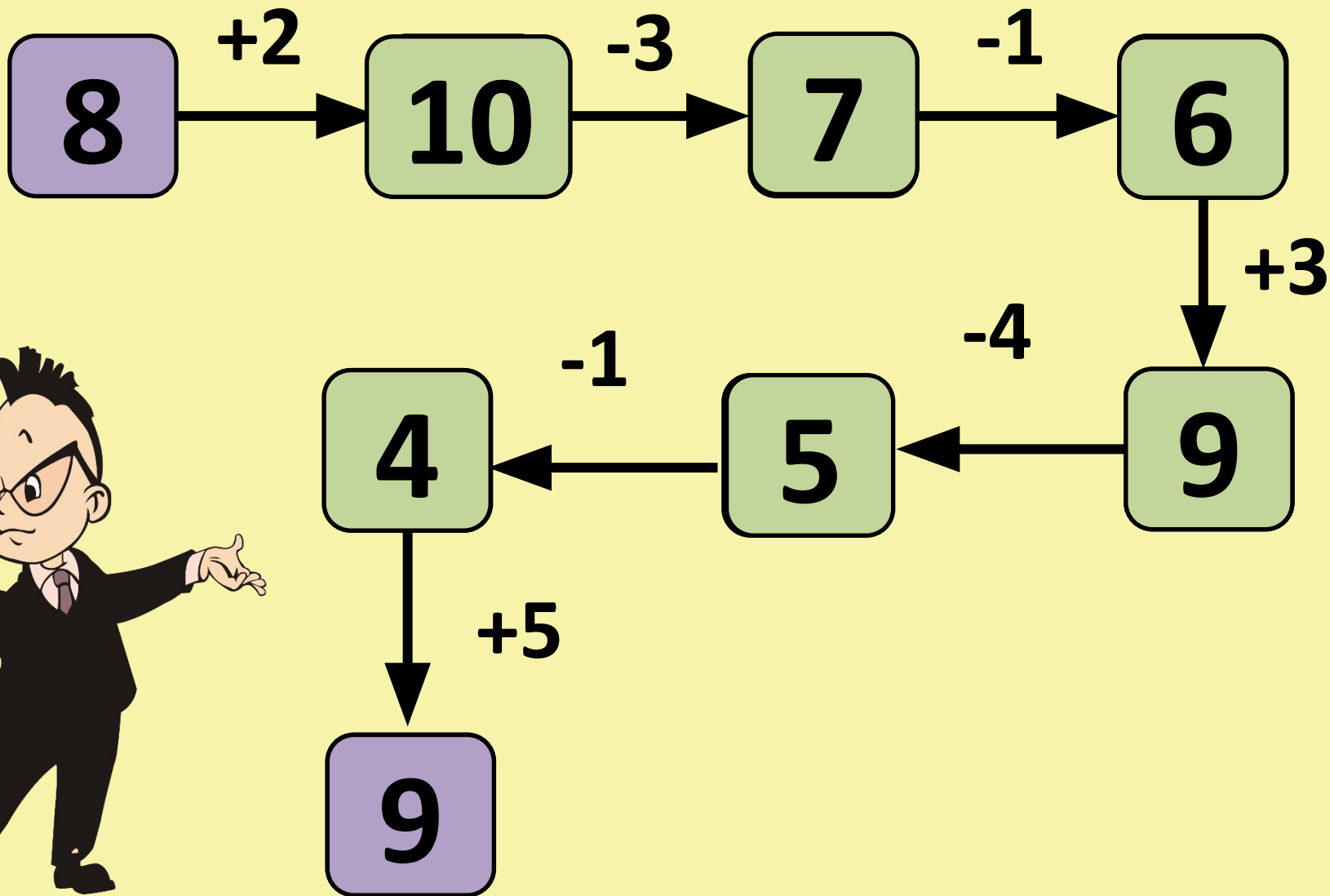
Вычисл и



Вычисл и



Вычисл и



Ребу
с



3
А

ДАЧА

Тема
урока

**ЗАДАЧ
А**



Задачи урока

Узнаем, как ...

Будем учиться ...



Задача



УСЛОВИ


Е

В коробке 6 карандашей, на столе ещё 2 карандаша.

ВОПРО

С

Сколько всего карандашей?



РЕШЕНИЕ

Е

$$6 + 2 = 8$$

ОТВЕТ:

8

карандашей

Задача

**ОТВЕ
Т**

РЕШЕНИЕ

ВОПРОС

УСЛОВИЕ



Задача

ОТВЕ

Т

РЕШЕНИЕ

СХЕМА

ВОПРОС

УСЛОВИЕ

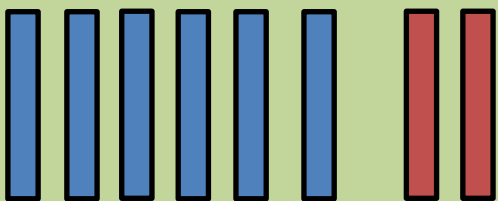


**Ответ: 4
карандаша**

$$6 - 2 = 4$$

**Сколько
карандашей
осталось в коробке?**

**В коробке было 6
карандашей.
Вынули 2
карандаша.**



УСЛОВИЕ

ОТВЕТ

**РЕШЕНИ
Е
ВОПРО
С**

СХЕМА

**Сколько мячей
купила мама?**

Ответ: 7 мячей

$$4 + 3 = 7$$

**Мама купила 4 синих
мяча и 3 красных.**




УСЛОВИЕ

ВОПРОС

**РЕШЕНИ
Е**

ОТВЕТ:

Сделай следующую фигуру




Определи

Саша

Дима

Толя



Подчеркн и

Миша сделал 5 корабликов. Он
отдал товарищу 2 кораблика.
Сколько осталось?



Задача

**ОТВЕ
Т**

РЕШЕНИЕ

ВОПРОС

УСЛОВИЕ



Подчеркни

и

Узнай, сколько книжек у

Алисы, если у неё 4 книги

~~было и ей подарили ещё 2~~

~~книги.~~




Задача

**ОТВЕ
Т**

РЕШЕНИЕ

УСЛОВИЕ

ВОПРОС





Подчеркни и

У кошки 3 белых котёнка и 2
~~чёрных. Сколько всего котят у~~
~~кошки?~~



Реши



$$3 + 2 = 5$$

ОТВЕТ: 5

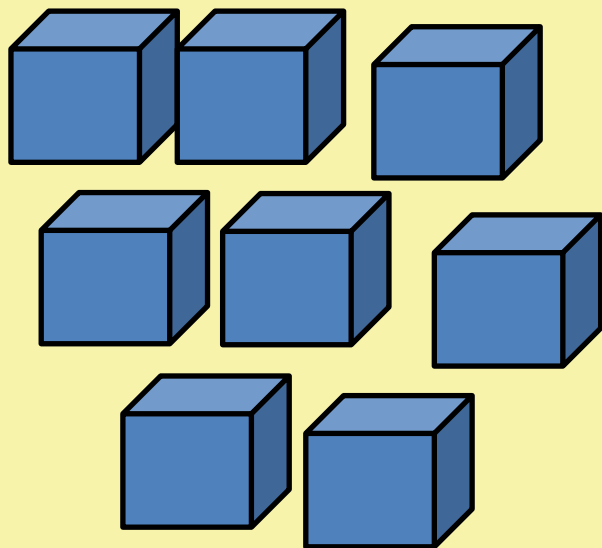
К.

Закрась

В коробке было 8 кубиков. Миша взял из коробки 2 кубика. Сколько кубиков осталось в коробке?



Реши



$$8 - 2 = 6$$

ОТВЕТ: 6

К.

Проверь

$$4 + 2 < 7$$


$$8 + 1 = 9$$

$$7 - 2 > 4$$

$$9 - 1 > 7$$

$$7 + 2 > 8$$

$$6 - 2 < 5$$




Закрась


ь

Tracing guide for the Cyrillic letter 'Ь' (soft sign). The letter is shown in blue on the left. To its right is a vertical line. Further right are two rows of colored ovals containing numbers 1, 2, and 3, indicating the stroke order for writing the letter.

1	3	2	1	1	1	1
1	2	1	2	1	1	3



Задача- шутка




Алиса купила в магазине: яблоко, огурец, апельсин и грушу. Сколько всего фруктов купила Алиса?

Задача - шутка



**Три мышки ели сыр. Прибежала
кошка и поймала одну мышку.
Сколько мышек осталось доедать
сыр?**

Задача - шутка




В двух стаканах у Знайки было по 6 орехов. Затем из одного стакана он орехи высыпал на тарелку. Где орехов больше: в первом стакане или на тарелке?

Самооценк

а

начало
урока

конец урока



ИТОГ
урока

У задачи могут быть

...

