

Урок математики в 3 классе

Автор презентации: Кадырова Ольга Игоревна,
Учитель начальных классов МАОУ СОШ №52 города Тюмени
2021



Девиз урока

Думаем-

быстр

о

Отвечаем-

правиль

но

Считаем-

точно

Пишем -

аккуратно



Помогите!

Двое подошли к реке. Лодка, на которой можно переправиться, вмещает одного человека. И все же, без посторонней помощи, они переправились на этой лодке. Как им это удалось?

Они были на разных берегах



??????

$$\begin{array}{r} + \\ \hline \begin{array}{|c|c|} \hline 3 & 5 \\ \hline 2 & 4 \\ \hline 5 & 9 \\ \hline \end{array} \end{array}$$

$$\begin{array}{r} - \\ \hline \begin{array}{|c|c|} \hline 6 & 8 \\ \hline 2 & 3 \\ \hline 4 & 5 \\ \hline \end{array} \end{array}$$

$$\begin{array}{r} 1 \\ + \\ \hline \begin{array}{|c|c|} \hline 5 & 4 \\ \hline 2 & 7 \\ \hline 8 & 1 \\ \hline \end{array} \end{array}$$

$$\begin{array}{r} \bullet \\ - \\ \hline \begin{array}{|c|c|} \hline 4 & 3 \\ \hline 1 & 5 \\ \hline 2 & 8 \\ \hline \end{array} \end{array}$$

Без перехода
через разряд



С переходом
через разряд

Тема урока

**Письменные приёмы
вычислений**



Разминка

$65 + 9 + 5 =$

$47 + 6 + 24 =$

$76 + 8 + 4 =$

$20 + 27 + 3 + 20 =$

$36 + 8 + 12 =$

$50 + 19 + 1 + 20 =$

**Вычисли в
группе**



Найди ошибки

$$\begin{array}{r} + \\ \hline \begin{array}{|c|c|} \hline 4 & 3 \\ \hline 3 & 7 \\ \hline \text{✖} & 0 \\ \hline \end{array} \end{array}$$

$$\begin{array}{r} - \\ \hline \begin{array}{|c|c|} \hline 9 & 7 \\ \hline 3 & 4 \\ \hline \text{✖} & 3 \\ \hline \end{array} \end{array}$$

$$\begin{array}{r} + \\ \hline \begin{array}{|c|c|} \hline 6 & 2 \\ \hline 2 & 3 \\ \hline 8 & 5 \\ \hline \end{array} \end{array}$$

$$\begin{array}{r} - \\ \hline \begin{array}{|c|c|} \hline 8 & 0 \\ \hline 4 & 4 \\ \hline 3 & \text{✖} \\ \hline \end{array} \end{array}$$

Ваш совет?



Составь равенства и неравенства

$18 + 2$



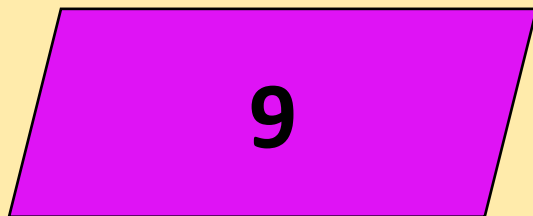
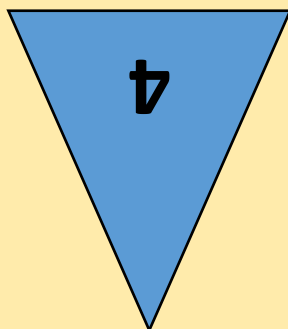

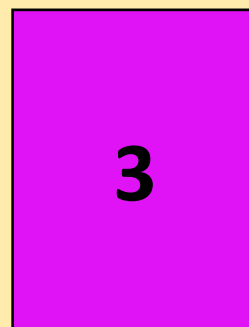

$34 - 14$


$56 - 50$

$70 - 50$



Раздели на 2 группы





Задача

Длина кита от хвоста до
головы м, а длина головы
на м меньше

16

12

$$16 - 12$$

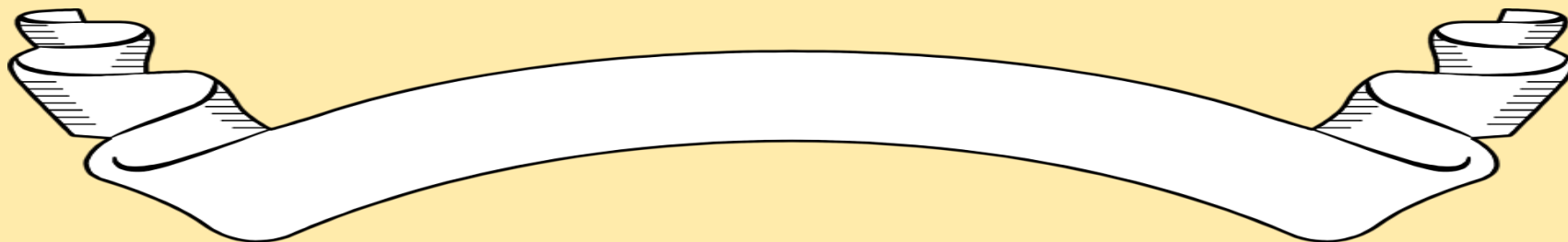


$$16 + (16 - 12)$$

Длина 33 м, вес 150
Т



Проверим логику

Красная лента короче синей, а синяя лента короче белой. Какая лента самая длинная?



Самооценка

Мне сегодня было легко на уроке, потому что ...

Мне сегодня было трудно на уроке, потому что ...



Итог урока

**Мы сегодня
повторили**

...

