



Математик

а

Представь в виде двух множителей

24, 8, 56, 54, 72, 40, 21, 36.



Вычис ли

$15:15$ $0*9$ $0:24$

$1*26$ $25-0$ $63+0$

$7*0$ $0:100$ $1*100$



**Продолжи: если 0 умножить на
число, то получится....**

**Если число разделить на 1, то
получится....**

**Если число разделить на такое
же число, то получится....**

**Если 1 умножить на число, то
получится....**

**Если 0 разделить на число, то
получится....**

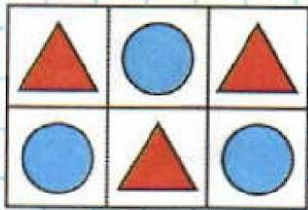
Решите задачи

Женя получил 9 пятерок, а Витя в 2 раза больше. Сколько пятерок получил Витя?

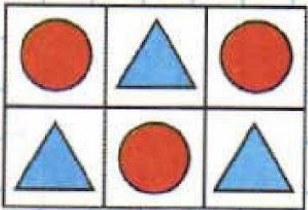
Валя пробежала дистанцию за 15 минут, а Соня на 3 минуты больше. За сколько минут пробежала Соня?

У одного цветка сирени 4 лепестка. Сколько лепестков у 5 цветков? 8 цветов? 9 цветов?

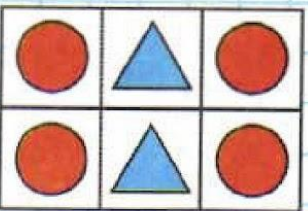




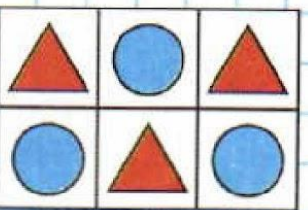
1



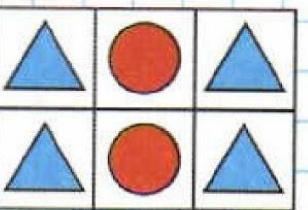
2



3




4



5

Найди два
одинаковых
рисунок



Составь задачу по рисунку



5 р.-3 шт.

2 р. – 4 шт.



Составь задачу по

рисунку



5 р.-3

2 р. – 4

шт.

? р.



Подумай, сколько действий нужно выполнить, чтобы решить эту задачу?

Решение задач в 3 действия

Узнаем, как ...
Будем решать...
Поупражняемся в
решении...



Составь задачу по рисунку



5 р.-3 шт.

2 р. – 4 шт.

? р.

