



# Математик

а

Назови

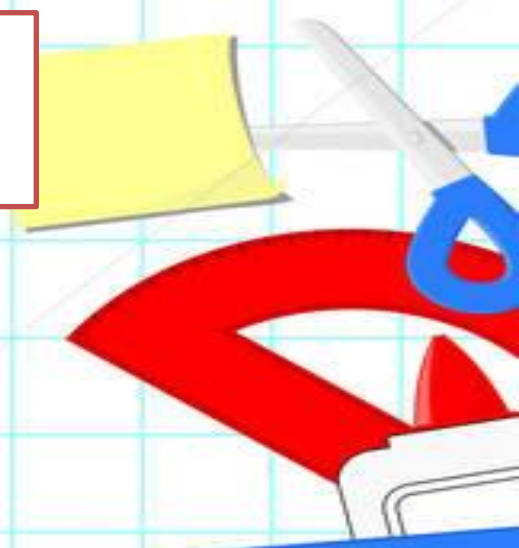
дробь

Половина

–

Треть –

Четверть–



# Назови половину от

6,12, 24,30,8

# Назови треть от числа:

6,12, 24,30,9

# Назови четверть от числа:

12, 24,30,8,20

# Вычис

$6 * 8$

$24 : 8$

$5 * 9$

$6 * 3$

$21 : 7$

$72 : 9$

$36 : 4$

$42 : 7$

$45 : 5$

$18 : 2$

$9 * 8$

$4 * 5$

# Ответ на

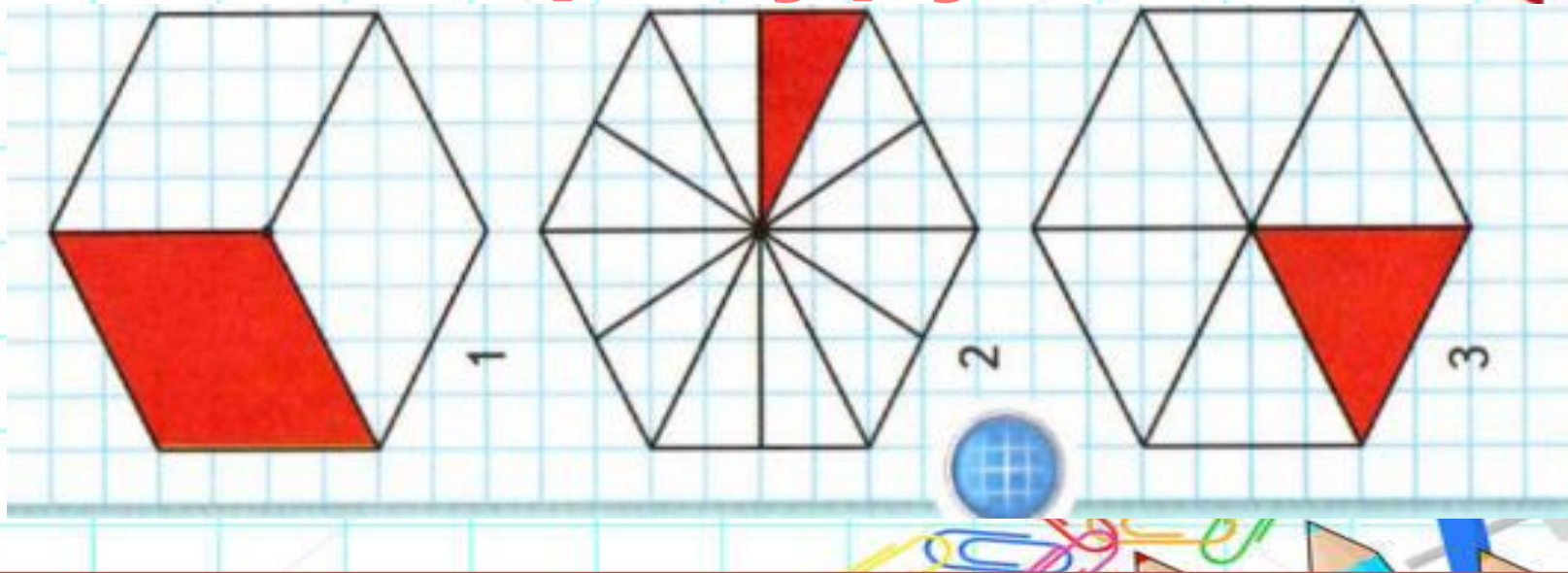
## вопросы

	Девочки	Мальчики
Поделки из бумаги	17	15
Рисунки	14	17
Поделки из прир. материалов	16	18

1. Сколько рисунков было на выставке?
2. Сколько поделок из природного материала и рисунков сделали девочки?
3. Сколько поделок было из бумаги?
4. Сколько поделок из природного материала и рисунков сделали мальчики?
5. Сколько всего изделий принесли мальчики?
6. Сколько всего изделий принесли девочки?


На сколько частей  
поделили каждую

фигуру?



Назови дроби для каждого  
случая

# Реши



В поезде 12 вагонов. Треть всех вагонов – плацкартные. Сколько плацкартных вагонов?



# Нахождение числа по его доле.

Узнаем, как находить...  
Будем находить...  
Поупражняемся в  
решении...

