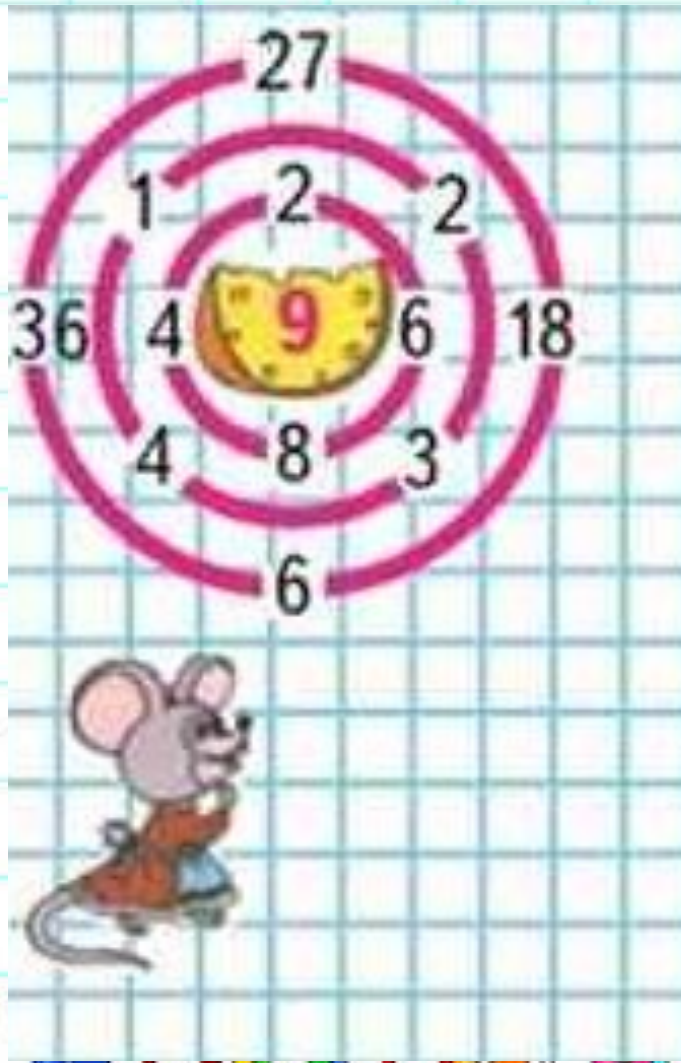


The background features a light blue grid pattern. In the top right corner, there is a yellow sticky note, a pair of blue-handled scissors, and a red protractor. In the bottom right corner, there are several colored pencils in various colors (red, blue, green, yellow, purple, orange). In the bottom center, there are several colorful paper clips (yellow, blue, pink, green).

Математик

а


Помоги мышке пройти лабиринт





Уменьши на

13, 27, 43, 94, 85.



Уменьши в 8

32, 48, 24, 45, 80, 56.



Реши

В один ящик помещается 12 килограммов груш. Сколько килограммов груш нужно, чтобы заполнить 6 ящиков?

$$12 * 6 = 72 \text{ (кг)}$$

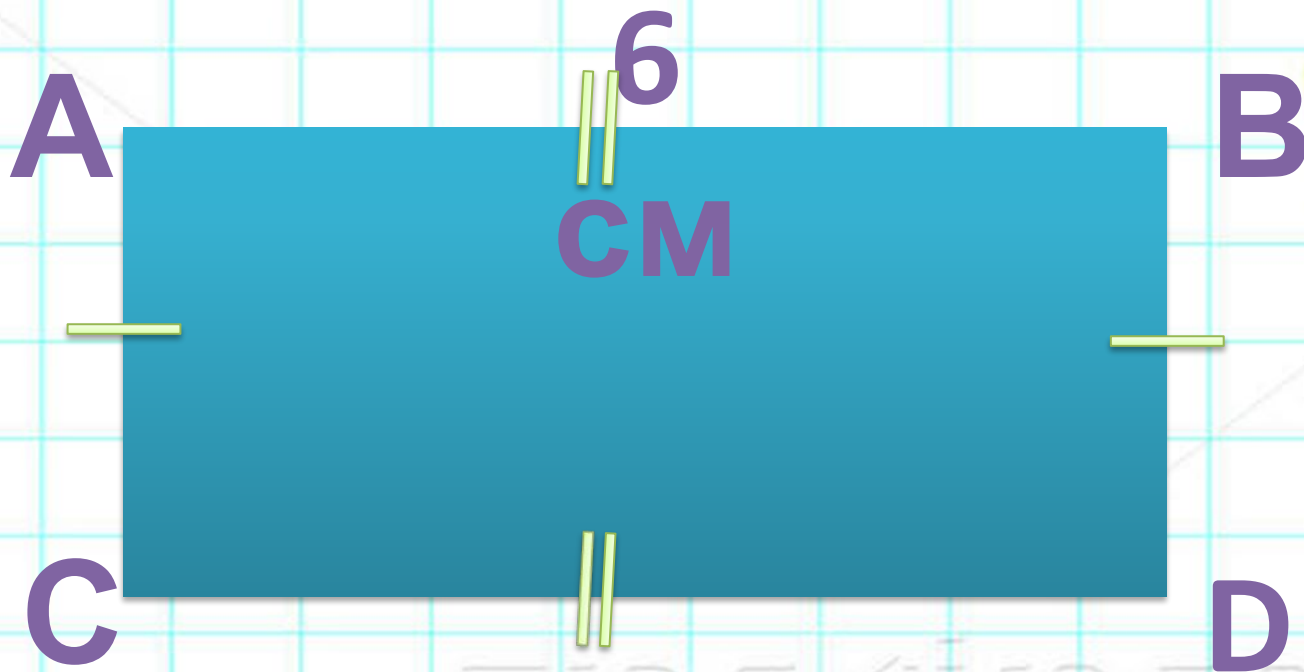
Ответ: 72 кг

груш.

У Жени было 30 рублей. Сколько ручек он купил, если одна ручка стоит 3 рубля?

$$30 : 3 = 10 \text{ (р.)}$$

Ответ: 10 ручек купил



$$a = 6 \text{ cm}$$

$$b = ? \text{ cm}$$

$$P = 14$$

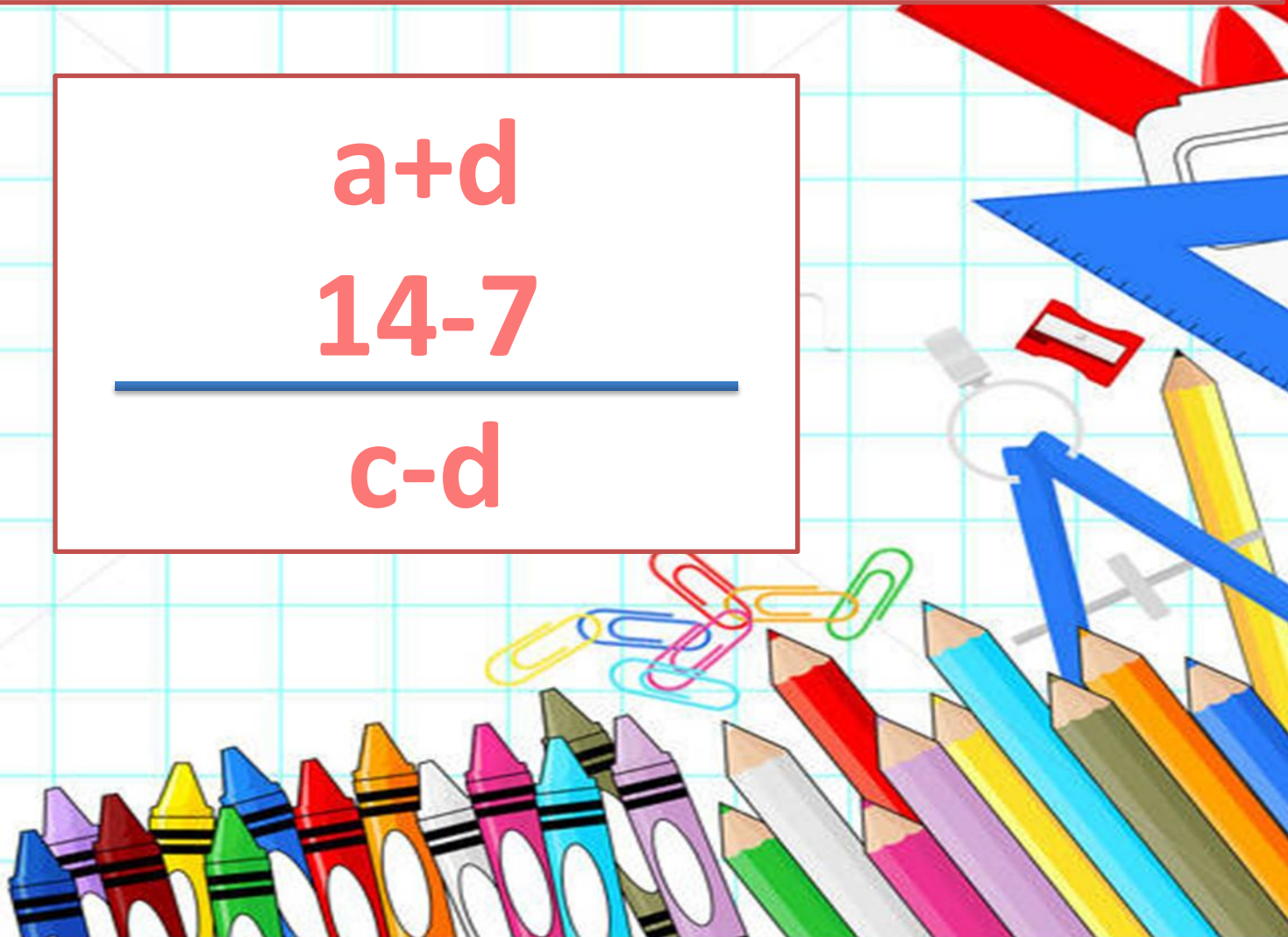
CM

Рассмотрите выражения. Найдите лишнее

$a+d$

$14-7$

$c-d$



Буквенные выражения

Вспомним, что...

Будем находить
значение...

