


Урок математики во 2 классе

Автор презентации: Кадырова Ольга Игоревна,
Учитель начальных классов МАОУ СОШ №52 города Тюмени
2021



Тема урока

**Таблица умножения
на 3**

Часть 1

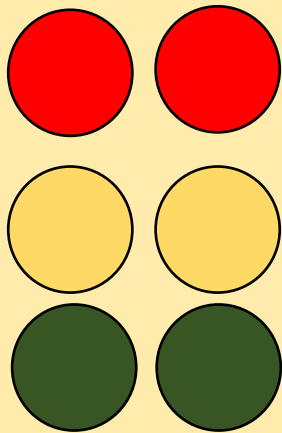


Настрой на
урок


Мне нравится
цифра 3 ...



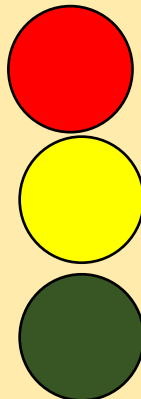
Составим таблицу




$$3 \times 2 = 6$$



$$3 \times 3 = 9$$



$$3 \times 4 = 12$$



$$3 \times 5 = 15$$



$$3 \times 2 = 6$$

Что трижды два равно **6**...,
Ответ в шпаргалке
подглядим!

2 x 1= 2	3 x 1= 3	4 x 1= 4	5 x 1= 5	6 x 1= 6	7 x 1= 7	8 x 1= 8	9 x 1= 9
2 x 2= 4	3 x 2= 6	4 x 2= 8	5 x 2= 10	6 x 2= 12	7 x 2= 14	8 x 2= 16	9 x 2= 18
2 x 3= 6	3 x 3= 9	4 x 3= 12	5 x 3= 15	6 x 3= 18	7 x 3= 21	8 x 3= 24	9 x 3= 27
2 x 4= 8	3 x 4= 12	4 x 4= 16	5 x 4= 20	6 x 4= 24	7 x 4= 28	8 x 4= 32	9 x 4= 36
2 x 5= 10	3 x 5= 15	4 x 5= 20	5 x 5= 25	6 x 5= 30	7 x 5= 35	8 x 5= 40	9 x 5= 45
2 x 6= 12	3 x 6= 18	4 x 6= 24	5 x 6= 30	6 x 6= 36	7 x 6= 42	8 x 6= 48	9 x 6= 54
2 x 7= 14	3 x 7= 21	4 x 7= 28	5 x 7= 35	6 x 7= 42	7 x 7= 49	8 x 7= 56	9 x 7= 63
2 x 8= 16	3 x 8= 24	4 x 8= 32	5 x 8= 40	6 x 8= 48	7 x 8= 56	8 x 8= 64	9 x 8= 72
2 x 9= 18	3 x 9= 27	4 x 9= 36	5 x 9= 45	6 x 9= 54	7 x 9= 63	8 x 9= 72	9 x 9= 81
2 x 10= 20	3 x 10= 30	4 x 10= 40	5 x 10= 50	6 x 10= 60	7 x 10= 70	8 x 10= 80	9 x 10= 90

$$3 \times 3 = 9$$


Кофе пили три букашки
И разбили по три чашки.
Что разбито, то не склеить.
Трижды три - выходит

9




$$3 \times 4 = 12$$

Три на четыре умножая,
Я циферблат воображаю
И представляю я тотчас,
Как бьют часы **12** раз.



$$3 \times 5 = 15$$

Школьник стал писать в тетрадь:
Сколько будет "трижды пять"?
Был он страшно аккуратен:
Трижды пять - **15** пятен!



Рыбалка



Сравни

$3 \times 4 \quad 3 \times 3 + 3$




$3 \times 5 - 3 \quad 3 \times 4$






$3 \times 2 + 3 \quad 3 \times 5$

$3 \times 3 - 3 \quad 3 \times 4$

Лишнее?




Задача



Придумайте задачи



$$3 \times 4 = 12$$



$$3 \times 5 = 15$$

Задача-шутка

Пришёл мельник на мельницу. В каждом углу по 3 мешка, на каждом мешке по 3 кошки, у каждой кошки по 3 котёнка. Сколько ног?

2 ноги, остальные
лапы







Самооценк а

Немного
путаюсь!



Всё
знаю!



Очень
сложно!



Итог урока

Мы начали составлять

...

Рекомендую ...

