

# Урок математики во 2 классе



Автор презентации: Кадырова Ольга Игоревна,  
Учитель начальных классов МАОУ ООШ №52 города Тюмени  
2020

Девиз  
урока

На уроке не болта  
й

Рассуждай и убежда  
й

Здесь не нужен шум и га  
м

Все задания решай ты лучше сам  
!



Угадайте моё  
имя!

Сентябрина  
а



**Счёт 100, 90, ...**



# Вычисли

90

-30

+20

-10

-50

+40

60



# Лишний пример?

$30 + 10$

$60 - 10$

$32 - 30$

$30 + 2$

$80 - 30$

$9 - 4$

$50 + 10$

$32 - 2$

$8 - 5$

$70 + 20$

$90 - 50$

$6 - 3$



**Тема урока**

**Сложение и  
вычитание примеров  
вида**

$$30 + 2$$

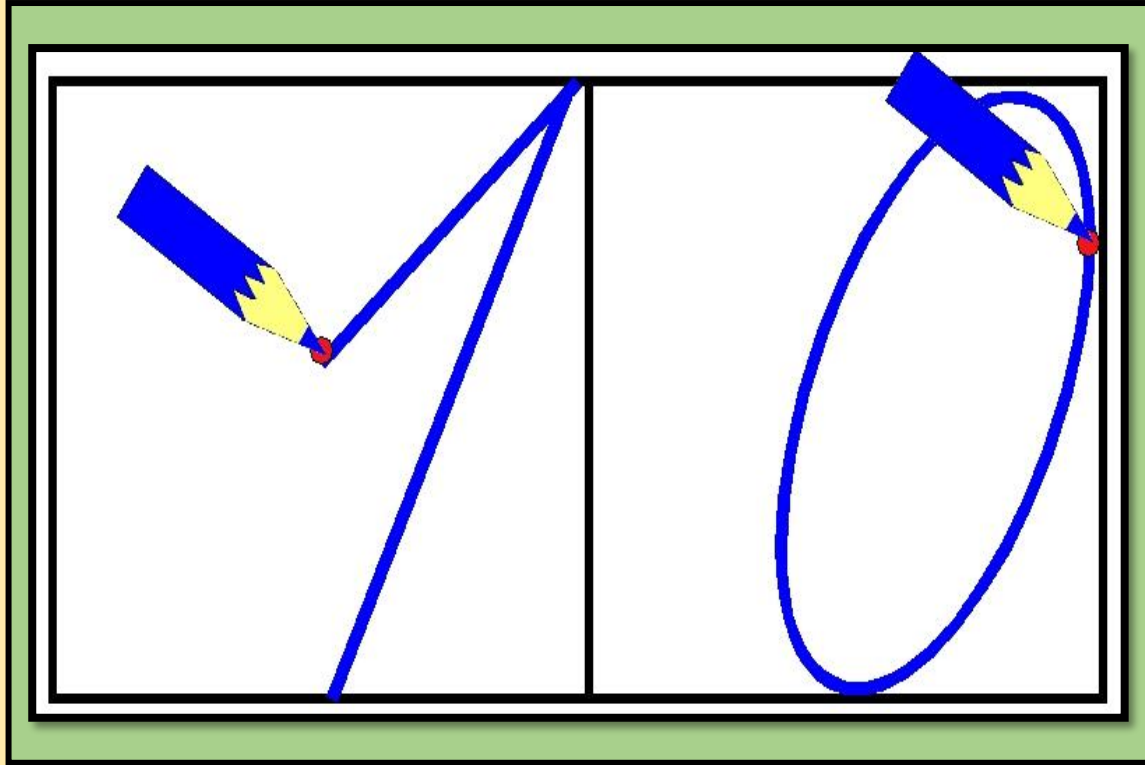
$$32 - 2$$

$$32 - 30$$



# Чистописание

## ие





# Объясни

## и



$$30 + 2 = 32$$



# Объясни

## и

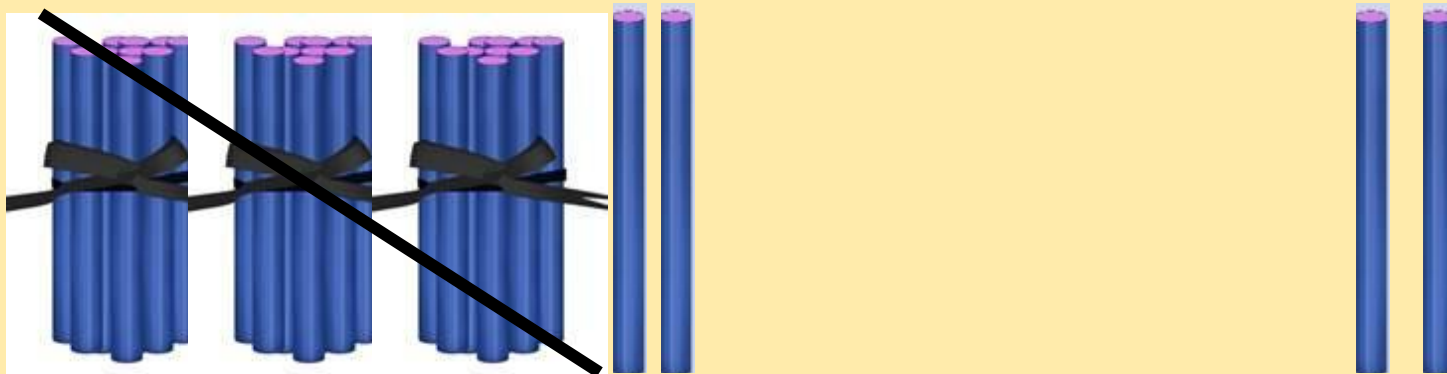


$$32 - 2 = 30$$



# Объясни

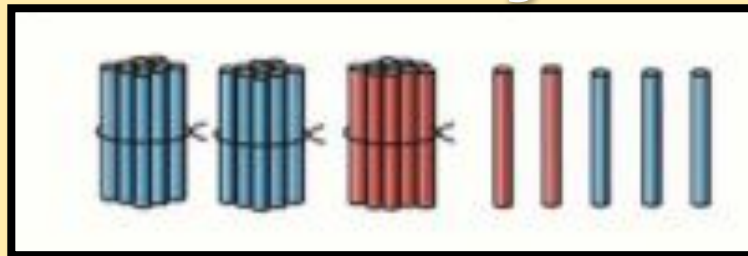
и



$$32 - 30 = 2$$



Объясни  
классу!



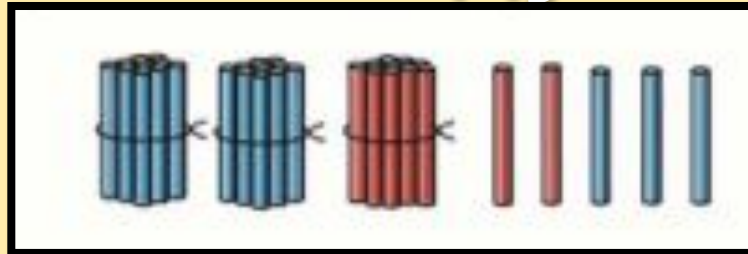
$$30 + 5 = 35$$

$$35 - 5 = 30$$

$$35 - 30 = 5$$



Объясни  
соседу!



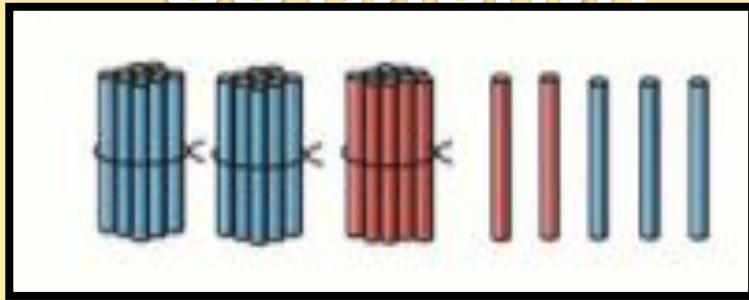
$$10 + 2 = 12$$

$$12 - 2 = 10$$

$$12 - 10 = 2$$



Найди пару,  
объясни!



$$3 + 20 = 23$$

$$23 - 3 = 20$$

$$23 - 20 = 3$$



# Работа в группах




# Гимнастика для мозга





?????



# Самопровер ка

$$40 + 3 = 43$$

$$24 - 20 = 4$$

$$57 - 7 = 50$$

$$55 - 5 = 50$$

$$39 - 30 = 9$$

$$10 + 7 = 17$$

$$6 + 70 = 76$$

$$19 - 9 = 10$$



Уменьши на

10

45

67

89



Увеличь на

30

27

53

18



## Задача

Сентябрина нарисовала 7 рисунков карандашом и 4 рисунка красками. На выставку у неё взяли 2 рисунка, выполненные карандашом. Сколько рисунков осталось у Сентябрины?

Как бы вы  
решили?



Найди  
ошибки

$$60 + 3 = 63$$

$$63 - 3 = 60$$

$$63 - 60 = 3$$



Начало урока

Самооценк  
а

Конец урока



**Продолжи  
фразу**

**Я теперь умею  
решать примеры**

...

