


Урок математики во 2 классе



Автор презентации: Кадырова Ольга Игоревна,
Учитель начальных классов МАОУ СОШ №52 города Тюмени
2021

Девиз урока

Всё что знаем -....

обобщим

На уроке не - ...

молчим

Руку чаще

поднимаем

На вопросы ...

отвечаем!



Тема урока

Умножение и деление

**ПОВТОРЕН
ИЕ**



Соревнование по рядам

$4 \times 6 = 24$

$6 \times 5 = 30$

$6 \times 8 = 48$



Правило

Если значение
произведения разделить на
один из множителей, то
получится другой
множитель



Заполни

множитель	2			5	4	
множитель	6	3	7	5		
произведе ние		9	70		40	



Поработайте в группах



множитель	2		2	4	
множитель	7	3			3
произведе ние		6	8	12	15



Вычисли удобным способом

$$2 + 43 + 7 + 8 =$$

60

$$1 + 46 + 4 + 9 =$$

$$15 + 25 + 13 + 27 =$$

80

$$35 + 5 + 16 + 24 =$$

$$11 + 46 + 4 + 39 =$$

100

$$12 + 43 + 7 + 38 =$$



Реши и
проверь!

$$73 - x = 70$$

$$x = 3$$

$$35 + x = 40$$

$$x = 5$$

$$x - 6 = 24$$

$$x = 6$$



Разминка

Запиши все двухзначные числа с цифрами
3, 5, 6

33

35

36

53

55

56

63

65

66



Найди значение выражения

$$a + 40$$

$$a = 60$$

$$a = 38$$

$$a = 7$$



Задача

Лиана разложила 10 конфет в две кучки поровну. Сколько конфет в одной кучке?

$$10 : 2 = 5(\text{к.})$$

Ответ: 5 конфет в одной кучке



Задача

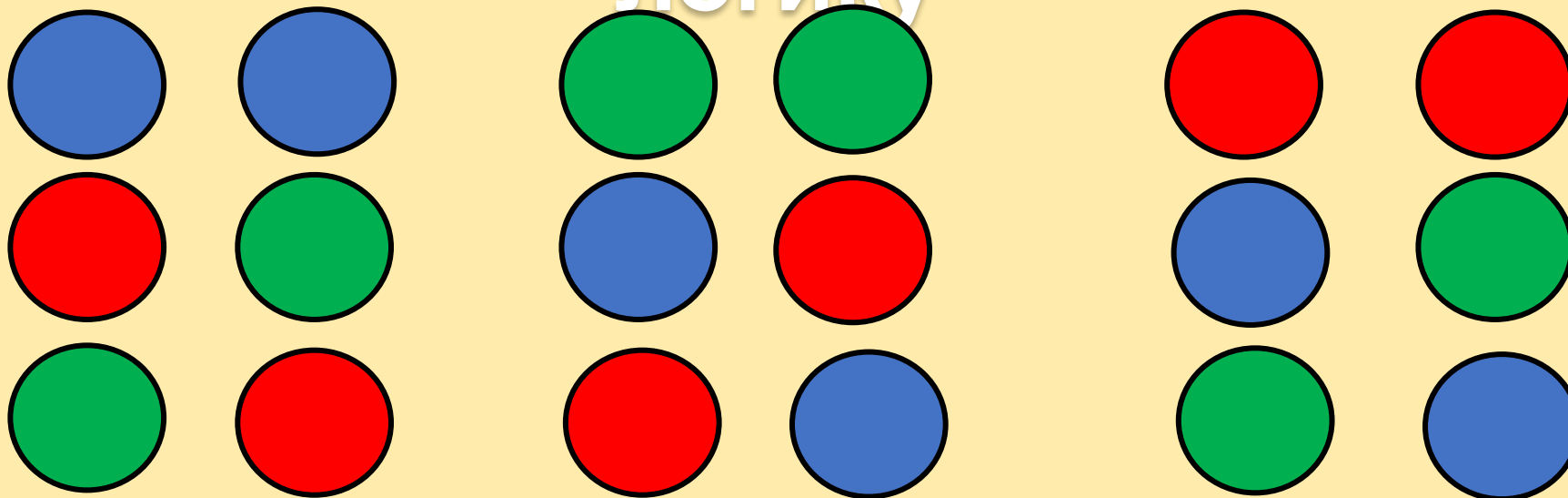
В одной книге у Даниэля 10 страниц.
Сколько у него страниц в пяти таких
книгах?

$$10 \times 5 = 50(\text{стр.})$$


Ответ: 50 страниц в пяти таких
книгах



Проверим ЛОГИКУ



Сколькими
способами я могу
сложить
пирамиду?



Самооценка



примеры



задачи



уравнения

Итог урока

Самое лёгкое задание

Самое сложное задание

Самое интересное
задание

