

Урок математики во 2 классе



Автор презентации: Кадырова Ольга Игоревна,
Учитель начальных классов МАОУ СОШ №52 города Тюмени
2021

Настрой на
урок

Так хочется

...



6

$$2 \times 4 - 2$$

$$2 \times 5 - 4$$

$$2 \times 6 - 6$$

$$2 \times 7 - 8$$

Разминка

$$2 \times 3 + 2$$

$$2 \times 4 - 2$$

$$2 \times 5 - 4$$

$$2 \times 2 + 4$$

$$2 \times 6 - 6$$

$$2 \times 7 - 8$$

8

$$2 \times 3 + 2$$

$$2 \times 2 + 4$$



Задача

У клоуна в одной руке 6 шаров, в другой 2 шара. Сколько всего у клоуна шаров?



$$6 + 2 = 8(\text{ш.})$$

Задача

У клоуна 6 шаров, 2 шара улетели. Сколько шаров осталось?



$$6 - 2 = 4(\text{ш.})$$

Задача

У клоуна 2 связки шаров, по 6 штук в каждой. Сколько всего шаров у клоуна?



$$2 \times 6 = 12(\text{ш.})$$


Задача

У клоуна 12 шаров в двух руках поровну. Сколько шаров в каждой руке?

$$12 : 2 = 6(\text{ш.})$$



Придумай задачу





$$6 : 2 = 3(\text{м.})$$

Тема урока

Решение задач на деление на равные части



Задача



$$6 : 3 = 2(\text{яб.})$$

**Сделай рисунок,
реши**

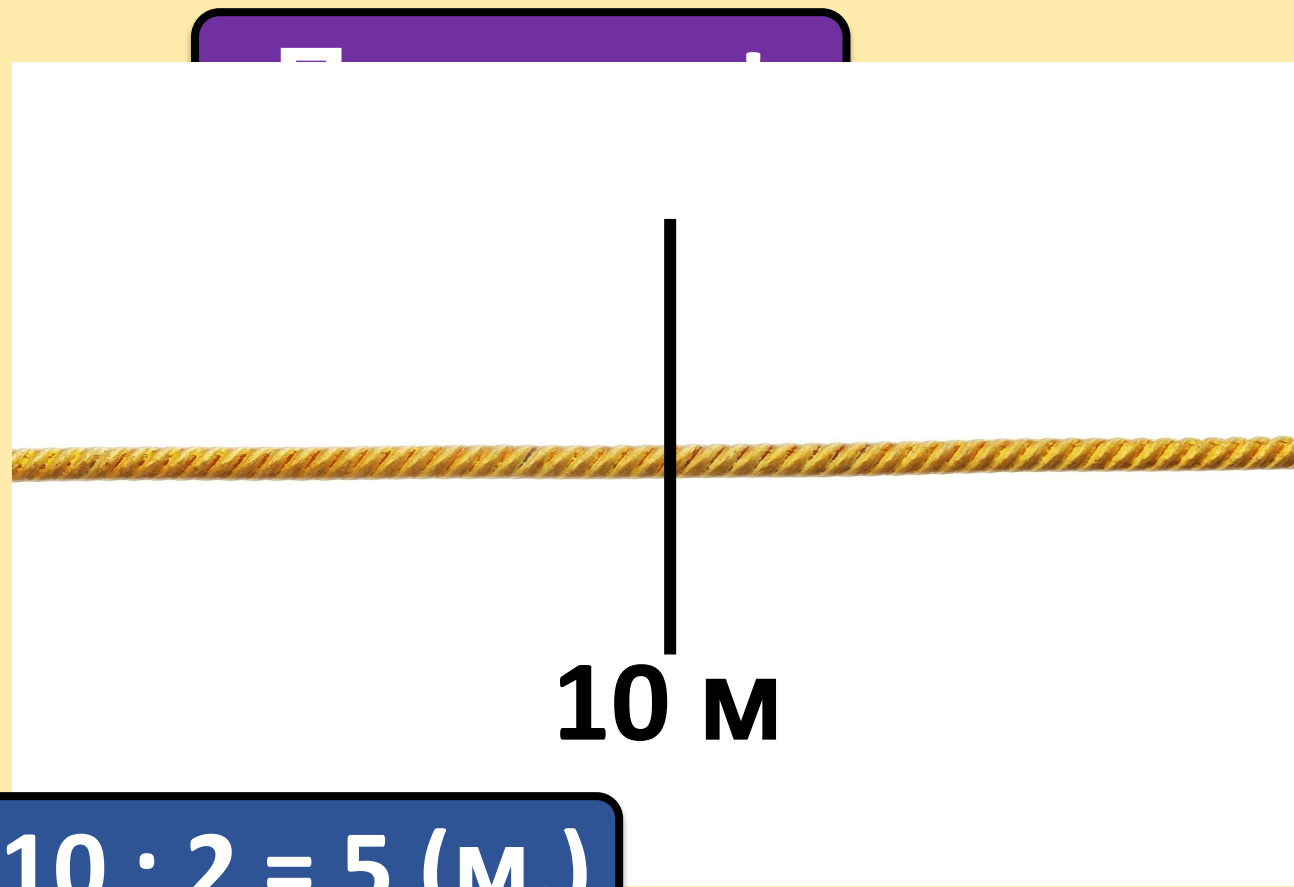
**Клоун разрезал верёвку длиной 10 м
на 2 одинаковые части. Сколько
метров длина каждой верёвки?**



Реши в группе



$$10 : 2 = 5 \text{ (M.)}$$



10 M


**Сделай рисунок,
реши**

**Клоун разложил 12 мячей на пары.
Сколько пар получилось?**



Реши в паре

Проверь!



$$12 : 2 = 6 \text{ (п.)}$$


**Сделай рисунок,
реши**

**Клоун раздал 8 детишкам по 2
конфеты каждому. Сколько детишек
получили конфеты?**



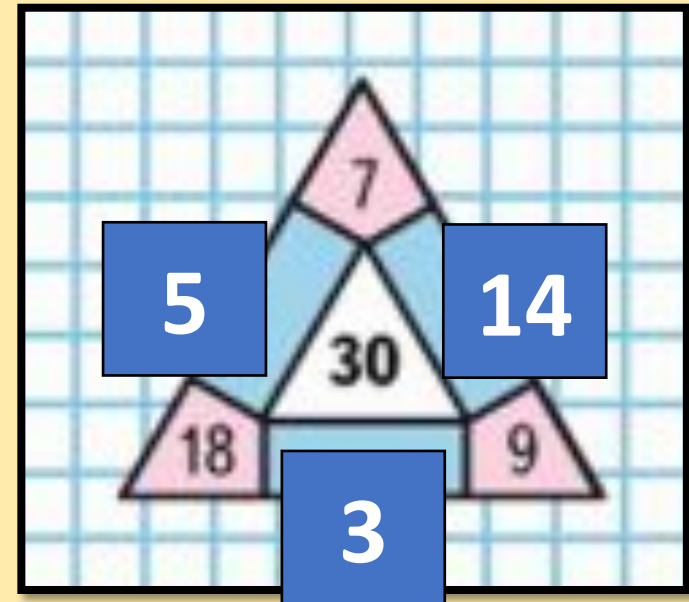
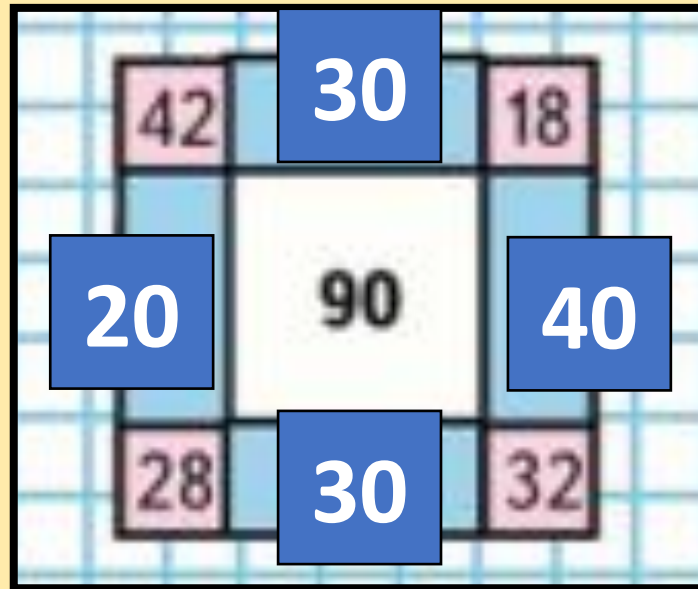
Реши сам

Проверь!




$$8 : 2 = 4 \text{ (д.)}$$

Занимательные рамки



Самооценк а



Итог урока

Я могу похвалить

...

