



# Урок математики во 2 классе

Автор презентации: Кадырова Ольга Игоревна,  
Учитель начальных классов МАОУ СОШ №52 города Тюмени  
2021



Настрой на  
урок

Ужасно  
интересно всё  
НЕИЗВЕСТ  
НО



# Задач и

Прямоугольник начертил один отрезок длиной 6 см, а другой на 2 см больше. Чему равен другой отрезок?


$$6 + 2 = 8 \text{ (см)}$$



У прямоугольника на одном диване 6 подушек. Сколько подушек на двух таких же диванах?


$$6 \times 2 = 12 \text{ (п.)}$$

**Проверим, умеете  
ли вы решать  
задачи!**




Тема  
урока

**Периметр  
прямоугольника**



**Что про меня вы  
знаете?**



Найти ...

5 см



3 см

$$5 + 3 + 5 + 3 = 16$$

(см)

$$5 \times 2 + 3 \times 2 = 16$$

(см)

$$(5 + 3) \times 2 = 16 \text{ (см)}$$



Найди Р

4 см



2 см


$$4 + 2 + 4 + 2 = 12$$

(см)

$$4 \times 2 + 2 \times 2 = 12$$


(см)

$$(4 + 2) \times 2 = 12 \text{ (см)}$$





**Начерти прямоугольник со сторонами 3 см и 6 см, вычисли периметр разными способами**



Выведи  
формулу

**a**



**b**

$a + b + a + b$

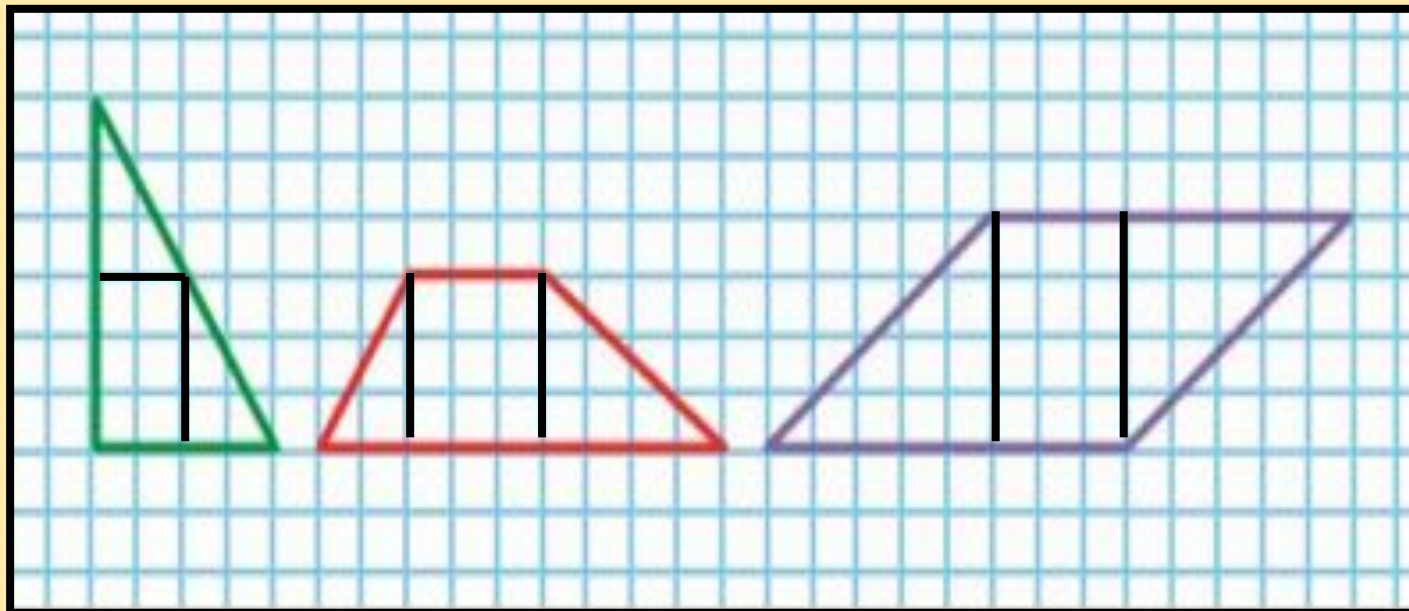
$a \times 2 + b \times 2$

$(a + b) \times 2$



Проведи 2 отрезка, чтобы

получить  
1 прямоугольник и 2  
треугольника



# Составь задачу

было

?

использова


5 кг и 6 кг

ли  
осталос

30 кг

ь

$$5 + 6 + 30 = 41 \text{ (кг)}$$



# Составь задачу

было

12 кг

купили


?

стало

50 кг

$$50 - 12 =$$

38(кг)



**К - 8**

**Реши**


**К + 8**

**К = 14**

**К = 36**


**К = 58**

**К = 90**




# Самооценк а


**Почти  
ясно!**



**Помогите  
!**



**Всё  
понятно!**



# Итог урока

Теперь я ещё  
знаю...

