



# Урок математики во 2 классе



Автор презентации: Кадырова Ольга Игоревна,  
Учитель начальных классов МАОУ СОШ №52 города Тюмени  
2021

**Настрой на  
урок**


**Сегодня день  
доброты и я всем  
желаю...**



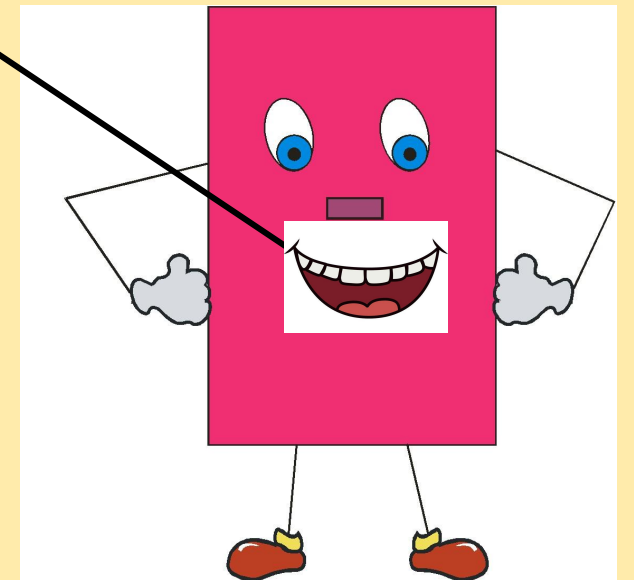
Тема  
урока

**Противоположные  
стороны  
прямоугольника**

**Закрепление**



**Что вы про  
меня уже  
знаете?**




Найдите  
периметр

6 см




4 см



## Задача


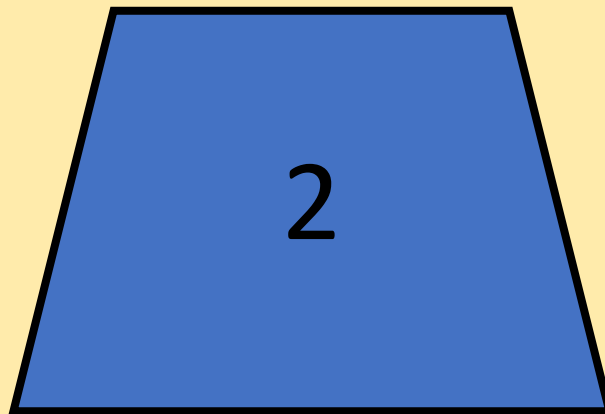
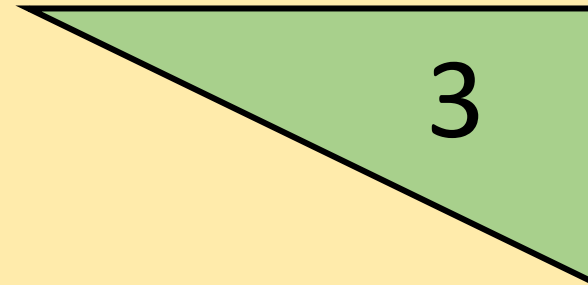

Длина комнаты 7 м, ширина 5 м. На полу решили сделать плинтус. Узнайте, какой длины он будет.



$$7 + 5 + 7 + 5 = 24(\text{м})$$

Дополни до

...




# Найди ошибки

$$\begin{array}{r} + \\ \begin{array}{|c|c|} \hline 3 & 8 \\ \hline 2 & 2 \\ \hline \hline 5 & 0 \\ \hline \end{array} \end{array}$$

$$\begin{array}{r} - \\ \begin{array}{|c|c|} \hline 6 & 0 \\ \hline 3 & 3 \\ \hline \hline 3 & 3 \\ \hline \end{array} \end{array}$$

$$\begin{array}{r} - \\ \begin{array}{|c|c|} \hline 8 & 1 \\ \hline 5 & 4 \\ \hline \hline 2 & 6 \\ \hline \end{array} \end{array}$$






# Вычисли

$$36 + 18 + 2 + 4 = 60$$

$$27 + 6 + 14 + 3 = 50$$



$$17 + 20 + 40 + 3 = 80$$

$$29 + 50 + 1 + 20 = 100$$



# Проверим логику

**Выложите 5 спичек так, чтобы  
одновременно образовались  
1 пятиугольник, 1 четырёхугольник  
и 1 треугольник**



# Замени суммой одинаковых слагаемых


4

8

10

14


18



# Итог урока

Я  
могу....

Я  
умею....



Я  
объясню....

Я знаю..

Я научу...