

Урок математики во 2 классе



Автор презентации: Кадырова Ольга Игоревна,
Учитель начальных классов МАОУ ООШ №52 города Тюмени
2020

Девиз урока

Думаем - ...

Отвечаем -
...

Считаем - ...

Пишем - ...

быстр



правильн



точн



красив



Определи время



Найди Р

7 см

3 см



3 см

7 см

$$7 + 3 + 7 + 3 = 20$$

(см)



Найди Р

6 см

7 см

4 см

$$6 + 4 + 7 = 17$$

(см)



Задача

Дачный участок имеет форму квадрата со стороной 10 м, хозяин решил сделать забор. Какой длины получится забор?



$$10 + 10 + 10 + 10 = 40 \text{ (м)}$$

?????

$$60 + 5 + 30$$

$$27 + 10 + 3$$

$$8 + 24 + 2 + 6$$



Тема урока

**Свойства
сложения**

Закрепление



Вычисли удобным способом

$$7 + 1 + 3 + 9 =$$

20

$$18 + 7 + 3 + 2 =$$

30

$$6 + 5 + 5 + 4 =$$

20

$$6 + 4 + 13 + 7 =$$

30



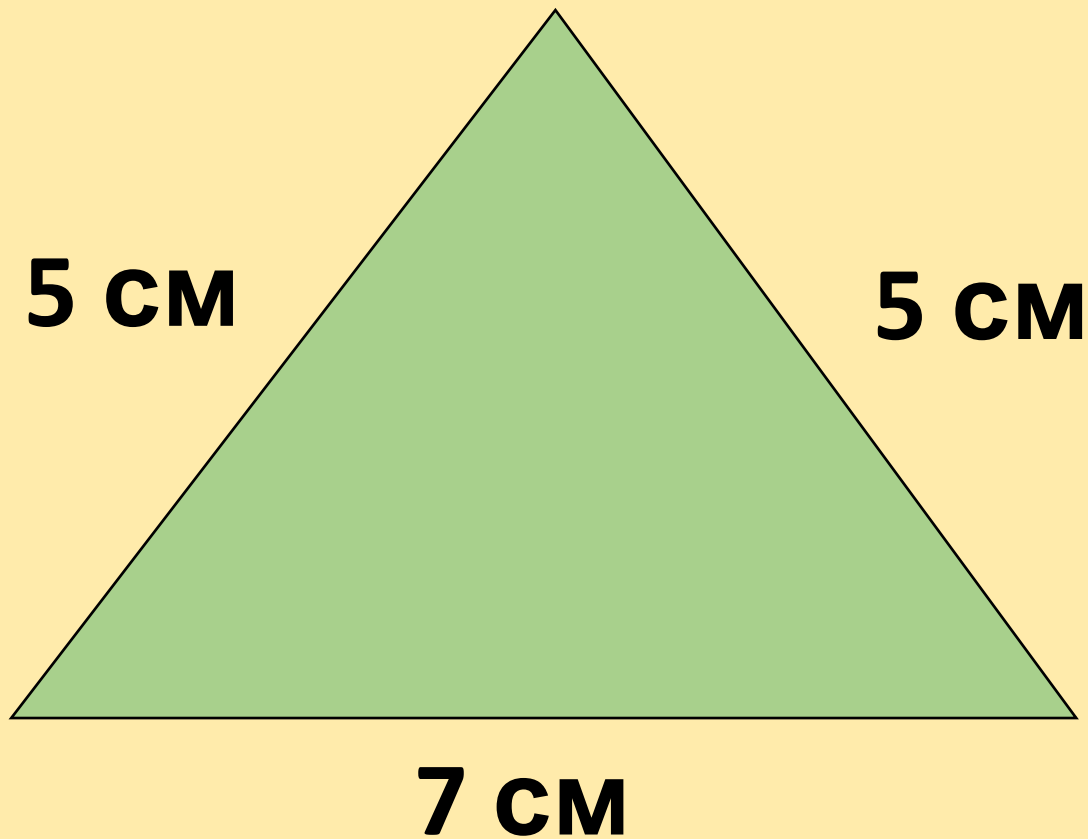
**Закончи
фразу**

**От перестановки
слагаемых,**

**значение суммы не
изменится**



Найди Р



$$5 + 5 + 7 = 17$$

(см)

Поставь скобки

$$13 - 9 - 4 = 0$$

$$14 - 5 + 4 = 5$$

$$11 - 3 + 4 = 12$$

$$12 - 3 + 1 = 8$$



ВЫЧИСЛИ

$$20 + 8 + 60 + 2 = 90$$

$$70 + 10 + 16 = 96$$

$$40 + 1 + 9 + 50 = 100$$

$$20 + 5 + 5 + 30 = 60$$



Придумай задачу

30 мин.

20 мин.



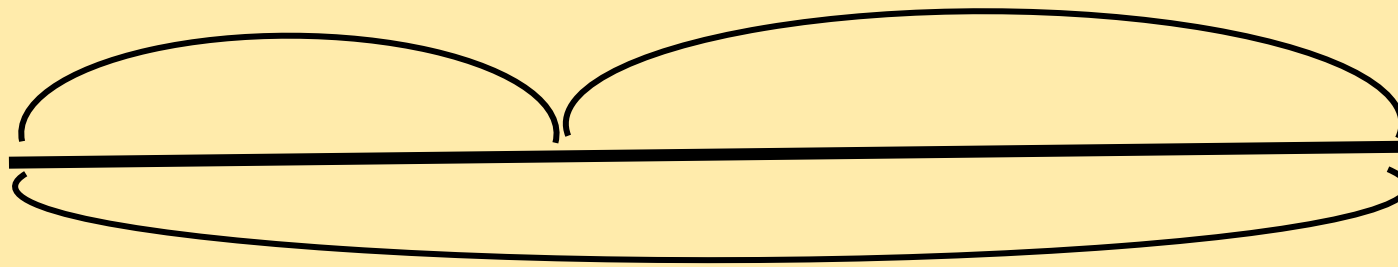
? мин.



Задача

30 мин.

? мин.




50 мин.



Задача

? МИН.

20 МИН.

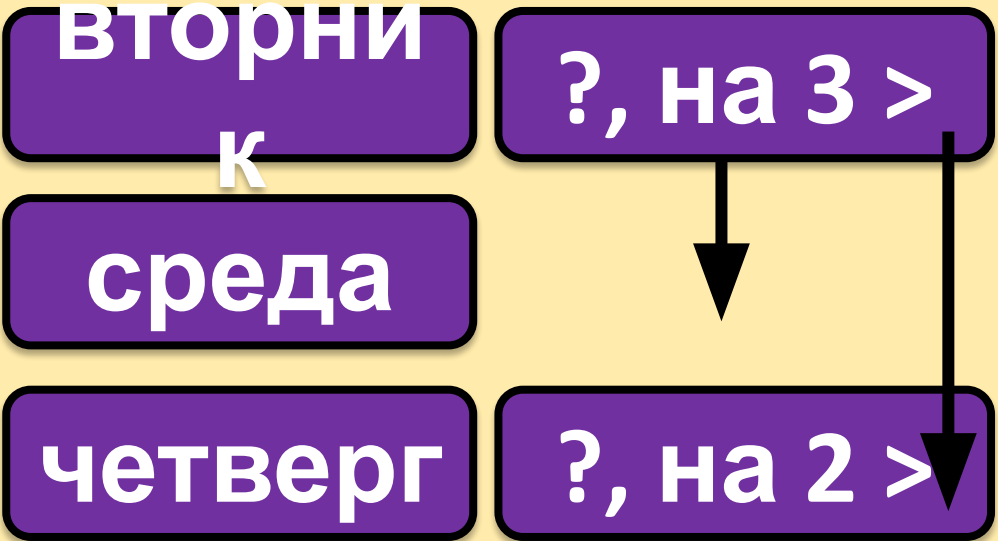


50 МИН.



Задача

Во вторник Дима принёс на 3 пятёрки больше, чем в среду, и на 2 пятёрки больше, чем в четверг. В какой день Дима, в среду или четверг принёс больше пятёрок?



Самооценк а



Итог урока

Самое лёгкое задание

...

Самое сложное задание

...

Самое интересное задание

...

