

Урок математики во 2 классе

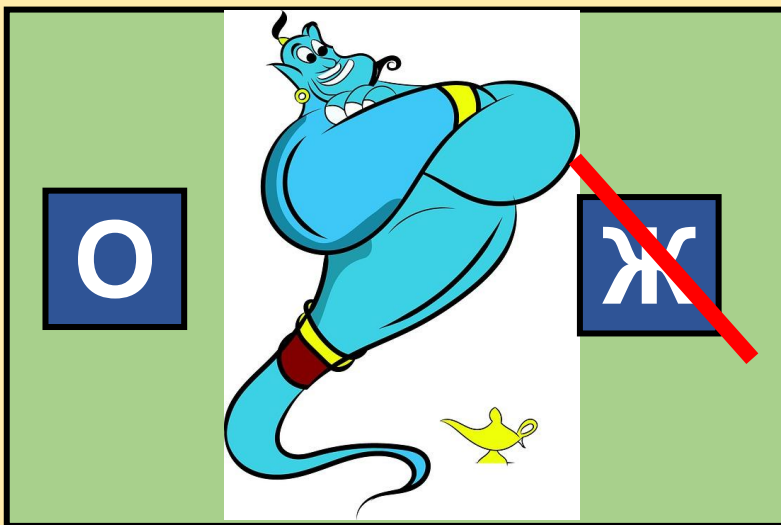
Автор презентации: Кадырова Ольга Игоревна,
Учитель начальных классов МАОУ ООШ №52 города Тюмени
2020

Настрой на
урок

На лице она
цветёт,
От радости



Ребусы



ОДИН



СТО



Тема
урока

Числа от 1 до
100

Повторени
е



?????

$$5 + 8$$

$$7 + 6$$

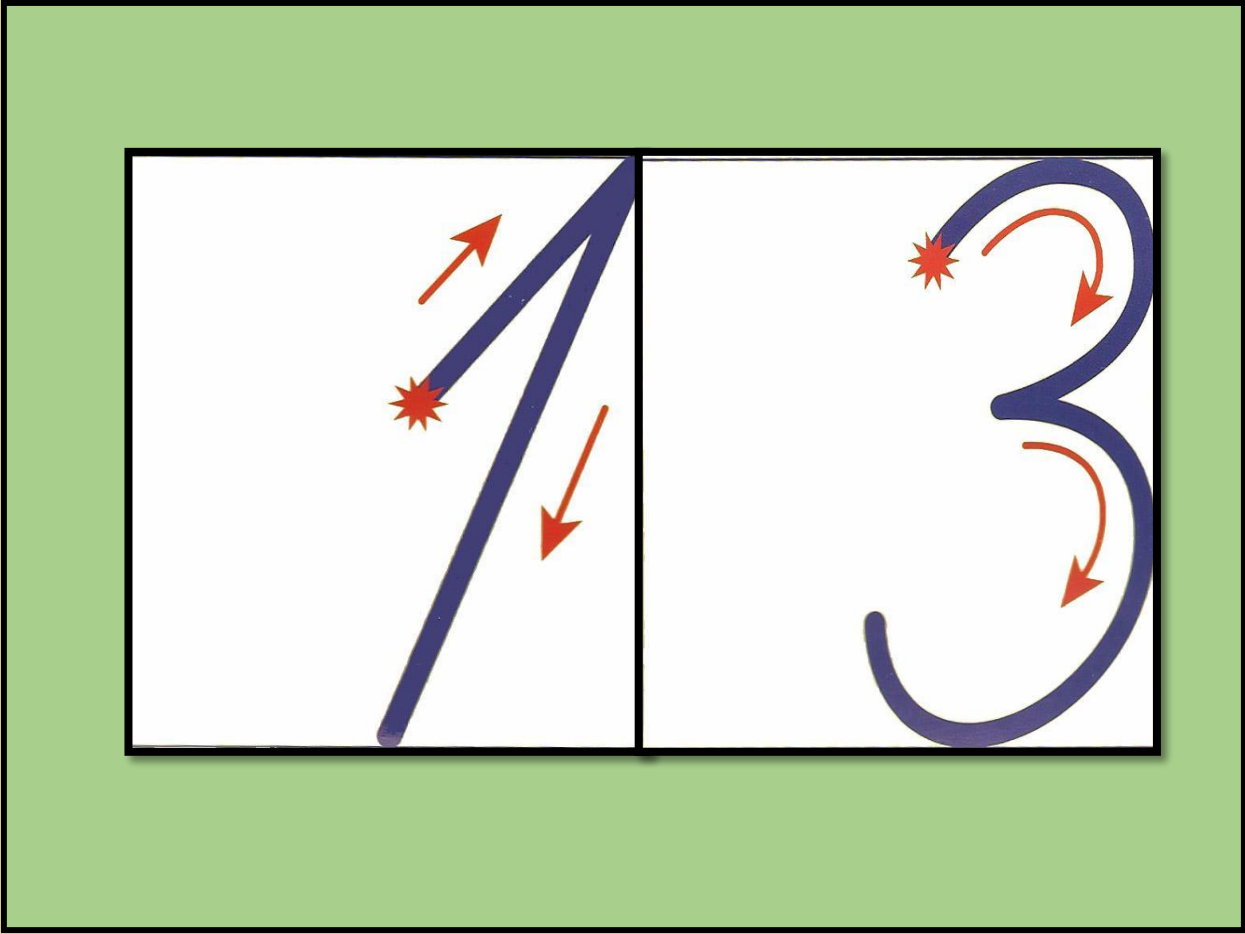
$$6 + 8$$

$$9 + 4$$

$$10 + 3$$



Чистописан ие



13

9

4

7

6

5

8

10

3



**Тест «Проверим
себя и оценим
СВОИ
ДОСТИЖЕНИЯ»**

10 – 11 б.



6 – 9 б.



1 – 5 б.





Соревнование по рядам



$8 \dots 3 \dots 4 =$

9

$9 \dots 2 \dots 1 =$

8

$7 \dots 6 \dots 8 =$

9

$9 \dots 2 \dots 5 =$

2

$7 \dots 3 \dots 1 =$

3

$8 \dots 3 \dots 4 =$

1

$2 \dots 4 \dots 3 =$

9

$1 \dots 2 \dots 5 =$

8

$3 \dots 2 \dots 3 =$

8

Взаимопровер ка

$$8 + \dots 7 - \dots 5 =$$

10

$$8 - \dots 7 + \dots 5 = 6$$

$$14 - \dots 10 + \dots 6 =$$

10

$$12 - \dots 2 + \dots 8 = 18$$



Кто
быстрее?

$$8 + 6 - 10 =$$

$$9 + 3 - 2 =$$

$$18 - 10 + 7 =$$

$$19 - 9 + 2 =$$

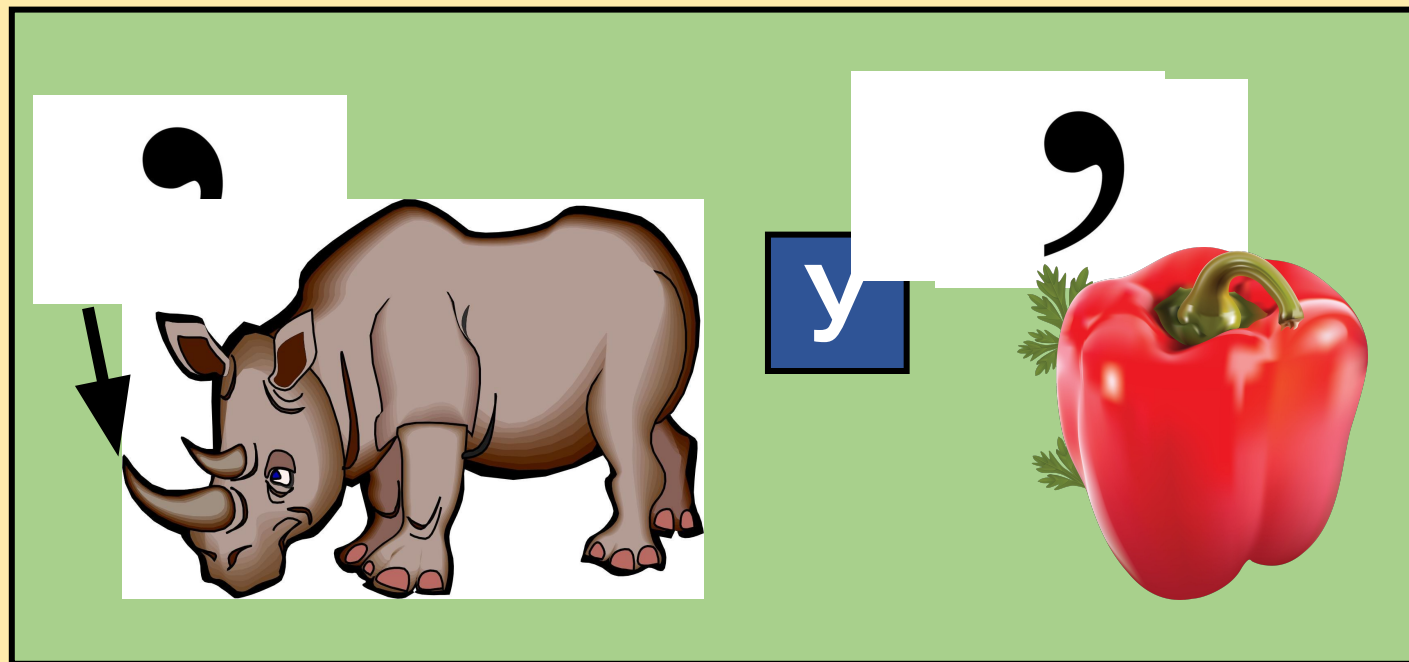
$$14 - 10 + 8 =$$

$$16 - 10 + 7 =$$

$$17 - 7 + 5 =$$



Ребус




Задача №11

1 грядка-

8 ог.

2 грядка-

?, на 2 <



Задача №12

Играли -

7

Ушли -

2 и

1

Осталос

?

ь -



Самооценка

а



ТЕСТ



+ ИЛИ -



ЗАДАЧИ



ПРИМЕРЫ

Итог урока



**Я лучше всего
выполняю задание ...**

