

Урок математики во 2 классе

**Автор презентации: Кадырова Ольга Игоревна,
Учитель начальных классов МАОУ СОШ №52 города Тюмени
2021**

Настрой на урок

Повторяем то, что

....

знаем


Что не знаем

...

вспоминае

м

Угадай сказку




Mathematical problems and letters on leaves:

- $50 - 7 = 43$ О
- $100 - 50 = 50$ З
- $40 - 4 = 36$ Л
- $16 : 2 = 8$ А
- $11 \cdot 2 = 22$ Ш
- $30 + 5 = 35$ М
- $14 + 15 = 29$ У
- $5 \cdot 3 = 15$ К

Сравни!

Золушка разложила 10 кг крупы в два мешка. Сколько кг крупы в каждом мешке?

$$10 : 2 = 5$$



На одной полке у Золушки стоит 4 кастрюли. Сколько всего кастрюль на трёх таких полках?

$$4 \times 3 = 12$$

?????

$$10 + 2 = 12$$

$$10 - 3 = 7$$

$$10 \times 2 = 20$$

$$10 : 2 = 5$$




Тема урока

Что узнали? Чему
научились?

Решение задач на
умножение и
деление

Название
КОМПОНЕНТОВ



Прочитай

**результат
сложения**


$$6 + 2 = 8$$

1 слагаемое

2 слагаемое

**значение
суммы**


**←→
сумма**



Прочитай

**результат
разности**


$$6 - 2 = 4$$



уменьшаемое

вычитаемое

**значение
разности**



разность

Прочитай

**результат
умножения**

$$6 \times 2 = 12$$


1 множитель

2 множитель

значение

произведения

← произведение →



Прочитай

**результат
деления**

$$6 : 2 = 3$$


делимое

делитель

**значение
частного**



частное



Математический диктант

1 слагаемое 50, второе слагаемое 30, найди сумму

$$50 + 30 = 80$$

Найди разность: уменьшаемое 90 и вычитаемое 20

$$90 - 20 = 70$$

Найди частное: делимое 20 и делитель 2


$$20 : 2 = 10$$

1 множитель 9, другой множитель 2, найди произведение

$$9 \times 2 = 18$$

Делимое 8, делитель 2, найди частное

$$8 : 2 = 4$$



Чей ряд быстрее?

$6 + 6 + 6 \quad 6 \times 2$

$7 + 7 \quad 7 \times 3$

$8 \times 3 \quad 8 + 8 + 8$

$10 \times 3 \quad 10 + 10$


$10 + 10 + 10 \quad 10 \times 3$


$10 + 10 + 10 \quad 10 \times 4$

$14 \times 3 \quad 14 \times 4$

$15 \times 6 \quad 15 \times 5$


$13 \times 3 \quad 13 \times 2$





**Помогите
выполнить
подобное задание
в учебнике!**

**Сколько дней мне нужно
работать?**




**В неделе 7 дней.
Сколько дней в 2, 3
и 4 неделях?**

Задача

Мачеха приказала принести из чулана 4 ящика, в каждом лежит по 3 кг яблок.


Сколько килограммов яблок надо принести Золушке?




Задача

Золушка тратит на дорогу от дома до магазина 8 минут. Однажды мачеха заставила её сходить в магазин 2 раза.

Сколько времени она затратила на дорогу, туда и обратно?



Придумайте задачи про меня



$$10 \times 2 = 20$$

$$12 : 2 = 6$$

Итог урока

Могу научить

других...

Мне уже

легко...

Мне пока сложно

...

