



Урок математики во 2 классе

Автор презентации: Кадырова Ольга Игоревна,
Учитель начальных классов МАОУ СОШ №52 города Тюмени
2021



Настрой на
урок



Весну встречай, она **идёт**

...

Удачу за собой **несёт**

?????

Дима запустил в ручей 4 бумажных кораблика, а Кирилл на 2 больше. Сколько корабликов запустил Кирилл?

На лугу 5 цветков, над каждым летает по 2 пчелы. Сколько всего пчёл летает над цветами?

На полянке распустилось 6 подснежников, на следующее утро ещё 4 подснежника. Сколько всего распустилось подснежников?





Тема урока

Решение простых задач на умножение



Замени




$$3 \times 3 = 9$$

Замени




$$6 \times 2 = 12$$

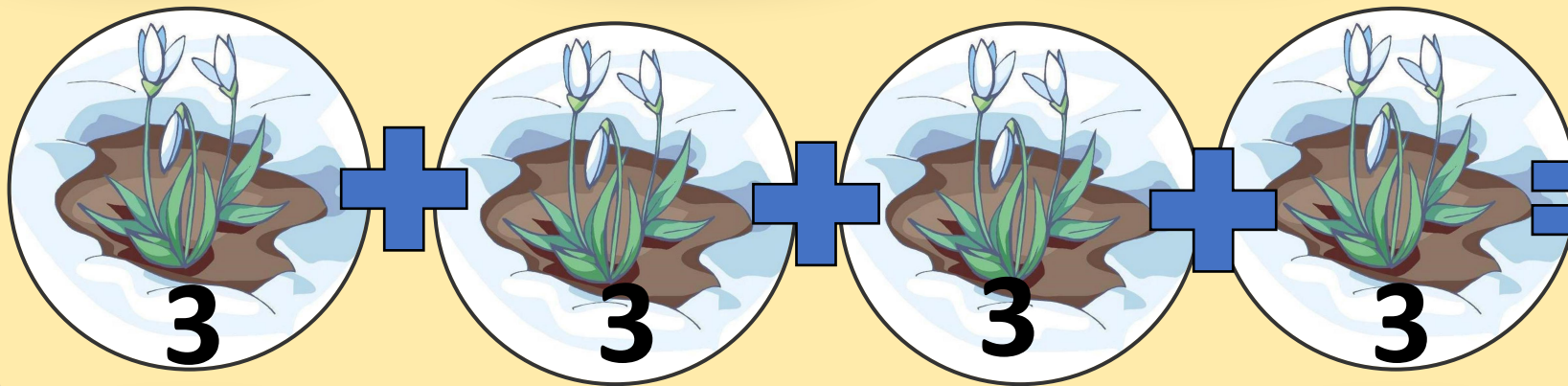
Замени



$$6 \times 3 = 18$$


Угадай


$$5 + 5 + 5 = 15$$


$$3 + 3 + 3 + 3 = 12$$




Придумай задачу



$$2 + 2 + 2 + 2 + 2 = 10 \text{ (п.)}$$

$$2 \times 5 = 10 \text{ (п.)}$$

Рисунок





?

$$2 \times 5 = 10 \text{ (п.)}$$



Придумай задачу

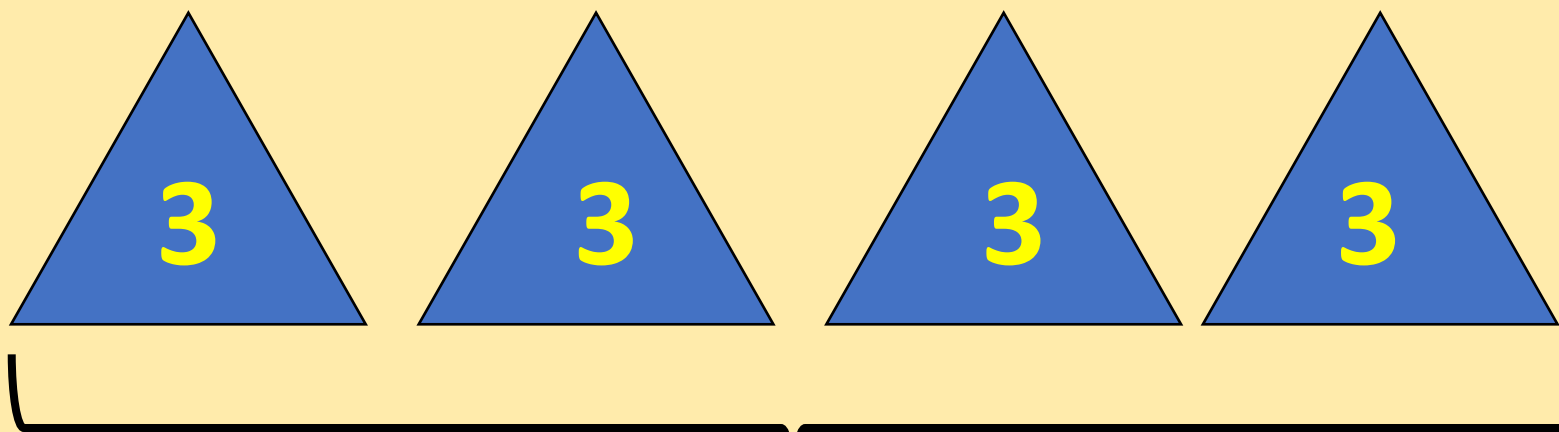


$$3 + 3 + 3 + 3 = 12 \text{ (т.)}$$

$$3 \times 4 = 12 \text{ (т.)}$$




Рисунок



$$3 \times 4 = 12$$

Придумай задачу



$$4 + 4 = 8(\text{п.})$$

$$4 \times 2 = 8(\text{т.})$$

Рисуно
к

4

4

?

$$4 \times 2 = 8 \text{ (т.)}$$



Проверь!

Отметь задачи на умножение

Запиши решение

В весеннем букете для мамы было 10 тюльпанов, а нарциссов на 2 больше. Сколько всего цветов было в весеннем букете?

В саду 10 деревьев, на каждом дереве по 2 скворечника. Сколько всего скворечников на этих деревьях?

На школьный участок, с приходом весны прилетело 20 скворцов, а грачей на 2 меньше. Сколько всего весенних птиц прилетело на школьный участок?

В одном дворе весной приготовили 5 новых скамеек. Сколько скамеек в 3 дворах?

Посадили 4 грядки клубники по 5 кустов в каждом ряду. Сколько всего кустов клубники?

$$10 \times 2 = 20$$

$$5 \times 3 = 15$$

$$4 \times 5 = 20$$



Вычисли

Встречают весну три тройки лошадей. Сколько всего лошадей?

6 пар танцуют весенний танец. Сколько всего человек танцует?

Весну пригласили на кухню, где стоят 4 стула, сколько у них всего ножек?



Самооценка

Я могу научить, как
решать задачи на
умножение

++

Мне понятно, как решать
задачи на умножение

+

Немного путаюсь при
решении задач на
умножение

?



Итог урока

**Мы сегодня
учились решать**

...

