



# Урок математики во 2 классе



Автор презентации: Кадырова Ольга Игоревна,  
Учитель начальных классов МАОУ СОШ №52 города Тюмени  
2021


# Настрой на урок

Год Быка – отличный **год**  
Всё хорошее **приде**  
Пусть подарит много **т смех**  
И во всех делах **успех**  
**а**



**Помогите!**

**Бегемот тяжелее  
носорога, а носорог  
тяжелее быка.  
Кто самый лёгкий?**



**бык**





Отгадай!

Что у коровы  
спереди,  
а у быка сзади?

КОРОВ  
А

БЫ  
К



**Весь день бык пашет поле. Сколько следов он оставит?**



**Нисколько, он свои следы запахивает  
плугом**

# Продолжи

$50 + 20$

$60 + 10$

$70 + 20$

$40 + 30$

$4 + 3$

$7 + 1$

$3 + 5$

$2 + 6$

$54 + 23$

$67 + 11$

$73 + 25$

$42 + 36$




Что новое можем узнать  
про эти примеры?

**Тема урока**

**Письменный  
приём сложения  
вида**

$$45 + 23$$

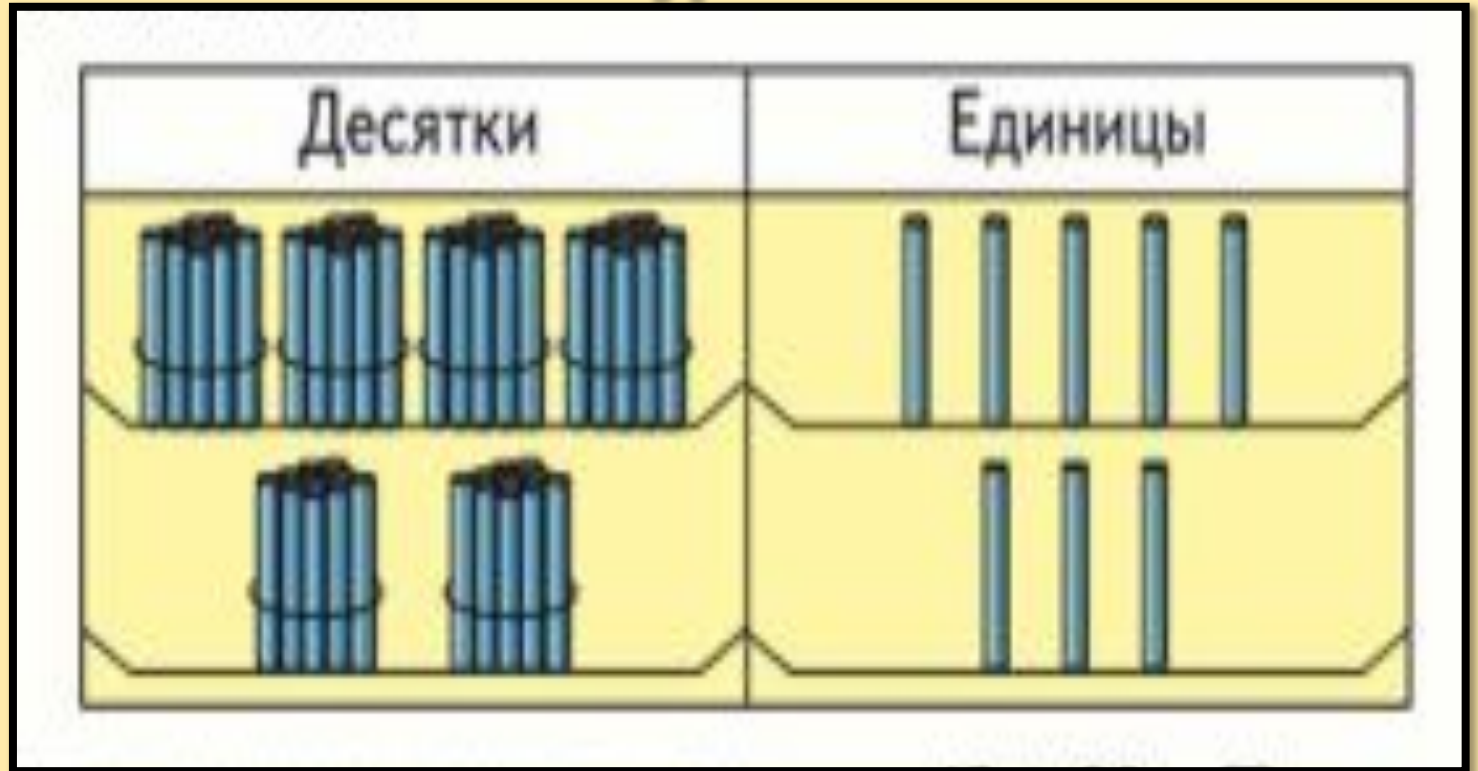


# Объясни

и

45

23




60

+

8

68





Где  
правильно?

$$\begin{array}{r} + \\ 2 \quad 4 \quad 5 \\ 3 \end{array}$$


This diagram shows an addition problem with a blue plus sign on the left. The numbers 2, 4, and 5 are arranged in a top row, and the number 3 is in a bottom row. A large red 'X' is drawn over the entire diagram, indicating it is incorrect.

$$\begin{array}{r} + \\ 4 \quad 5 \\ 2 \quad 3 \end{array}$$

This diagram shows an addition problem with a blue plus sign on the left. The numbers 4 and 5 are in the top row, and 2 and 3 are in the bottom row. A horizontal line is drawn under the bottom row. This diagram is not crossed out, indicating it is the correct representation.

$$\begin{array}{r} + \\ 4 \quad 5 \\ 2 \quad 3 \end{array}$$

This diagram shows an addition problem with a blue plus sign on the left. The numbers 4 and 5 are in the top row, and 2 and 3 are in the bottom row. A horizontal line is drawn under the bottom row. A large red 'X' is drawn over the entire diagram, indicating it is incorrect.



Объясни  
и

Пишу

...

Складываю

единицы

Складываю


десятки

читаю

ответ

+

4	5
2	3
6	8




Реши с  
объяснением

$$34 + 23$$


$$41 + 35$$

$$53 + 46$$




# Самопроверка

$$\begin{array}{r} + \begin{array}{|c|c|} \hline 6 & 4 \\ \hline 3 & 5 \\ \hline \hline 9 & 9 \\ \hline \end{array} + \begin{array}{|c|c|} \hline 2 & 6 \\ \hline 1 & 3 \\ \hline \hline 3 & 9 \\ \hline \end{array} + \begin{array}{|c|c|} \hline 3 & 2 \\ \hline 4 & 7 \\ \hline \hline 7 & 9 \\ \hline \end{array} \end{array}$$




# Исправьте ошибки

$$\begin{array}{r} + \begin{array}{|c|c|} \hline 2 & 7 \\ \hline 6 & 2 \\ \hline \hline 8 & 8 \\ \hline \end{array} + \begin{array}{|c|c|} \hline 3 & 5 \\ \hline 4 & 1 \\ \hline \hline 7 & 6 \\ \hline \end{array} + \begin{array}{|c|c|} \hline 4 & 3 \\ \hline 3 & 5 \\ \hline \hline 6 & 8 \\ \hline \end{array} \end{array}$$



**Придумай свои примеры по  
теме урока и реши их**




## Задача

Для коровы приготовили 23 кг сена, а для быка на 12 кг больше.

Сколько кг сена приготовили для быка?

Сколько всего кг сена приготовили для быка и коровы?




Поставь + или -

$5 \quad 4 = 6 \quad 3$

$5 \quad 7 = 12 \quad 0$

$7 \quad 3 = 17 \quad 7$

$6 \quad 8 = 9 \quad 5$





# Самооценка

Я умею!

+


Я научу

++

других!

Пока нужна  
помощь!

-



**Итог урока**

**Мы сегодня научились ...**

**Оказывается ...**

