

# Урок математики во 2 классе


Автор презентации: Кадырова Ольга Игоревна,  
Учитель начальных классов МАОУ ООШ №52 города Тюмени  
2020



Настрой на  
урок

Вперёд за

...



Назови в порядке

1 см


1 дм

1 мм

1 мм

1 см

1 дм




Вспомни!

$$1 \text{ см} = 10 \text{ мм}$$

$$1 \text{ дм} = 10 \text{ см}$$

$$1 \text{ дм} = 100 \text{ мм}$$



# Гимнастика мозга



Энергетизат  
ор

**Самостоятельная  
работа**  
**Начертите отрезки заданной  
длины**


**7 см**

**40 мм**

**80 мм**

**3 см 5 мм**

**6 см 2 мм**



# Загадка

Если к самому  
большому  
двузначному числу

$$99 + 1 = 100$$

то


Самое маленькое трёхзначное  
число



Тема урока


Наименьшее  
трёхзначное  
число

СОТН  
Я






# Запиш и



24

31

100



Объясн  
и

1



ед.

10




дес.

100



сот.



Назов


и

10 ед. = **1** дес.

10 дес. = **1** сот.

сот.

1 сот. = **100** ед.



?????

84

48

88

44

4

8



# Составь

11

15

19

55


51

59

99

91

95




1

5

9

# Задача



Митя-

2 кг



Папа-

8 кг

10 кг

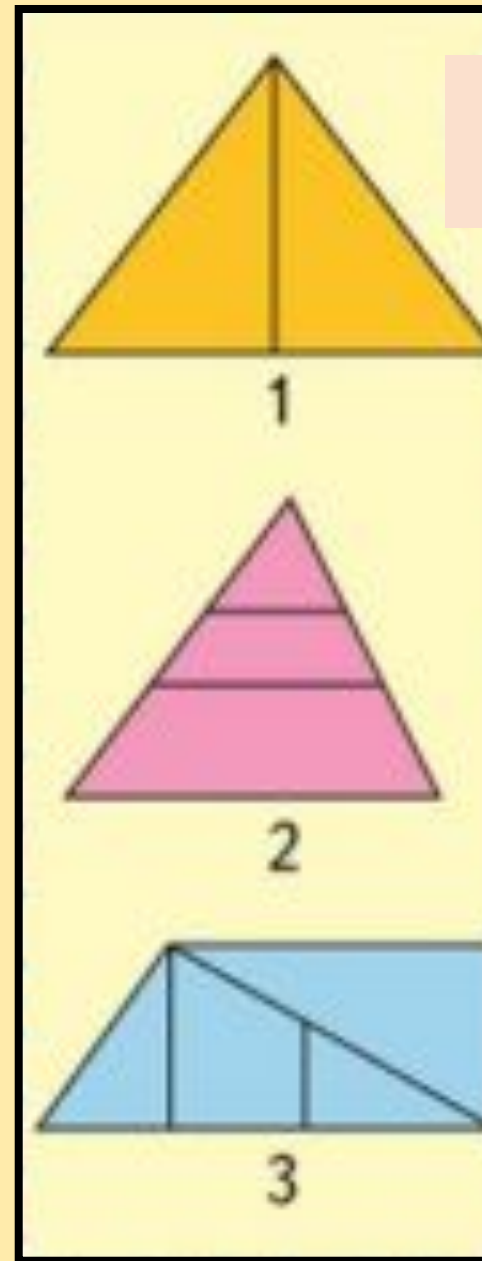

$$2 + 6 = 8 \text{ (кг)}$$

$$2 + 8 = 10 \text{ (кг)}$$

Ответ: 10 кг

?????

Сколько  
треугольников и  
четырёхугольни-  
ков?



# Самооценка

а



**Самостоятельная работа**



**100**



**Итог урока**

**Мы узнали**

...

**Мне понравилось  
больше всего на  
уроке ...**

