



# Урок математики во 2 классе

Автор презентации: Кадырова Ольга Игоревна,  
Учитель начальных классов МАОУ СОШ №52 города Тюмени  
2021



**Настрой на  
урок**

**Всем! Всем! Всем!  
Желаю...**



?????

$$4 \times 5$$

$$5 \times 3$$

$$8 \times 4$$




$$5 + 5 + 5$$

$$8 + 8 + 8 + 8$$

$$4 + 4 + 4 + 4 + 4$$

# Тема урока

**Вычисление результата  
умножения с помощью  
сложения**



?????

$$5 + 5 + 5 = 15$$

$$10 + 10 + 10 = 30$$





$$8 + 8 + 8 = 24$$



**Объясни**

$$5 \times 4 = 20$$

$$5 + 5 + 5 + 5 = 20$$



# Соревнование по рядам

$3 \times 4$

$2 \times 4$

$5 \times 4$

$5 \times 3$


$7 \times 3$

$6 \times 3$

$9 \times 2$

$6 \times 2$

$8 \times 2$



# Вычисли заменяя умножение сложением

$8 \times 2$

$8 + 8 = 16$

$5 \times 6$

$5 + 5 + 5 + 5 + 5 + 5 = 30$

$9 \times 3$


$9 + 9 + 9 = 27$

$6 \times 4$

$6 + 6 + 6 + 6 = 24$

$10 \times 5$

$10 + 10 + 10 + 10 + 10 = 50$






# Сравни

$7 + 7 + 7 \quad 7 \times 3$

$8 \times 4 \quad 8 + 8 + 8 + 8 + 8$

$3 \times 5 \quad 3 + 3 + 3 + 3$

$2 + 2 + 2 + 2 \quad 2 \times 3$



Найди  
лишнее

$$16 + 16 + 17 + 16$$

$$6 + 6 + 6 + 6 + 6$$

$$5 + 6 + 6 + 5$$

$$9 + 6 + 6 + 9$$

$$9 + 9 + 9 + 9 + 9 + 9$$



## Задача

В доме 3 этажа, высота каждого этажа 4 м. Чему равна высота нашего дома?

$$4 + 4 + 4 = 12 \text{ (м)}$$

$$4 \times 3 = 12 \text{ (м)}$$



# Итог урока

Я уже умею....

Я уже знаю....

Я уже понимаю....

