

# Разность и её значение

$6-4$

$7-1$

$9-8$

$8-3$

$5-0$

$4-4$

Сколько записано разностей?

6

Найди разность чисел

$8 - 3 = 5$

$4 - 4 = 0$



$$6 - 4 = 2$$

=



Значение разности

$$\underline{3} - 1 = \underline{2}$$

$$\underline{5} - 2 = \underline{3}$$

$$\underline{10} - 9 = \underline{1}$$

Из чисел 1, 3 и 5 составь как можно больше разностей. В каких случаях можно вычислить их значения?

$$\underline{1 - 1} = 0$$

$$3 - 1$$

$$\underline{5 - 1} = 4$$

$$1$$

$$\underline{3 - 3} = 0$$

$$\underline{5 - 3} = 2$$

$$1 -$$

$$\underline{3 - 5}$$

$$\underline{5 - 5} = 0$$

$$3$$

$$1$$

$5 > 3$

$\underline{3} - 1 =$

$5 + 1 = 6$

$\underline{7} - 4 = \underline{3}$

$3 = 3$

$\underline{6} - 1 = \underline{5}$

$4 = 4$

$2 < 6$

$\underline{6} - 1 < 6$



$$7 - \quad =$$

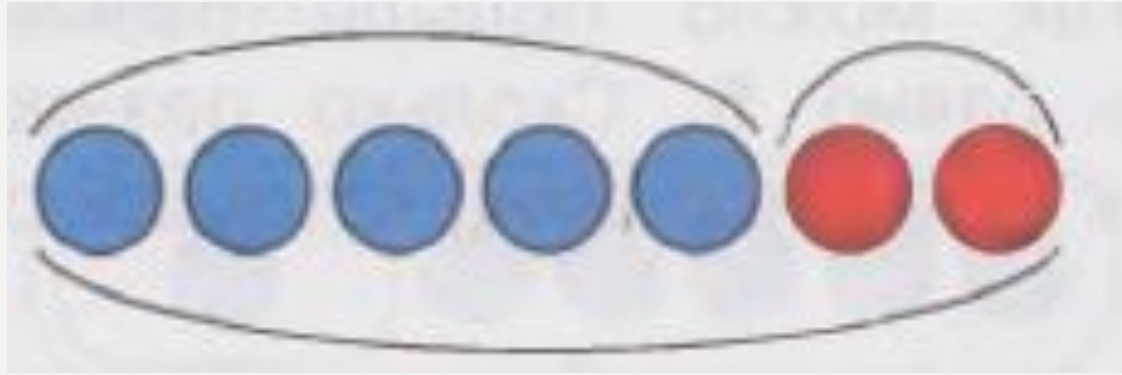
$$\begin{array}{r} 5 \\ 7 - 4 = \end{array}$$

3

$$7 - \quad =$$

$$\begin{array}{r} 3 \\ 7 - 2 = \end{array}$$

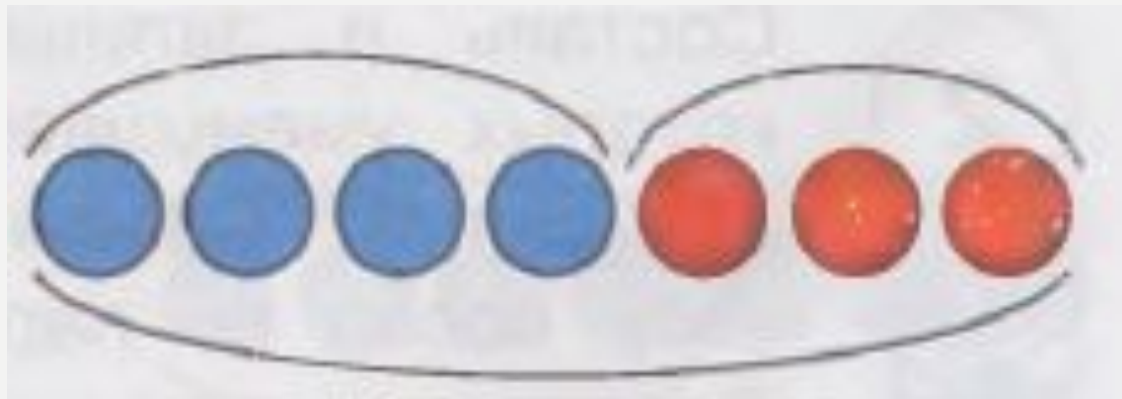
5



$$7 - 5 =$$

$$7 - 2 =$$

2



$$7 - 3 =$$

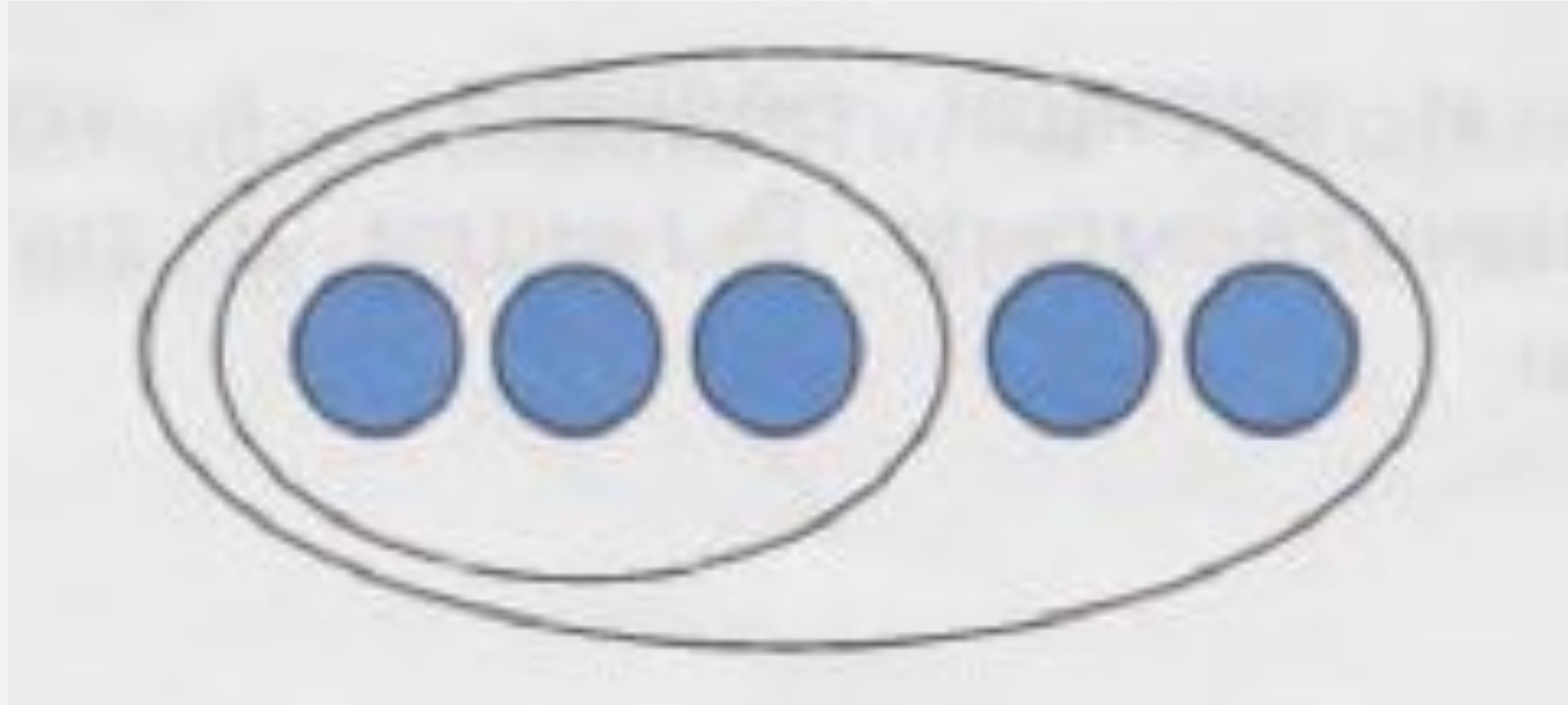
$$7 - 4 =$$

4

3



Составь по схеме две разности



$$5 - 3 =$$

2

$$5 - 2 =$$

3

# Рефлексия

- Я узнал ...
- Я понял ...
- Я смог ...
- Меня удивило ...
- Мне хочется ...

# Самооценка



Молодцы, дети, вы сегодня очень хорошо поработали