

Информатика 4 класс


Урок 10. МАССИВ ОБЪЕКТОВ НА СХЕМЕ СОСТАВА
(«Веток много, ствол один»)

Мусихина Н.В.

Чита, 2011 г

Цели:

- закрепить умение заполнять схему состава объекта;
- научить представлять массив объектов на схеме состава
- научить записывать адрес элемента массива в составе объекта.

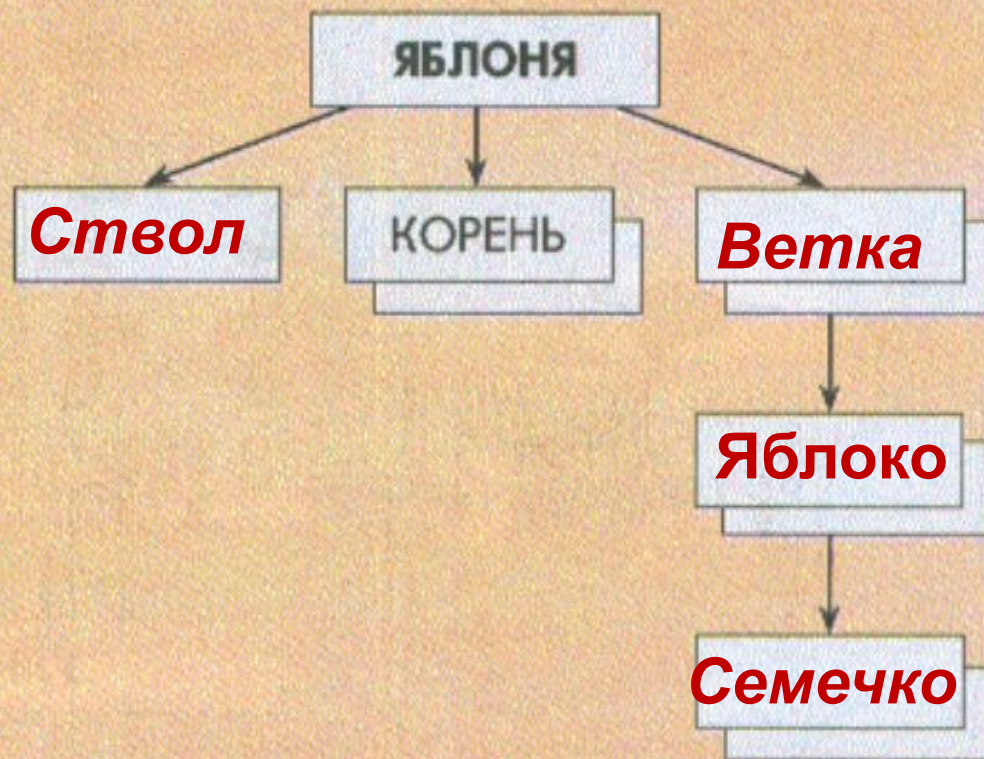



Адрес колбасы: Холодильник, Верхняя камера, Верхняя полка, Колбаса

Адрес капусты: Холодильник, Верхняя камера, Нижняя полка, Правый ящик, Капуста

Адрес молока: Холодильник, Верхняя камера, Дверца, Нижняя полка, Молоко

Заполни схему состава яблони. Допиши адрес семечка в красном яблоке.



Адрес семечка: ЯБЛОНЯ, Нижняя правая ветка, Красное яблоко, Семечко

Заполни схему состава Зелёной улицы. Допиши адрес Дана, если известно, что он живёт во втором подъезде на пятом этаже.



Адрес Дана: улица Зелёная, Дом 7, квартира 20.

13

Заполни схему состава тетради по информатике. Найди в этой тетради колесо по адресу и допиши адрес Шишкоеда.




Адрес колеса: ТЕТРАДЬ ПО ИНФОРМАТИКЕ, СТРАНИЦА (32), НИЖНИЙ
РИСУНОК, СРЕДНЕЕ КОЛЕСО.

Адрес Шишкоеда: ТЕТРАДЬ ПО ИНФОРМАТИКЕ, **Страница (34)**
Рисунок, Самая высокая сосна, ШИШКОЕД.

14

Заполни схему состава поезда. Запиши адрес вагона-ресторана.



Поезд

Паровоз

Вагон [5]

Адрес вагона-ресторана: Поезд, Вагон (4)

**Домашнее задание: стр.37, №11;
стр. 39 №15.**