

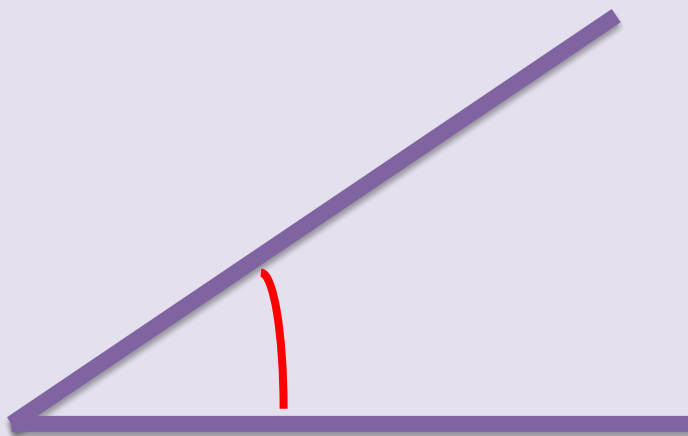
# МАТЕМАТИЧЕСКАЯ МИНУТКА



-Привет!  
Я подготовил  
геометрические задания.  
Вперёд!




Как называется этот угол?



ОСТРЫЙ

Как называются эти прямые?

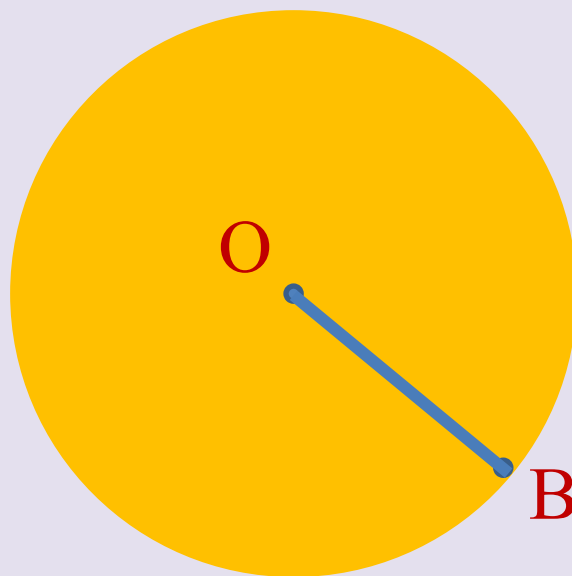


ПАРАЛЛЕЛЬНЫЕ





Отрезок  $OB$  - это?



диаметр

радиус

сегмент

**НАДО ПОДУМАТЬ!**




Сколько граней у куба?

4

8

6



**НАДО ПОДУМАТЬ!**





МОЛОДЦЫ!



# РЕСУРСЫ ИНТЕРНЕТА:

- [http://wallpaper-house.com/data/out/6/wallpaper2you\\_110608.jpg](http://wallpaper-house.com/data/out/6/wallpaper2you_110608.jpg)
- [https://img-fotki.yandex.ru/get/878955/122121027.307/0\\_e16d9\\_27836524\\_orig](https://img-fotki.yandex.ru/get/878955/122121027.307/0_e16d9_27836524_orig)
- [http://lh4.ggpht.com/GVQPEZDot3Qc5VA5hGPmc\\_s6xv\\_1U2fFBWQMv8A30V\\_5kapJufIzMzHcNvQe2WrZXHw](http://lh4.ggpht.com/GVQPEZDot3Qc5VA5hGPmc_s6xv_1U2fFBWQMv8A30V_5kapJufIzMzHcNvQe2WrZXHw)