

Общая характеристика Латинской Америки

теория

тест

задания

вопросы

практика





- Латинской Америки**
- 1 Белиз
 - 2 Гватемала
 - 3 Гондурас
 - 4 Сальвадор
 - 5 Никарагуа
 - 6 Коста-Рика
 - 7 Panama
 - 8 Доминика
 - 9 Виргинские о-ва (Брит.)
 - 10 Виргинские о-ва (США)
 - 11 Доминиканская Республика
 - 12 Гаити
 - 13 Аруба (Нидер.)
 - 14 Кайман, о-ва (Брит.)
 - 15 Теркс и Кайкос (Брит.)
 - 16 Мал. Антильские о-ва (Нидер.)
 - 17 Суринам
 - 18 Гаяна (Фр.)
 - 19 Уругвай



Латинская Америка так называется регион в западном полушарии расположенный от США до Антарктиды.

В Латинская Америка-это 46 государств , из них 33 суверенные государства.

Регион занимает 21 млн. кв. км с населением 561 млн. человек.

Входят: Буржуазные республики;

Колонии ряда стран Западной Европы;

В регионе сохранилось социалистическое государство Куба;

Содружество Нации- Гайана, Доминика, Тринидад и Тобаго.

Средняя Америка




Мексика	Центральная Америка	Вест-Индия	Страны бассейна Ла-Платской и Амазонии.	Гуаяну	Андские страны
<i>Мексика</i>	<i>Гватемала Сальвадор Гондурас Белиз Никарагуа Коста-Рика Панама</i>	<i>Куба, Гаити Доминиканская республика, Барбадос, Ямайка и др.</i>	<i>Парагвай Аргентина Уругвай Бразилия</i>	<i>Гайана Гвиана Суринам</i>	<i>Венесуэла Перу Колумбия Эквадор</i>

Экономико- географическое положение Латинской Америки

Главная особенность экономико –географического положения являются:

- Близость к США, но при этом удаление от других регионов;**
- Приморское положение стран;**
- Находится между Тихим и Атлантическим океанами, которые соединены важными в стратегическом отношении Панамским каналом.**


ПГП близость США и удаленность от Европейских стран.



История формирования политической карты

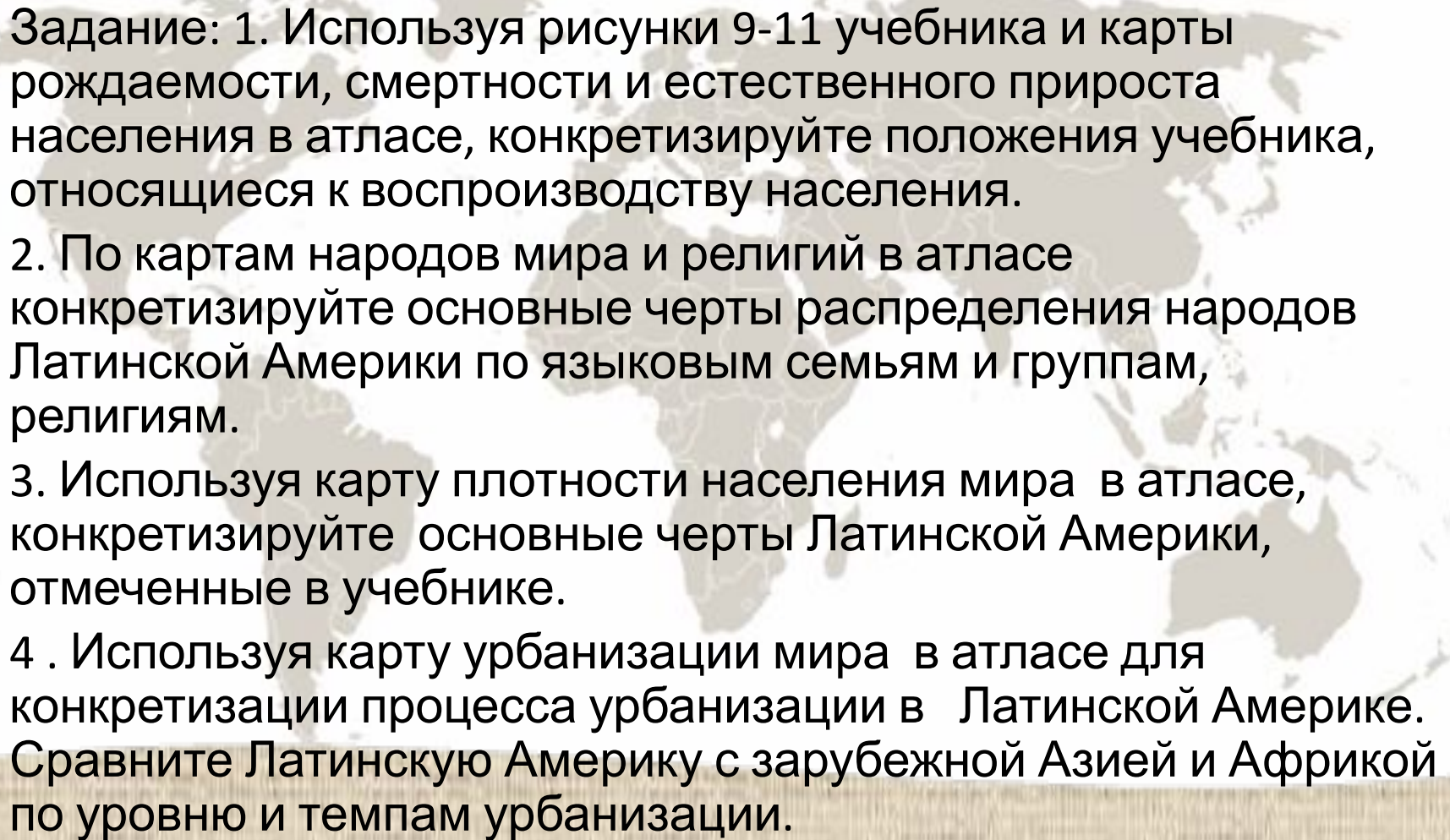
- *Этап доколониальный* На территории Латинской Америки располагались высокоразвитые древние цивилизации индейских племен и народностей: АЦТЕКОВ, МАЙЯ, КУЧУА, ИНКОВ.
- *Колониальный этап* связан с поиском европейцами пути в Индию 12 октября 1492г началось завоевание территории. Территорию Латинской Америки осваивали в основном Испания и Португалия, устремились многочисленные экспедиции завоевателей – конкистадоров. Постепенно они утвердилось колониальное господство на всей территории Латинской Америки.
- *Этап независимого развития.* В результате долгой и кровопролитной борьбы с испанскими и португальскими колонизаторами народы большинства латиноамериканских стран завоевали независимость в начале 19 века.
- Сейчас страны Латинской Америки находятся в экономической зависимости от США

Задание 1: Используя рисунки 4-6 учебника, таблицы 6-8т «Приложений» и карты земельных, агроклиматических и водных ресурсов в атласе для конкретизации характеристики возобновимых ресурсов региона.



Природные ресурсы	Средняя Америка	Андские страны	Ла-Платские страны и Бразилия	вывод
Минеральные	Нефть, железные руды, алюминевые, полиметаллические медные и никелевые руды, сера	Медь, золото, серебро, железные руды, вольфрам, свинец, селитра	Бокситы, нефть, железные руды, марганцевые руды, олово,	обеспечена
Лесные	Не богаты	Не богаты	богаты	обеспечена
Земельные	малопригодны	малопригодны	Плодородные почвы	Плодородные почвы на востоке, в центре материка
Водные	Реки горные, порожистые.	Реки горные, порожистые.	Самая крупная река и реки небольшие, но территория увлажнена.	Достаточно обеспеченна водными ресурсами
Агроклиматическое	Благоприятный, местами сухой	Сухой суровый климат	благоприятный	Благоприятный условия для выращивания с/х культур

Население Латинской Америки

- 
- Задание: 1. Используя рисунки 9-11 учебника и карты рождаемости, смертности и естественного прироста населения в атласе, конкретизируйте положения учебника, относящиеся к воспроизводству населения.
2. По картам народов мира и религий в атласе конкретизируйте основные черты распределения народов Латинской Америки по языковым семьям и группам, религиям.
3. Используя карту плотности населения мира в атласе, конкретизируйте основные черты Латинской Америки, отмеченные в учебнике.
4. Используя карту урбанизации мира в атласе для конкретизации процесса урбанизации в Латинской Америке. Сравните Латинскую Америку с зарубежной Азией и Африкой по уровню и темпам урбанизации.

Латинскую Америку можно отнести к промышленно развитым регионам, хотя все его страны, принято относить к группе развивающихся.

Доля региона в мировом валовом продукте составляет 8,5%.

$\frac{4}{5}$ всей промышленной продукции приходится на тройку экономических лидеров – Бразилию, Мексику, Аргентину.

В мировом сельскохозяйственном производстве региону принадлежит видное место.



ХОЗЯЙСТВЕННАЯ ДЕЯТЕЛЬНОСТЬ



- СЕЛЬСКОЕ ХОЗЯЙСТВО**
- 1 земледелие (плантации кофе), технические культуры (сахарный тростник, хлопчатник) и другие культуры (бананы, цитрусовые)
 - 2 земледелие (зерновые культуры) и животноводство
 - 3 земледелие (плодовые культуры и виноград)
 - 4 животноводство (крупный рогатый скот)
 - 5 животноводство и земледелие в горах
 - 6 животноводство (овцы)
 - 7 тропические леса с очагами лесного хозяйства и земледелия
 - 8 леса и лесное хозяйство
 - 9 малоиспользуемые и неиспользуемые земли

- ПРОМЫШЛЕННЫЕ И КУЛЬТУРНЫЕ ЦЕНТРЫ**
- более 3 000 000 жителей
 - от 1 000 000 до 3 000 000 жителей
 - менее 1 000 000 жителей
 - ★ ЭЛЕКТРОСТАНЦИИ
 - ★ Гидростанции
 - ★ Тепловые
 - ★ Атомные

ДОБЫЧА		ПРОИЗВОДСТВО		ВЫРАЩИВАНИЕ	
драгоценных камней	машин, приборов, оборудования	сахара	бананов	хлопка	риса
полезных ископаемых	черных и цветных металлов	кожи	винограда	фасоли-бобов	хлопчатника
судоходные участки рек	нефтепродуктов	шерсти и изделий из шерсти	кофе	хлопка	цитрусовых
морские порты	древесины и лесоматериалов	тканей			
рыболовство	мясопродуктов				

Масштаб 1:40 000 000



ПРОМЫШЛЕННОСТЬ.

Долгое время промышленность региона характеризовалась в первую очередь развитием горно-добывающих отраслей. Однако, в последнее время ведущая роль стала переходить к обрабатывающей промышленности (особенно черная, цветная металлургия, нефтепереработка, а так же электроника и машиностроение).

В Бразилии получили развитие электроника, автомобиле-, судо-, самолетостроение; в Мексике, Аргентине – производство автомобилей, станков.

СЕЛЬСКОЕ ХОЗЯЙСТВО.

Представлено двумя совершенно разными секторами.

Первый сектор – это высокотоварное, плантационное хозяйство. Крупнейшие в мире производители бананов – Коста-Рика, Колумбия, Эквадор, Гондурас, Панама. На судах-рефрижераторах весь сбор бананов вывозится в Европу, США, причем по дороге они дозревают. На Кубе $\frac{1}{2}$ всех обрабатываемых земель занята плантациями сахарного тростника. Сахарные заводы производят более 5 млн т сахара в год. Сахарная промышленность – отрасль специализации Кубы.

Второй сектор – это потребительское мало товарное хозяйство, не затронутое «зелёной революцией». Крестьяне, занятые в нём выращивают кукурузу.

Транспортная оснащённость Латинской Америки слабая. Недостаточно развиты внутренний водный, трубопроводный транспорт, несмотря на большую протяжённость железных дорог их пропускная способность очень низкая, лучше развит – воздушный и автомобильный. Огромную роль играет морской транспорт и морские порты, все дороги в регионе ведут к морскому порту.



Отрасли экономики	Андские страны	Ла-Платские страны	Страны Карибского Бассейна
Сельское хозяйство	Преобладает мясное животноводство	В Аргентине развито массовое животноводство (Буэнос-Айрес называют столицей мяса), в остальных странах преобладает растениеводство	Преобладает растениеводство
Товарные культуры	Просо, ячмень	Кофе, какао, гевея, сахарный тростник	Сахарный тростник, бананы, хлопок, кофе, какао
Потребительские культуры	Картофель, пшеница, ячмень, томаты	Кукуруза. Просо, сорго, рис, бобовые, фасоль, маниока, батат, тыква	Бананы, бобовые, рис, кукуруза, фрукты
Формы собственности	Мелкие крестьянские хозяйства занимаются выращиванием потребительских культур. Крупные монополии являются иностранным капиталом	Мелкие крестьянские хозяйства занимаются выращиванием потребительских культур. Крупные монополии являются иностранным капиталом	Мелкие крестьянские хозяйства занимаются выращиванием потребительских культур. Крупные монополии являются иностранным капиталом

Тест

1. К странам Центральной Америки и Вест –Индии относятся:

- ✓ А. Колумбия, Эквадор, Гватемала В. Аргентина, Уругвай, Чили
Б. Гондурас, Панама, Куба Г. Перу, Боливия, Гайана

2. В Андскую группу стран входят:

- ✓ А. Боливия, Колумбия, Эквадор В. Бразилия, Аргентина, Чили
Б. Суринам, Уругвай, Венесуэла Г. Аргентина, Уругвай, Перу

3. Главные нефтегазаносные бассейны Латинской Америки

- ✓ А. Венесуэла, Мексика В. Чили, Уругвай
Б. Бразилия, Аргентина Г. Бразилия, Аргентина

4. Главной причиной отсталости сельского хозяйства является:

- А. Недостаток удобрений ✓ В. Существование старых форм земледелия
Б. недостаточное увлажнение Г. Недостаток с/х техники

5. Главные районы добычи меди в Латинской Америки

- А. Бразилия и Боливия В. Перу и Чили ✓
Б. Колумбия и Венесуэла Г. Аргентина и Бразилия

ответы

Тест

6. В Латинской Америке отсутствуют:

- А. страны ОПЕК В. Внутриконтинентальные государства
 Г. монархии Г. федерации

7. Назовите, на какой реке в Латинской Америке действует каскад ГЭС, в том числе мощная гидроэлектростанция в мире?

- А. Амазонка В. Ориноко
 Г. Парана Г. Рио-Гранде

8. Более половины населения Латинской Америки :

- А. европейцы В. индейцы
 Г. метисы и мулаты Г. выходцы из Азии

9. Найдите ошибку в перечне крупнейших производителей и экспортеров кофе в Латинской Америке:

- А. Мексика Венесуэла
Б. Колумбия Г. Бразилия

10. В Латинской Америке отсутствуют:

- А. зависимые территории развитые государства
Б. островные государства

ответы



ЗАДАНИЯ



- Поиск дополнительной информации: региональные группировки



- Составление таблицы



- Выберите верные утверждения



ВОПРОСЫ



Доля городского населения превышает долю ЭАН занятого в производственной и непроизводственной деятельности



Обширное частнособственническое земельное владение



Ядром города служила центральная площадь, на которой располагалась ратуша, собор, административные здания. От этой площади расходились улицы, образуя четкую «шахматную» сетку



Столица или экономическая столица образует главный фокус всей территории



Явление связано с аномальным потеплением прохладных прибрежных поверхностных вод Тихого океана.



Задание 1:

Назовите страны Центральной Америки и Вест-Индии



Центральная Америка и
Вест-Индия

Выберите верные утверждения

		Да	Нет
1	Ведущая отрасль сельского хозяйства Латинской Америки – животноводство.	<input type="radio"/>	<input type="radio"/>
2	Аргентина и Уругвай – самые «белые» страны Латинской Америки.	<input type="radio"/>	<input type="radio"/>
3	Страны Латинской Америки имеет богатую своеобразную историю, культуру.	<input type="radio"/>	<input type="radio"/>
4	Уровень урбанизации высок 85%.	<input type="radio"/>	<input type="radio"/>
5	Большую роль играет внутренний водный, трубопроводный.	<input type="radio"/>	<input type="radio"/>
6	Основные районы концентрации населения- побережье океана, острова Вест –Индии, некоторые горные территории.	<input type="radio"/>	<input type="radio"/>
7	«тьерра кальетенте» называют холодной землей.	<input type="radio"/>	<input type="radio"/>
8	Решающую роль во внешнеэкономических связях играет морской транспорт(кроме Мексики)	<input type="radio"/>	<input type="radio"/>



Домашнее задание:

- Учебник Максаковского В.П
География 10 класс
- Самостоятельная работа- Отрасли
международной хозяйственной
специализации Австралии

