



Площадь прямоугольни ка

СТР. 60 - 61

К уроку № 39



«Школа России» 3 класс

Устный счёт




	1	2	3	4	5	6
1	45	63	32	40	24	48
2	5	9	8	10	6	8
3	9	7	10	7	8	7

Разделите числа первой строки на числа второй строки.

Запишите ответы.

Найдите периметр фигур.

3 см



5 см



3 см

4 см

Периметр прямоугольника **24** см. Какие у него могут


быть стороны?



$$P = 24 \text{ см}$$

Периметр треугольника **18** см. Какие у него
могут

быть стороны?



$$P = 18 \text{ см}$$

Во сколько раз мячей больше, чем кубиков?



На сколько мячей больше, чем кубиков?

За **5** погремушек заплатили **100** рублей.

Сколько

погремушек можно купить на **60** рублей?



$$60 : (100 : 5) = 3 \text{ (п.)}$$



3 погремушки

За 2 мяча заплатили 80 рублей. А пирамидка дороже мяча на 25 рублей. Сколько стоит пирамидка?



$$60 : 2 + 25 = 65 \text{ (руб.)}$$



65

рублей

За 3 флюгера заплатили 90 рублей. Он дороже мяча на 5 рублей. Сколько стоит мяч?



$$90 : 3 - 5 = 25 \text{ (руб.)}$$

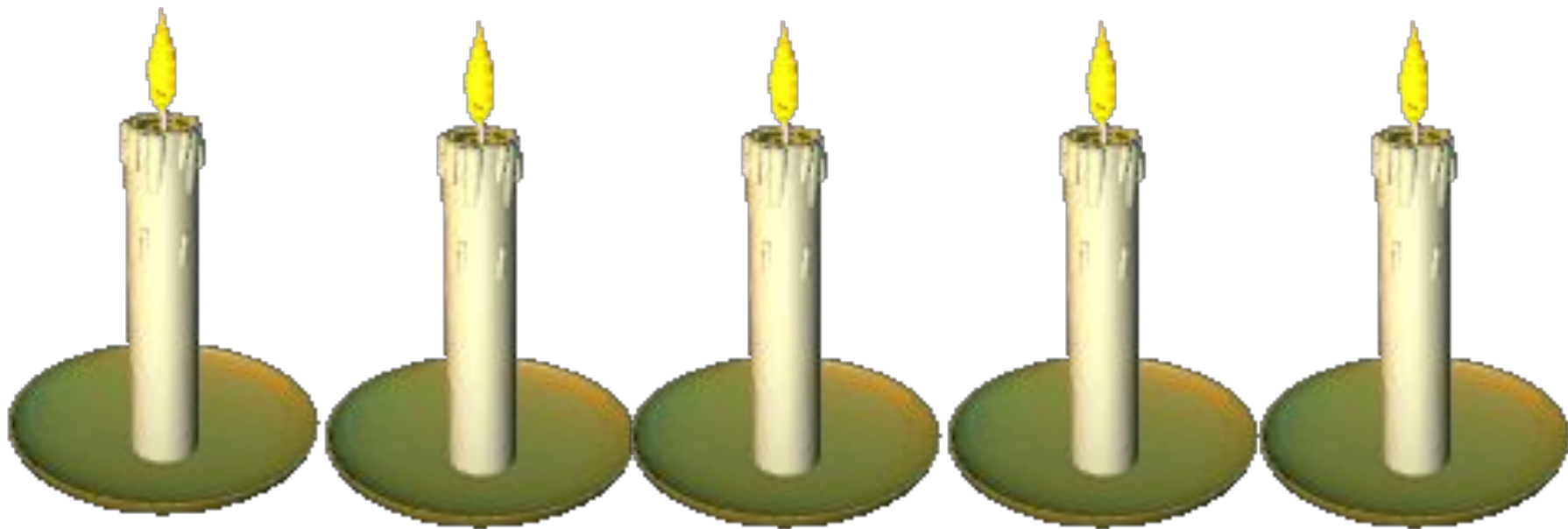


25

Задания на смекалку



В комнате горело 5 свечей. Зашел человек, потушил 2 свечи. Сколько осталось?



2- остальные сгорели

конец