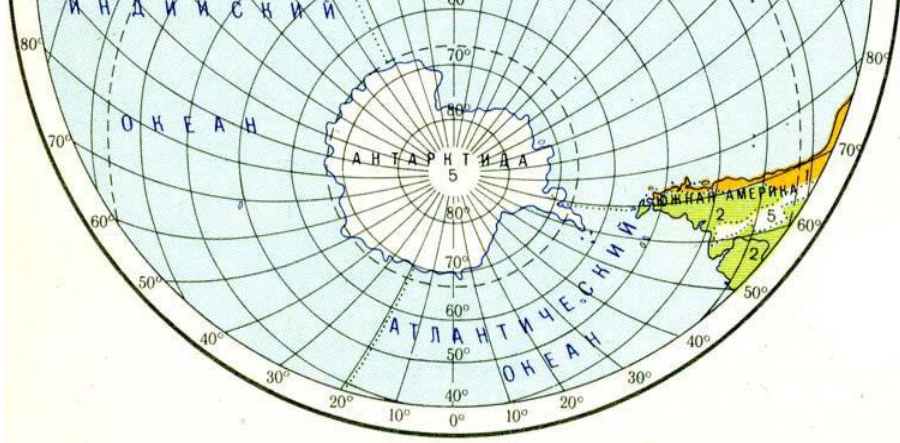


Проверка домашнего задания



Географический лабиринт «Австралия»






Тема урока: Антарктида.

Географическое положение
и исследование материка.

Цель урока:

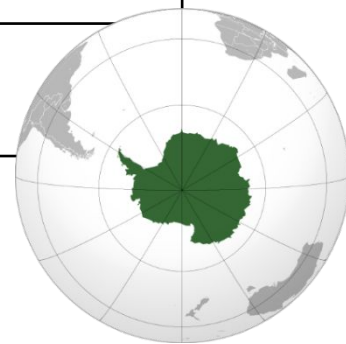
Изучить положение материка на планете, познакомиться с историей ее освоения.

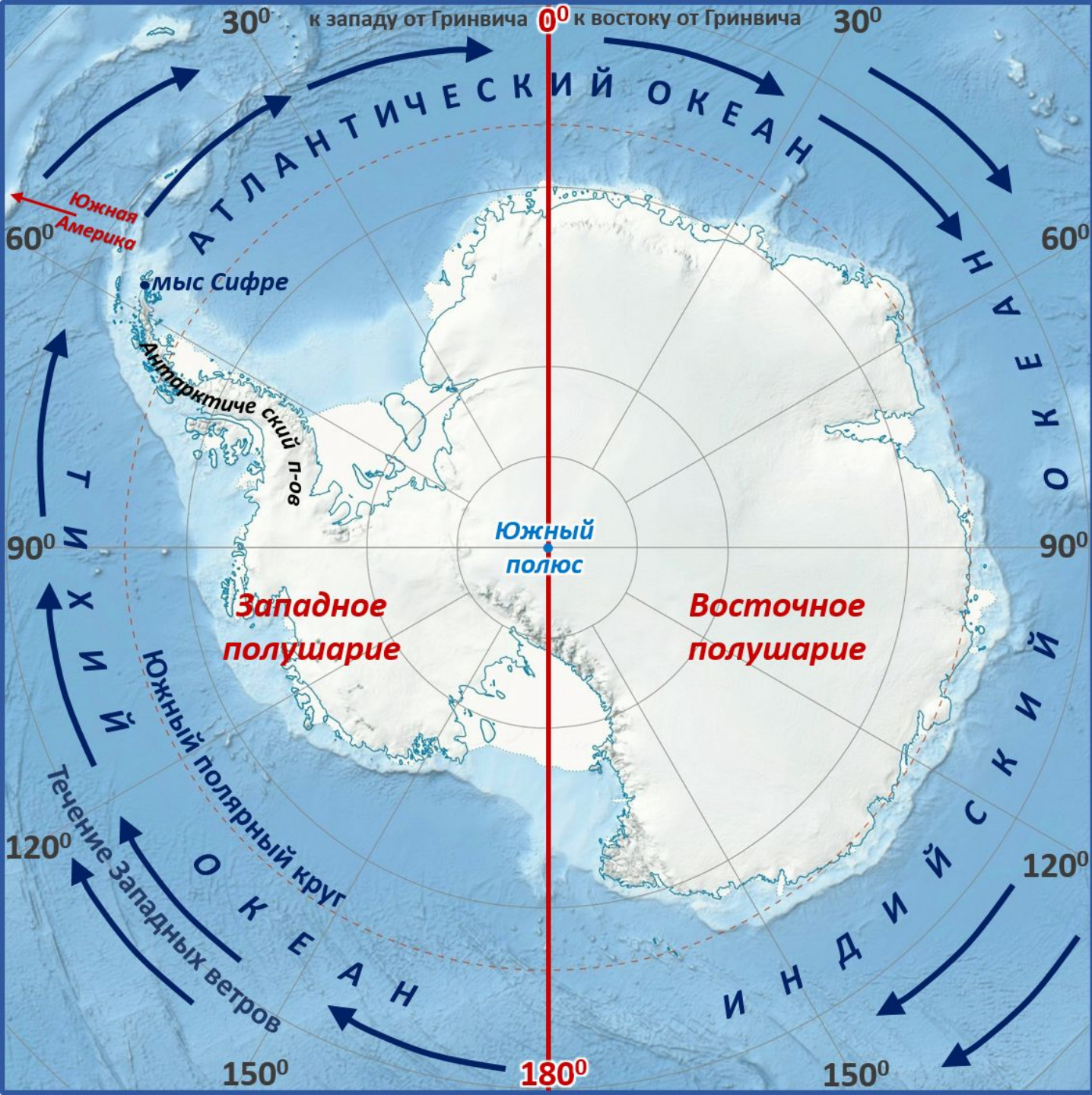




«Бой с тенью»

Вопрос	Как Вы думаете?
1. Какой материк – Африка (1) или Южная Америка (2)- расположен ближе к Антарктиде?	
2. Антарктиду отделяет от южной Америки Магелланов пролив (1) или пролив Дрейка (2)?	
3. Антарктический полуостров расположен ближе к Африке (1) или Австралии(2)?	
4. Море Уэдделла находится к востоку (1) или к западу (2) от Антарктического полуострова?	
5. У Антарктиды 4 крайних точки (1) или меньше (2)?	





ГП Антарктиды



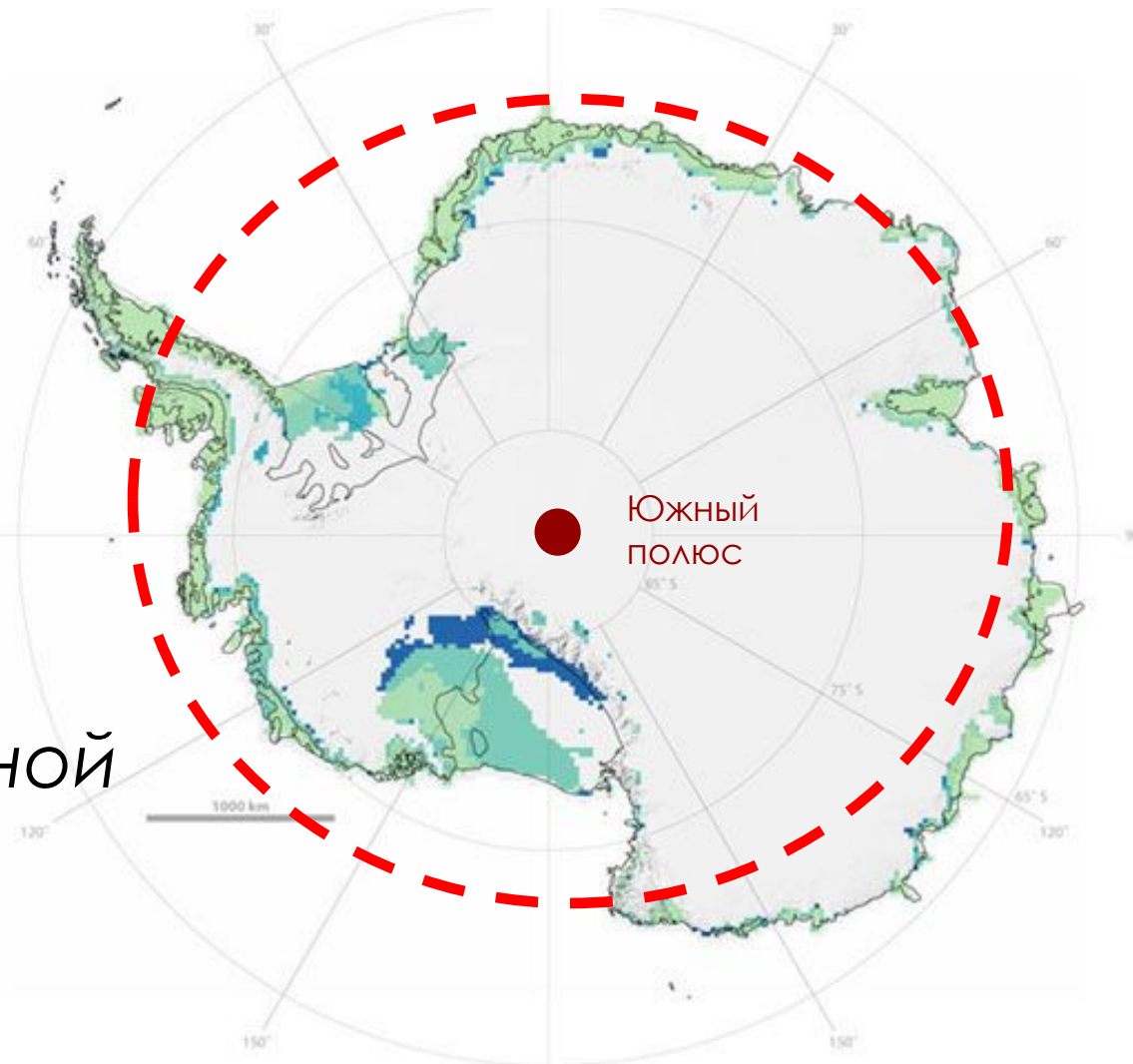
План описания

1. Положение материка относительно экватора, полюсов, линии тропиков, нулевого меридиана.
2. Крайние точки материка
3. моря и океаны, омывающие материк
4. Расположение материка относительно других материков.

«Антарктика» (греч.)

- «анти» — против,
- «арктикос» — северный.

т. е. Земля, лежащая против северной полярной области земного шара — Арктики.



--- - Южный полярный круг



Первооткрыватели Антарктики



Фаддей
Беллинсгаузен



Михаил
Лазарев



Руаль
Амундсен



Роберт
Скотт

Экспедиция Р. Амундсена

14.12.1911г. достиг Южного полюса (99 дней)



Экспедиция Р. Скотта

18.01.1912г. достиг Южного полюса (79 дней)

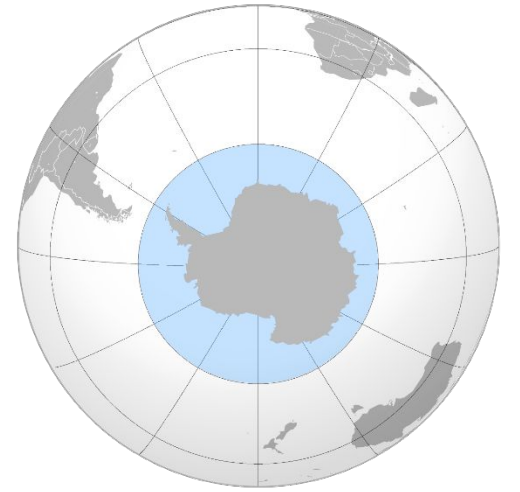


«...Мы знали, на что идем и ни о чем не жалеем!» (из дневника Р. Скотта)



«Знаем, плавали!»

(выберите верные утверждения)



1. Почти весь материк расположен в пределах Южного полярного круга.
2. Из всех материков к Антарктиде ближе всех находится Австралия.
3. Экспедиции Амундсена и Скотта первыми побывали на Южном полюсе.
4. От Южной Америки Антарктида отделена проливом Дрейка.
5. Название Антарктида» в переводе с греческого языка означает «северный».
6. Антарктида омывается водами двух океанов.
7. Антарктида не принадлежит ни одному государству.
8. На территории Антарктиды расположены пять российских станций.

Рефлексия

Вопрос	А как на самом деле?
1. Какой материк – Африка (1) или Южная Америка (2)- расположен ближе к Антарктиде?	2
2. Антарктиду отделяет от Южной Америки Магелланов пролив (1) или пролив Дрейка (2)?	2
3. Антарктический полуостров расположен ближе к Африке (1) или Австралии(2)?	1
4. Море Уэдделла находится к востоку (1) или к западу (2) от Антарктического полуострова?	1
5. У Антарктиды 4 крайних точки (1) или меньше (2)?	2

Домашнее задание

- Прочитать § 40 (белый уч.), § 48 (черный уч.); § 34 (желтый уч.).
- Выполнить задания в контурных картах на стр. 8

