

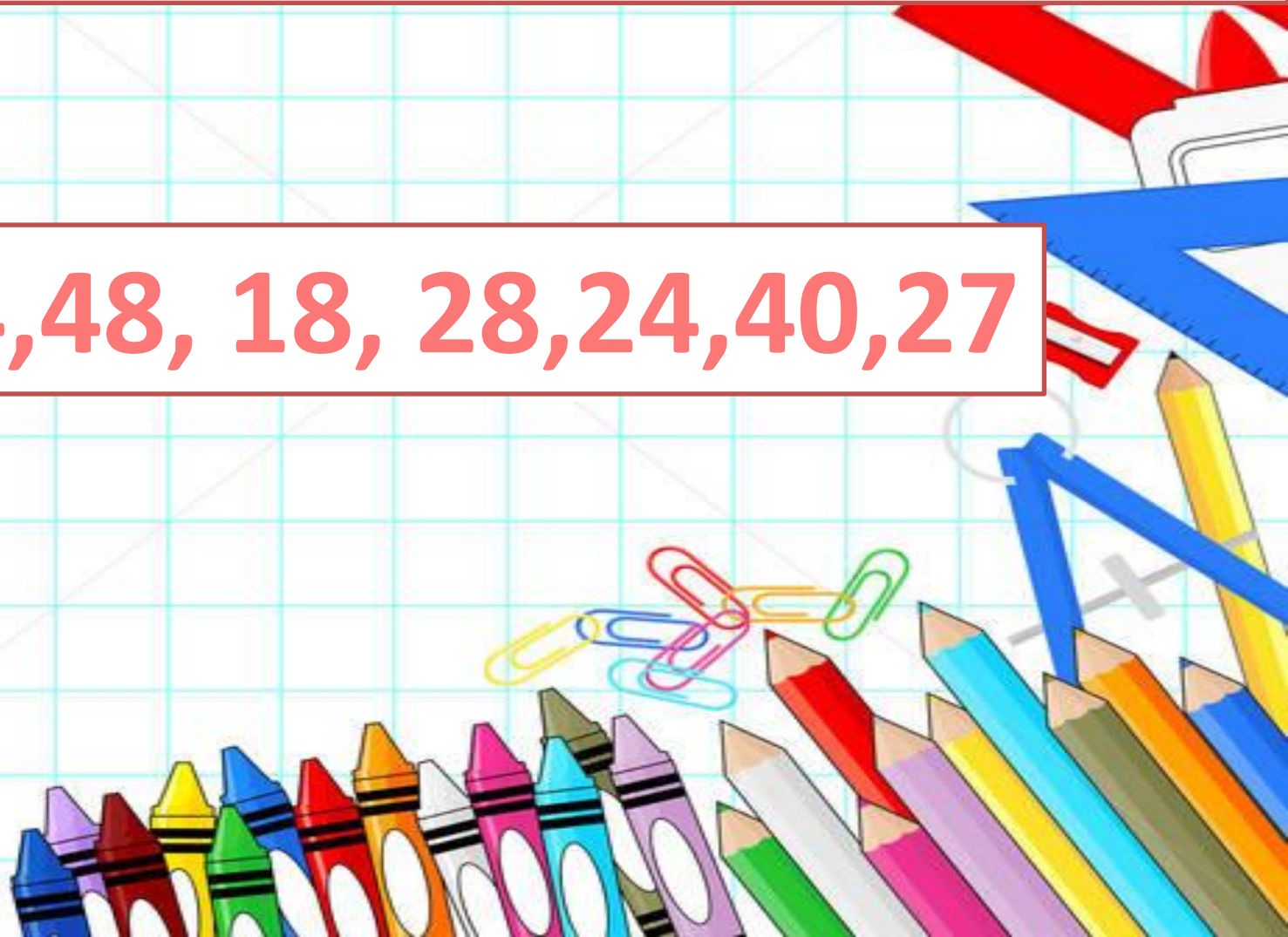


Математик

а

# Представь в виде двух множителей

64,48, 18, 28,24,40,27



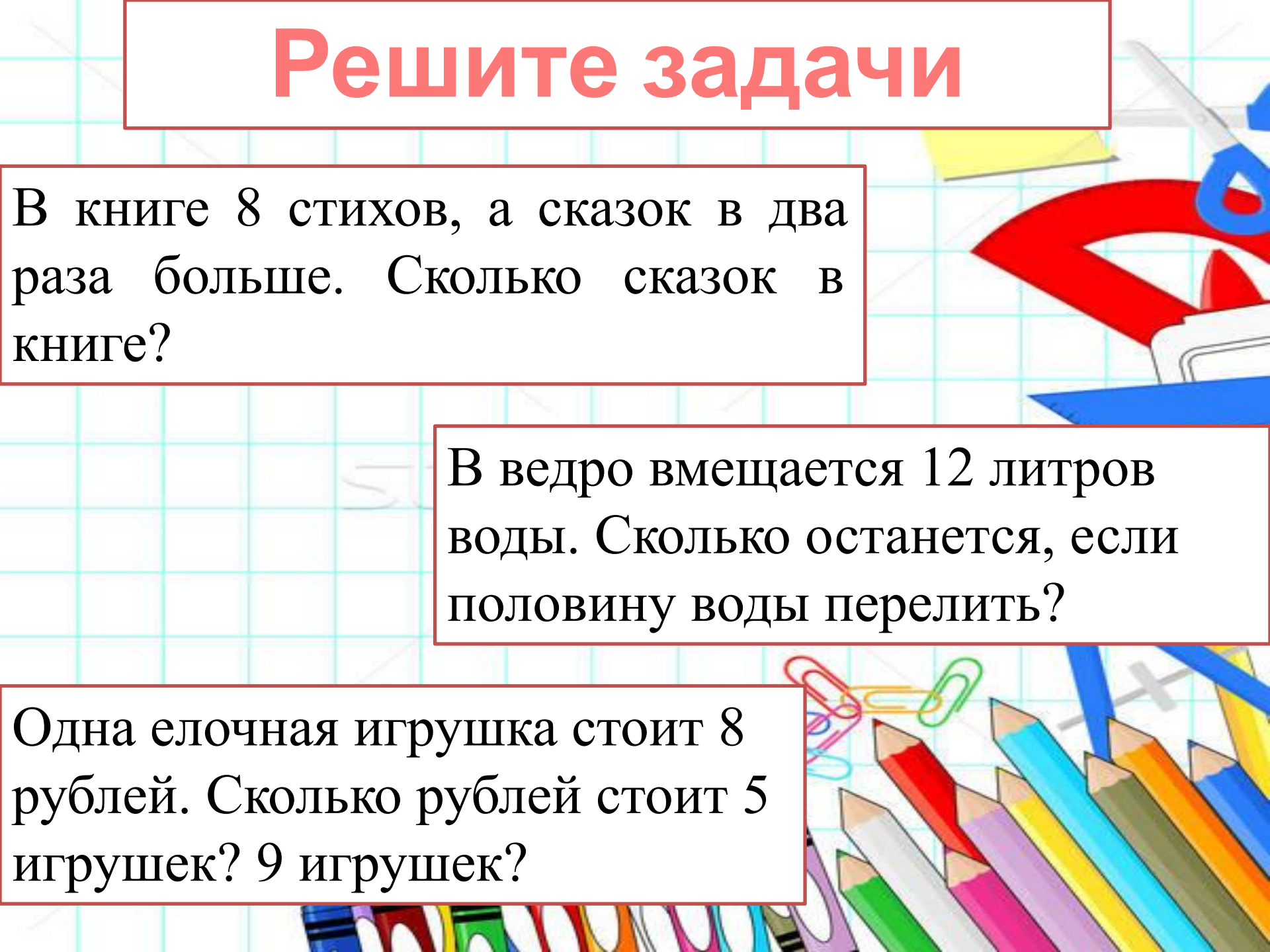
# Решите задачи



В книге 8 стихов, а сказок в два раза больше. Сколько сказок в книге?

В ведро вмещается 12 литров воды. Сколько останется, если половину воды перелить?

Одна елочная игрушка стоит 8 рублей. Сколько рублей стоит 5 игрушек? 9 игрушек?





# На S и P прямоугольника, используя таблицу

<b>a</b>	<b>8 см</b>	<b>4 см</b>	<b>2см</b>
<b>b</b>	<b>2 см</b>	<b>8 см</b>	<b>8 см</b>
<b>P</b>	<b>20 см</b>	<b>24 см</b>	<b>20 см</b>
<b>S</b>	<b>16 см<sup>2</sup></b>	<b>32см<sup>2</sup></b>	<b>16см<sup>2</sup></b>

$$P=(a+b)*2$$

$$S=a*b$$

# Найди лишнее выражение

$$21:3$$

$$35:5$$

$$42:6$$

$$28:7$$

$$49:9$$

$$63:9$$




# Составьте примеры на деление

$$4 * 6 = 24$$

$$8 * 1 = 8$$

$$6 * 0 = 0$$



# Деление нуля на число

Узнаем о способе

...

Будем

применять...

Поупражняемся