






Математик

а




a	180	720	480	540	360	3	0
a:3							




$$49 : 7 + (80 - 69) \cdot 5$$

$$85 - (82 - 28) : 6 - 14 \cdot 4$$

$$56 : 8 \cdot 7 + 3 \cdot (94 - 77)$$


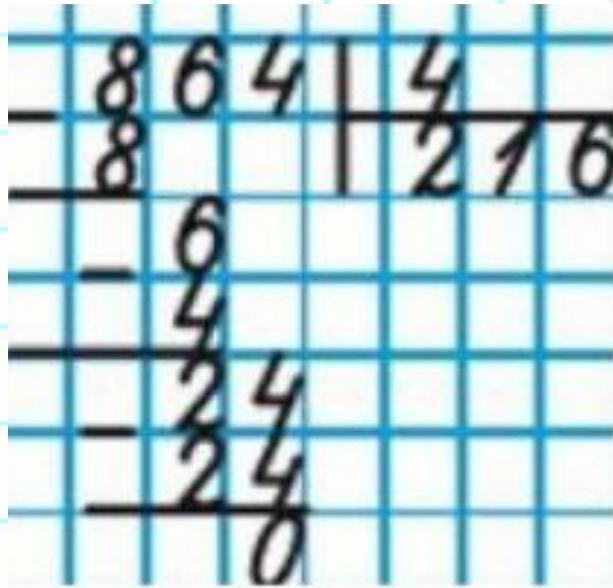


Найдите площадь и периметр прямоугольника, если длина 12 см, а ширина в 3 раза меньше.





$$864:4$$





Blank handwriting practice line with a dashed midline.

