




Математик

а

На майках 25 спортсменов написаны их порядковые номера. Каких номер больше, четных или нечетных?

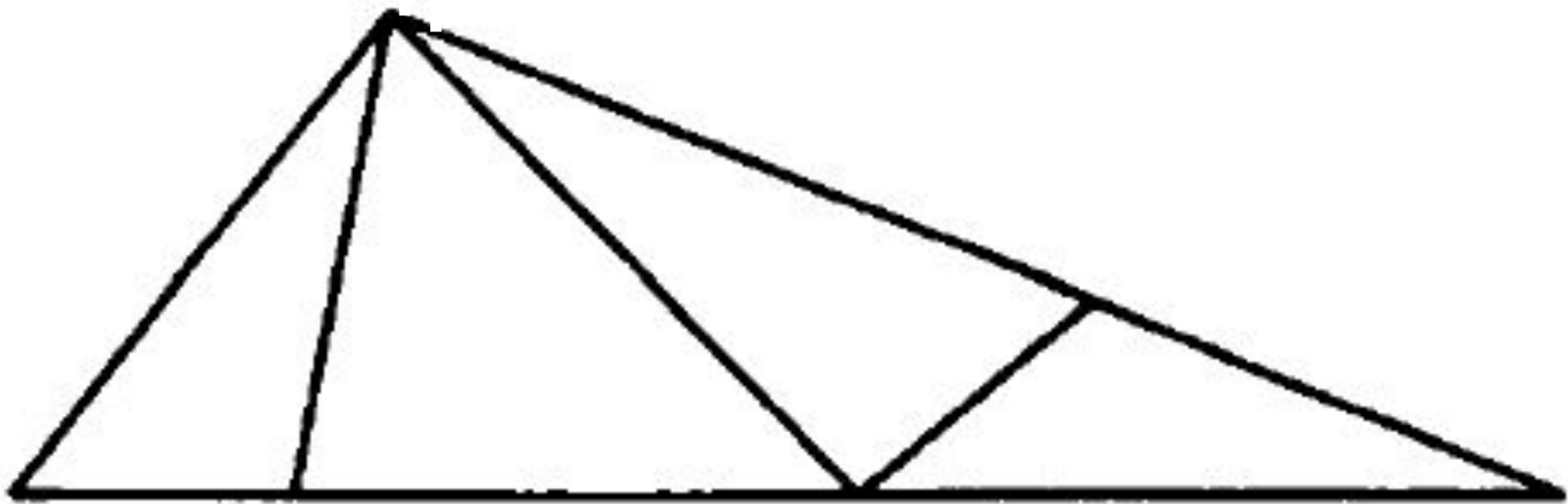
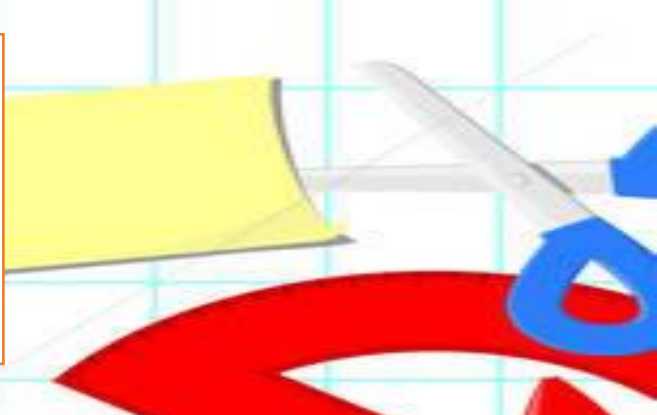






$36:3$	$16 \cdot 7$	$44:4$	$19 \cdot 7$	$38:2$	$12 \cdot 1$
$17 \cdot 1$	$144:8$	$14 \cdot 8$	$45:3$	$14 \cdot 4$	$171:9$
$32 \cdot 2$	$19 \cdot 9$	$112:8$	$11 \cdot 7$	$56:4$	$17 \cdot 8$







Имя

$78 \text{ см} = \dots\dots\dots \text{дм} \dots\dots\dots \text{см}.$   
 $805 \text{ см} = \dots\dots\dots \text{м} \dots\dots\dots \text{дм} \dots\dots\dots \text{см}$   
 $65 \text{ дм} = \dots\dots\dots \text{м} \dots\dots\dots \text{дм} \dots\dots\dots \text{см}$







285:3

Какой алгоритм нужно вспомнить, чтобы  
выполнить деление?

