




Математик

а

Маша ниже ростом, чем Надя, а Катя выше ростом, чем Надя.  
Кто выше ростом – Катя или Маша. Расставьте девочек по росту.

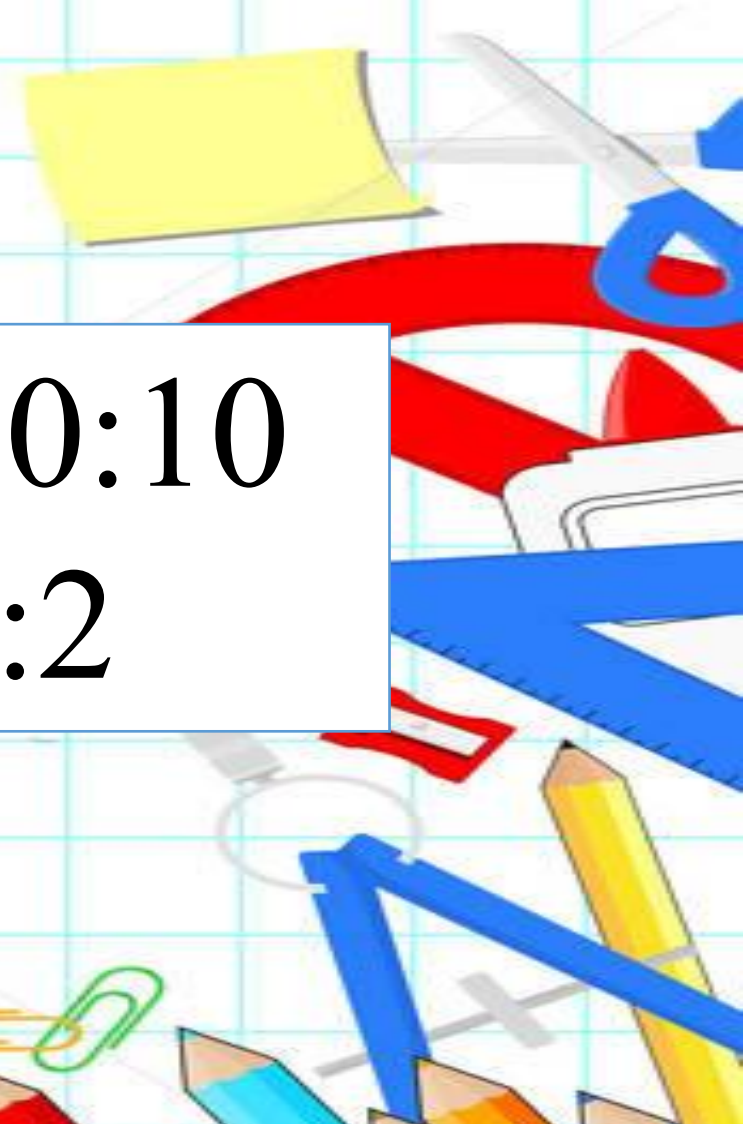









<b>a</b>	<b>6</b>	<b>5</b>		<b>9</b>	<b>7</b>	<b>0</b>
<b>b</b>	<b>7</b>		<b>8</b>			<b>5</b>
<b>a*b</b>		<b>20</b>	<b>48</b>	<b>9</b>	<b>0</b>	




$$50 * 4 + 90 * 3$$

$$70 * 3 + 80 : 10$$

$$27 : (9 * 3)$$

$$68 : 2 : 2$$






$216 * 3$

Как выполнить умножение?

1 сп.  $(200 + 16) * 3 = 648$

2 сп. Выполнить вычисления в столбик

