




Математик

а

Света решила столько задач, сколько Лена, а Лена столько, сколько Марина. Что можно сказать о числе задач, решенных этими девочками?








<b>Слагаемое</b>	<b>50</b>	<b>60</b>	<b>43</b>	<b>220</b>		<b>410</b>
Слагаемое	80		95		305	190
Сумма		230		890	890	

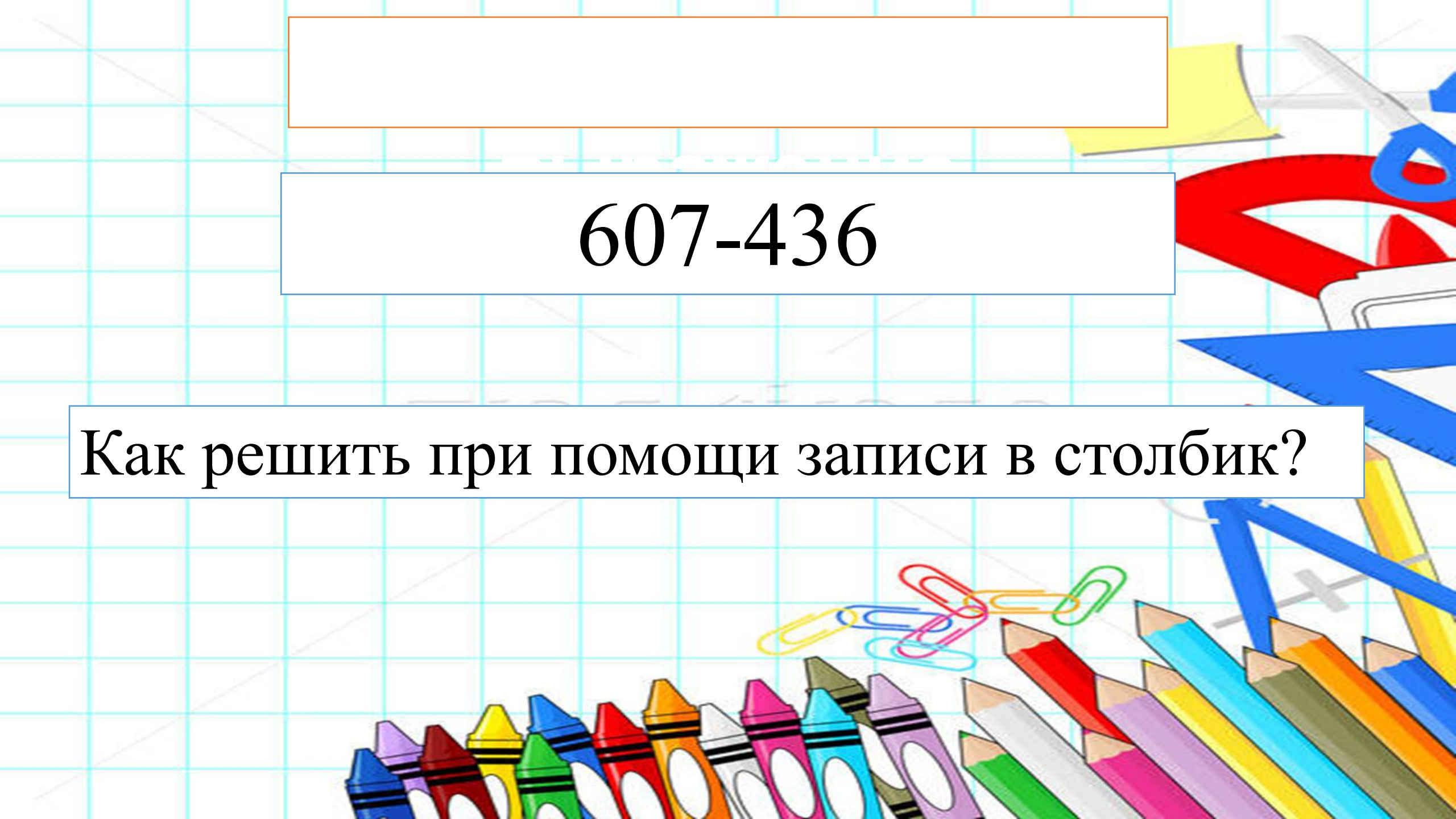




$13 * 2$      $65 : 5$      $36 : 2$   
 $25 + 26$      $46 + 27$      $145 + 38$







607-436

Как решить при помощи записи в столбик?

