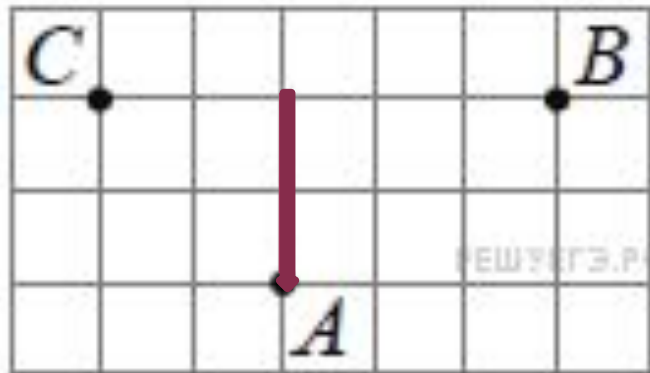


ОПЕРИРОВАНИЕ ПОНЯТИЯМИ ГЕОМЕТРИЧЕСКИХ ФИГУР

(ПОДГОТОВКА К ВПР
7 КЛАСС)

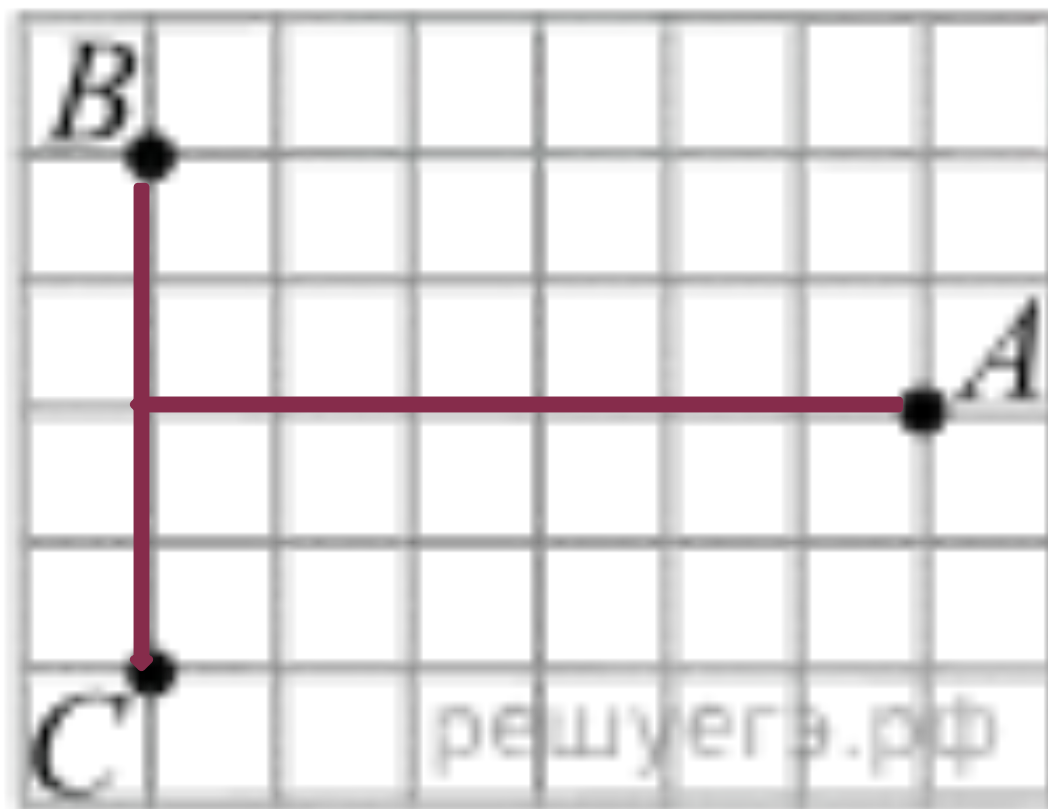
Выполнила Чурина Елена Вениаминовна,
учитель математики первой
квалификационной категории
МБОУСОШ №1 г. Южи

На клетчатой бумаге с размером клетки 1 см × 1 см отмечены три точки: A , B и C . Найдите расстояние от точки A до прямой BC . В ответе укажите число.



Ответ: 2

На клетчатой бумаге с размером клетки $1\text{ см} \times 1\text{ см}$ отмечены точки A , B и C . Найдите расстояние от точки A до середины отрезка BC . Ответ выразите в сантиметрах.



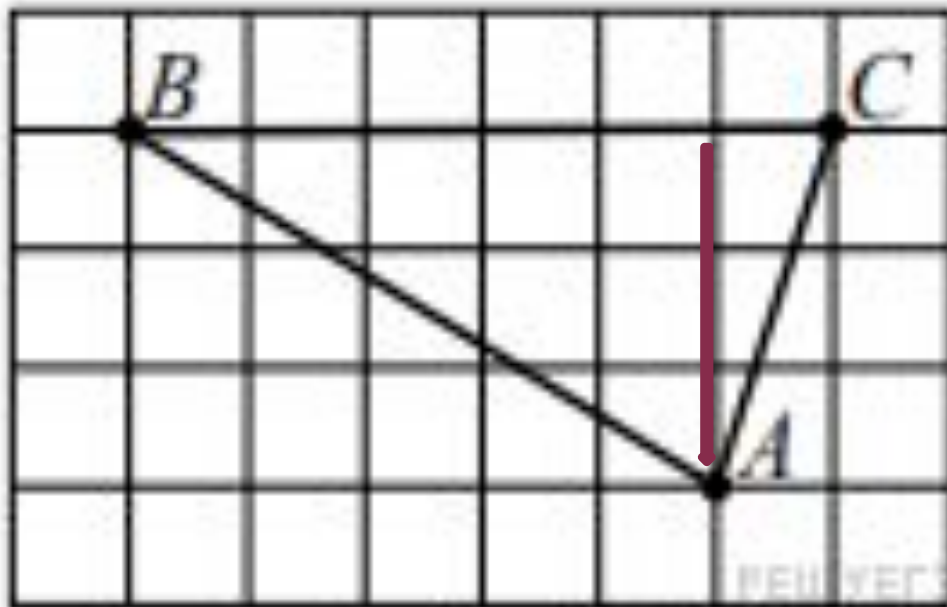
Ответ: 6

На клетчатой бумаге с размером клетки 1 x 1 изображена фигура. Найдите её площадь.



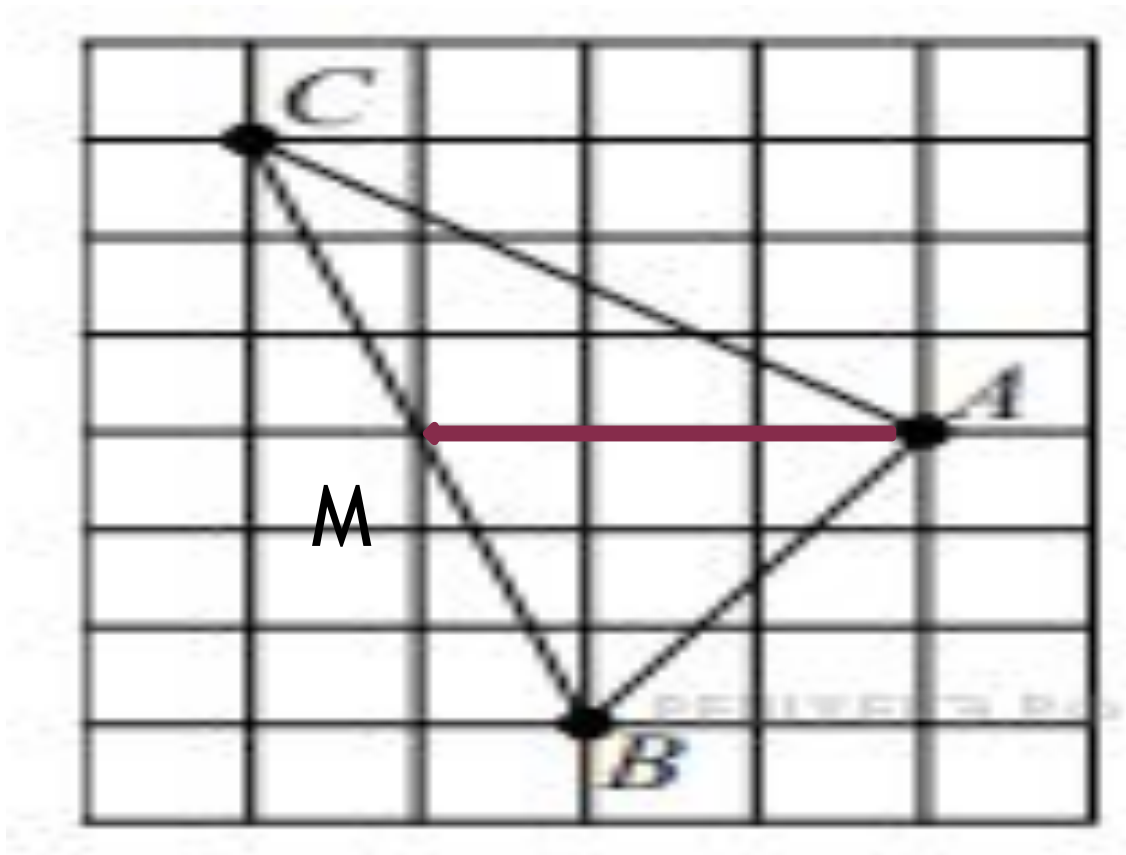
Ответ: 10

На клетчатой бумаге с размером клетки 1×1 нарисован треугольник ABC . Найдите высоту, проведённую из вершины A к стороне BC .



Ответ: 3

- На клетчатой бумаге с размером клетки 1×1 нарисован треугольник ABC . Найдите медиану AM треугольника ABC .



Ответ: 3

⦿ ИСТОЧНИК:

[https://math7-vpr.sdangia.ru/test?filter=all
&category_id=13&print=true&svg=0&num=true](https://math7-vpr.sdangia.ru/test?filter=all&category_id=13&print=true&svg=0&num=true)