




Математик


а




280:40 320:4 800:100 800:80 1500:500

**187:90 423:70 2560:500 907:300 489:80**

405\*60 74\*80 63\*90 58\*20 98\*70 47\*80



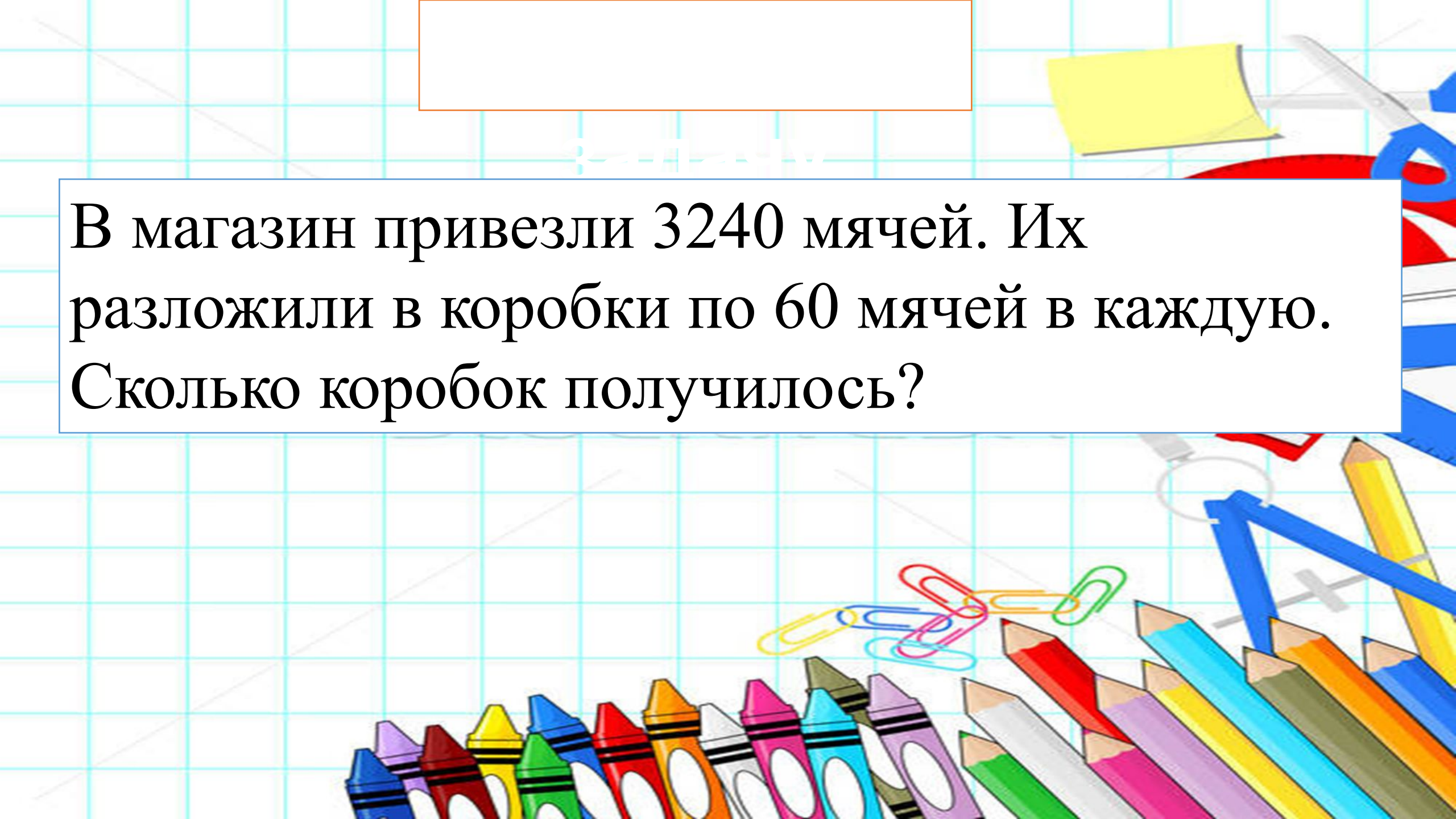


Вале 16 лет, а ее брат младше ее в четыре раза. Сколько лет брату?

Оля родилась в июне 2012 года. Сколько ей будет полных лет в августе 2021?

Чему равна 3 часть от отрезка длиной: 21 см, 9 см, 12 см, 24 см?





В магазин привезли 3240 мячей. Их разложили в коробки по 60 мячей в каждую. Сколько коробок получилось?

[Empty rectangular box for text]

# PROBLEMA

[Empty rectangular box for text]

