





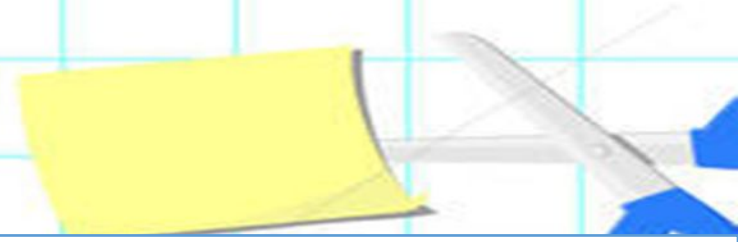
Математик

а



$3800*40$ $4200*60$ $213*90$ $487*40$ $529*800$
 $674*800$ $905*200$ $708*600$ $84*10-40$ $78*10-700$
 $10*(920-20)$ $8*(720-700)$ $184*100-300$ $316*3$
 $100*391-3000$ $3070*80$ $40300*20$







В спасательную шлюпку помещается 30 человек. Сколько нужно шлюпок для спасения 672 людей?

В магазине было 804 кг моркови, ее разложили в ящики по 25 кг. Сколько полных ящиков получилось?





Из поселка одновременно в противоположных направлениях вышли два пешехода. Скорость одного 5 км/ч, а другого 4 км/ч. На каком расстоянии будут друг от друга пешеходы через 3 часа?



Из поселка одновременно на встречу друг другу вышли два пешехода. Скорость одного 5 км/ч, а другого 4 км/ч. Какое расстояние пройдут пешеходы через 3 часа?



