





Математик

а

На одной чаше весов лежит большой кочан капусты, а на другой – гиря в 2 кг и маленький кочан капусты. Весы находятся в равновесии. На сколько масса большого кочана больше, чем маленького?






<b>a</b>	<b>21</b>		<b>11</b>		<b>1</b>	
<b>b</b>	<b>3</b>	<b>8</b>		<b>5</b>		<b>0</b>
<b>a*b</b>		<b>64</b>	<b>44</b>	<b>25</b>	<b>9</b>	<b>0</b>



400-200:2    48:(8\*2)    560-160:8    84:(7\*2)  
600-400:5




$$45 * 2 = 2 * 45$$
$$3 * 328 = 328 * 3$$

Какое свойство умножения применили?



