



Математик

а

73:9 40:7 63:9 42:8 51:8 60:9

900*0 582*1 0*1000 693*1
652*0 75*10 0*852 1*1.000.000



В саду растет 6 яблонь, это третья часть от всех деревьев сада. Сколько деревьев в саду?

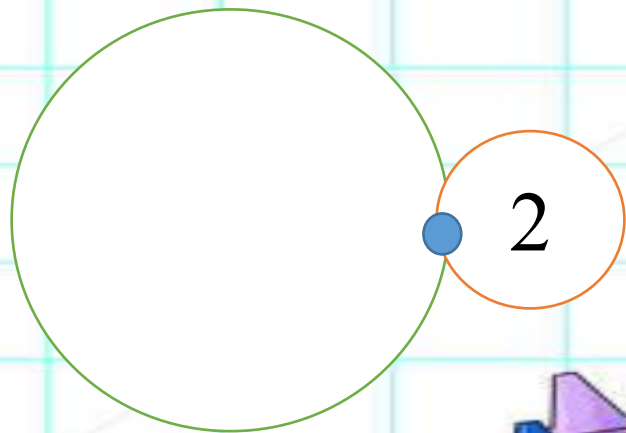

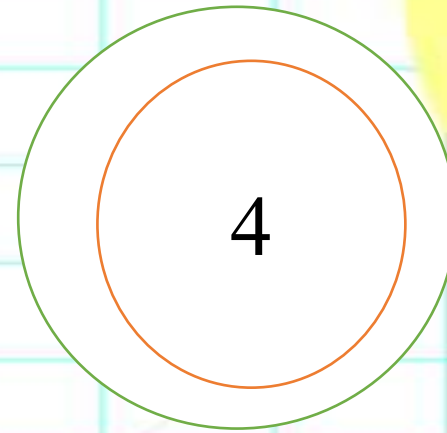
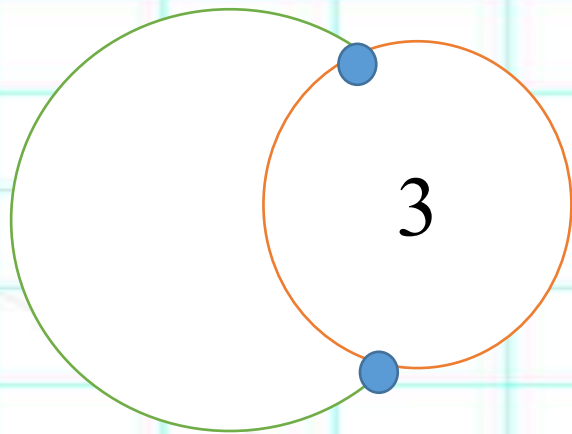

$$6 * 3 = 18$$

Мама купила 6 кг мандарин, это на 3 кг больше, чем хурмы. Чему равна масса хурмы?

$$6 - 3 = 3$$

Лене 6 лет, она на 3 года младше своего брата. Сколько лет брату?

$$6 + 3 = 9$$



Чем похожи и чем различаются
рисунки:

1 и 2, 2 и 3, 3 и 4, 1 и 4.



$$800 * 7$$

$$8\text{COT.} * 7 = 56$$

$$800 * 7 = 5600$$

COT.





Yearbook

