



Математик

а

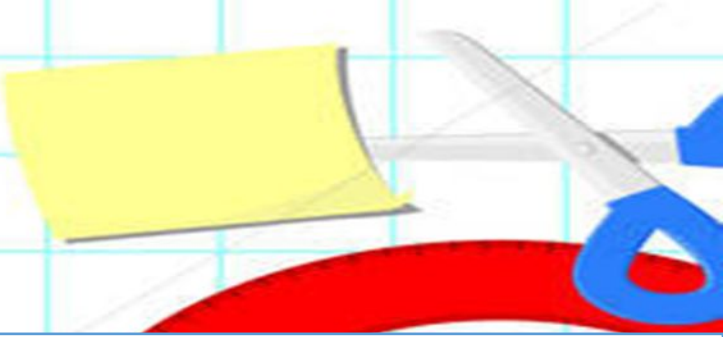

1. Что обозначают буквы: S , V , t ?

2. Чтобы найти S (путь) нужно...

3. Чтобы найти V (скорость) нужно...



4. Чтобы найти t (время) нужно...

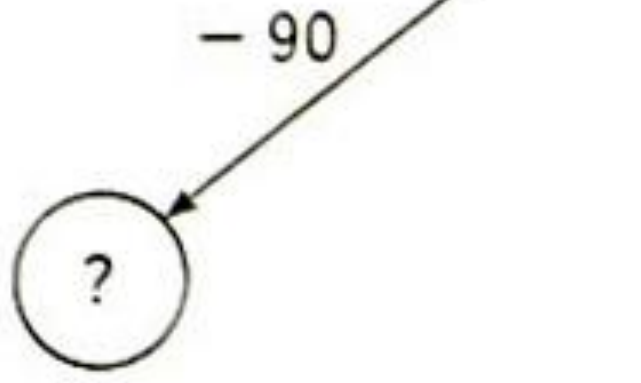
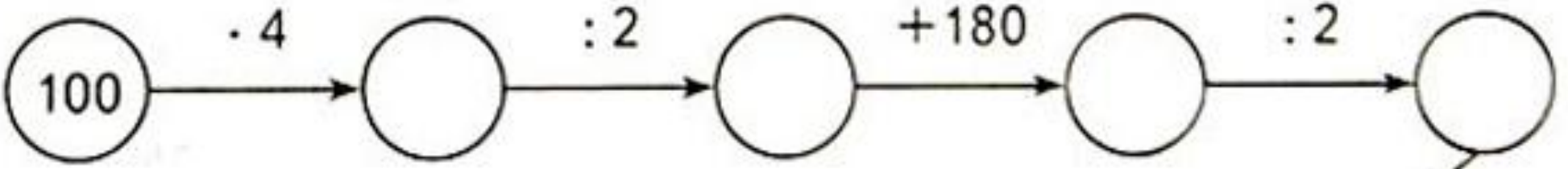
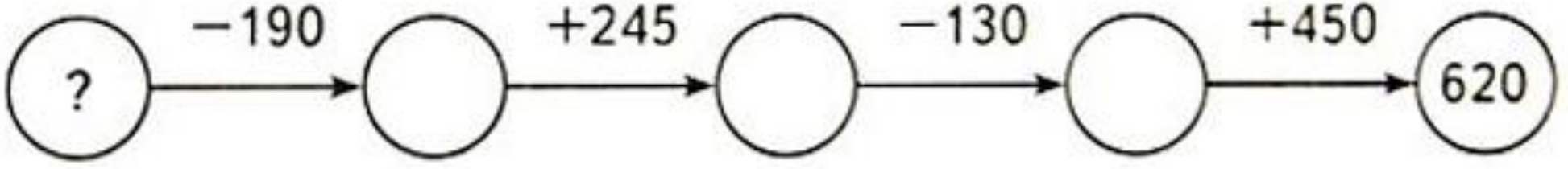
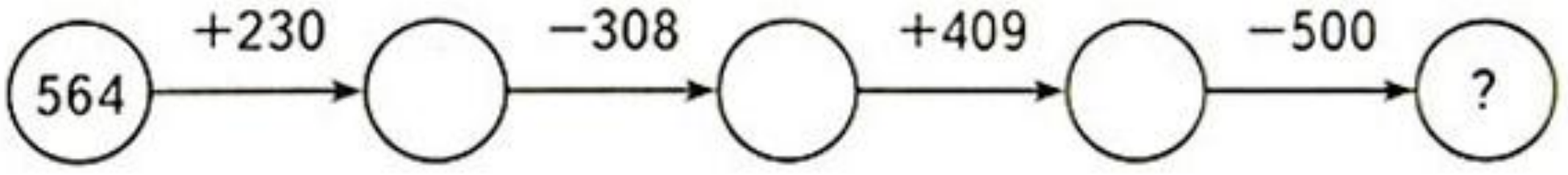




$550:10:2$ $73-51:3$ $60:15+92$ $23*3+90:5$ $45*2-18*9$
 $60*8$ $27+91:7$ $9*8+35:5$ $8*8+72:6$ $84:4*3-16$

За 3 часа велосипедист проезжает 21 км. Какой путь проедет велосипедист за час?







27:9 8325:9 307+402 48756+19865

STOCKFRESH



[Empty rectangular box]

KAKI KRESA

[Empty rectangular box]

