



Математик

а

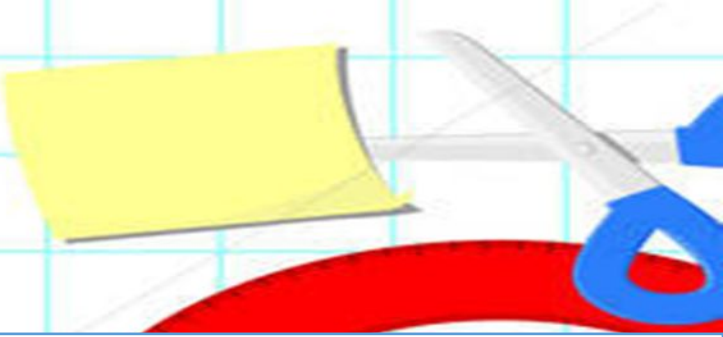

1. Что обозначают буквы: S , V , t ?

2. Чтобы найти S (путь) нужно...

3. Чтобы найти V (скорость) нужно...


4. Чтобы найти t (время) нужно...




$$x + 18 = 72 * 2$$

$$91 - x = 52 - 47$$

$$12 \text{ ч } 53 \text{ мин} - 6 \text{ ч } 19 \text{ мин}$$
$$3520 \text{ м} + 1802 \text{ м}$$

$$7 \text{ м } 6 \text{ д} * 2 \text{ м } 8 \text{ дм}$$
$$560 \text{ м} : 7 \text{ м}$$




Позавчера был вторник, какой день будет послезавтра?

Найдите площадь прямоугольника со сторонами 9 м и 5 м.

Поезд выехал со станции в 15.45, а приехал в 7.05 утра следующего дня. Сколько времени занял путь?

Поезд проехал расстояние 540 км и затратил на это 6 часов. С какой двигался поезд?

Велосипедист едет со скоростью 18 км/ч. Какое он проедет за 3 часа?

Мотоциклист ехал со скоростью 80 км/ч и проехал 480 км. Сколько занял путь?



[Empty rectangular box]

KAKI KRESA

[Empty rectangular box]

