

математическая игра

СЛОЖИ ПОСЛОВИЦУ

ГО.

за

Один

ОДНО-

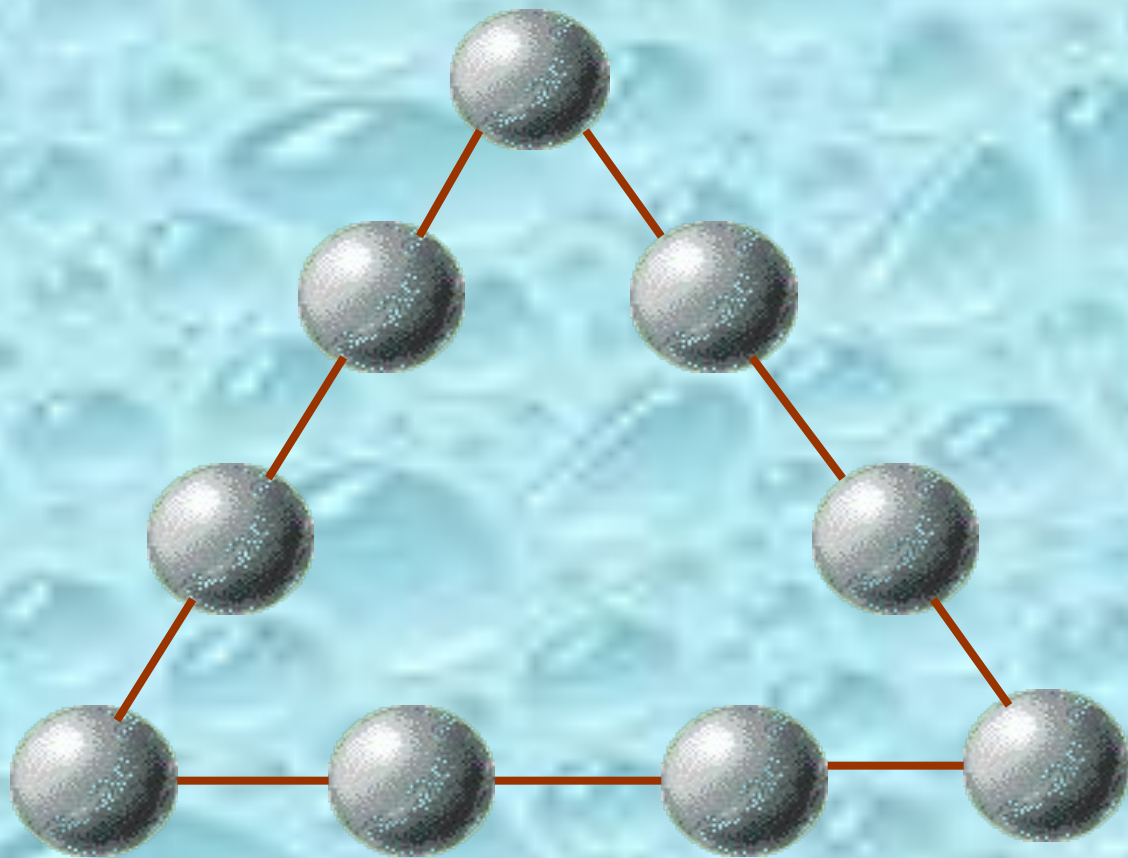
ВСЕХ,

ВСЕ


И

за

загадочный треугольник















Расставь на шарах цифры от 1 до 9 так, чтобы их суммы на каждой из сторон треугольника были равны.














ШПИОНСКИЕ СТРАСТИ


В этой зашифрованной записи одинаковые знаки обозначают одинаковые цифры от 0 до 9. Расшифруйте запись.

Row 1:   +  =   

Row 2:   ×  =   


Row 3:   :  =  

Row 4:   -   =  

Row 5: 


альпинисты

В доме десять этажей. Во сколько раз лестница на десятый этаж дома длиннее, чем на второй?



продолжи ряд чисел

1, 1, 2, 3, 5, 8, 13...



ИСКЛЮЧИ ЛИШНЕЕ СЛОВО

МАМУС

сумма

СОЧЛИ

число


шкока



кошка

НУСИМ

МИНУС



НАКОРМИМ ЖИВОТНЫХ


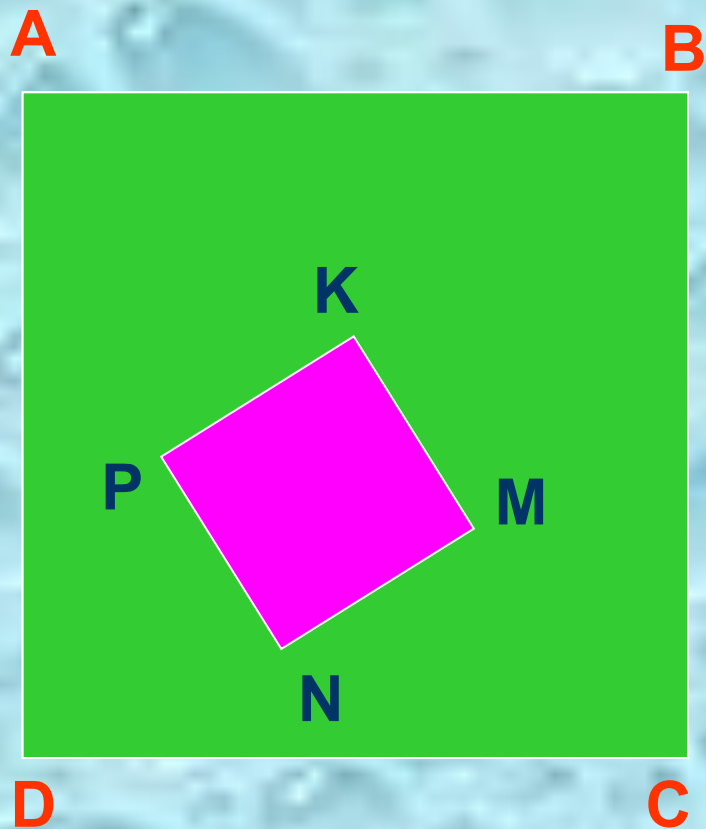
Лошадь съедает один воз сена за месяц, осел - за полтора месяца, а коза - за три месяца. Сколько возов сена лошадь, осел и коза съедают за один месяц?



сравним площади


Сторона квадрата ABCD в 3 раза больше стороны квадрата MNPК.

Во сколько раз площадь заштрихованной фигуры больше, чем площадь квадрата MNPК?





урожай

Любушка да
Марьюшка вместе съели
9 яблочек, Любушка да
Лизонька 10 яблочек,
Лизонька да Марьюшка
11 яблочек. Сколько
яблочек вместе съели
Марьюшка, Любушка и
Лизонька?



ПОЛЕЗНО ЗНАТЬ


На все товары наносят штрих-код, который образован черными и белыми полосками, причем, крайние полосы черные. Черных полосок обычно 30, они бывают узкие и широкие. Число белых полос на 10 больше, чем узких черных. Сколько широких черных полос имеет такой штрих-код?



ТЕСТ НА ВНИМАНИЕ

Какой фигуры нет
на рисунке?

- а) круга;
- б) квадрата;
- в) прямоугольника;
- г) треугольника;
- д) все перечисленные
фигуры есть.



**«НЕЛЬЗЯ БЫТЬ МАТЕМАТИКОМ, НЕ
БУДУЧИ В ТО ЖЕ ВРЕМЯ И ПОЭТОМ В
ДУШЕ!»**

Софья Васильевна Ковалевская

СПАСИБО!!!