

СЕМЯ

контрольная работа

Используя код, ответьте
на следующие вопросы.

I вариант



I вариант

Чем покрыто семя пшеницы снаружи?

II вариант

Чем покрыто семя фасоли снаружи?

II вариант



Код

Кожура	1
Рубчик	2
Корешок	3
Почечка	4
Стебелёк	5
Две семядоли	6
Одна семядоля	7
Плодовая оболочка	8

Используя код, ответьте
на следующие вопросы.

I вариант



I вариант

Сколько семядолей у пшеницы?

II вариант

Что образуется у фасоли на месте
прикрепления семени к плоду?

II вариант



Код

Кожура	1
Рубчик	2
Корешок	3
Почечка	4
Стебелёк	5
Две семядоли ...	6
Одна семядоля ..	7
Плодовая оболочка	8

Используя код, ответьте
на следующие вопросы.

I вариант



II вариант



Код

- Кожура 1
- Рубчик 2
- Корешок 3
- Почечка 4
- Стебелёк 5
- Две семядоли . . . 6
- Одна семядоля . . 7
- Плодовая
оболочка 8

I вариант


Какое строение имеет зародыш пшеницы?

II вариант

Какое строение имеет зародыш фасоли?

Используя код, ответьте
на следующие вопросы.

I вариант



I вариант

Что образуется на стенках пробирки,
если в ней подогреть семена?

II вариант



II вариант

Какие вещества сгорают при сжигании семян?

Код

Жиры	1
Вода	2
Белок	3
Крахмал	4
Минеральные вещества	5
Органические вещества	6

Используя код, ответьте
на следующие вопросы.

I вариант



II вариант



	Код
Жиры	1
Вода	2
Белок	3
Крахмал	4
Минеральные вещества	5
Органические вещества	6

I вариант Какие органические вещества содержатся
в семенах пшеницы?

II вариант Какие негорючие вещества содержатся
в семенах фасоли?

В каких частях семян пшеницы и фасоли находятся питательные вещества?

Пшеница

Фасоль

I вариант

II вариант



Код

- | | |
|-------------------------------|---|
| В кожуре | 1 |
| В семядолях | 2 |
| В эндосперме . . . | 3 |
| В плодовой оболочке | 4 |

Какие из этих семян прорастут,
если будет тепло?



I вариант

II вариант



1

2



1

2

При какой температуре прорастают семена этих растений?

I вариант



Дыня

II вариант



Рожь

Код

+15°	...	1
+12°	...	2
+10°	...	3
+8°	...	4
+5°	...	5
+3°	...	6
+2°	...	7
+1°	...	8

При какой температуре прорастают семена этих растений?

I вариант



Помидор

II вариант



Огурец

Код

+15°	...	1
+12°	...	2
+10°	...	3
+8°	...	4
+5°	...	5
+3°	...	6
+2°	...	7
+1°	...	8

9


При какой температуре прорастают семена этих растений?

I вариант



Пшеница

II вариант



Кукуруза

Код

+15°	...	1
+12°	...	2
+10°	...	3
+8°	...	4
+5°	...	5
+3°	...	6
+2°	...	7
+1°	...	8

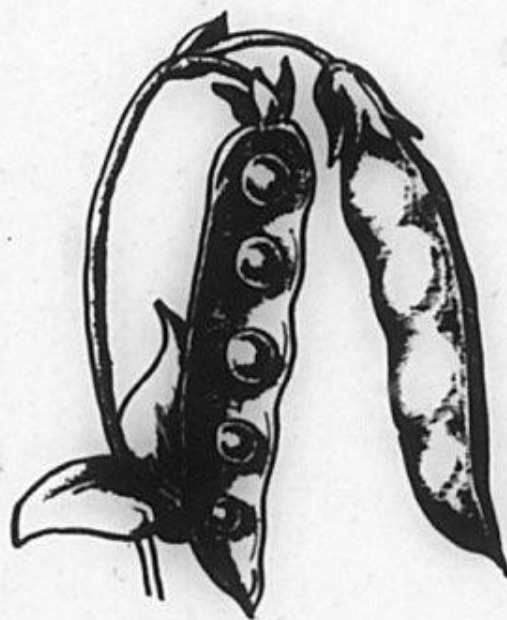
При какой температуре прорастают семена этих растений?

I вариант



Морковь

II вариант



Горох

Код

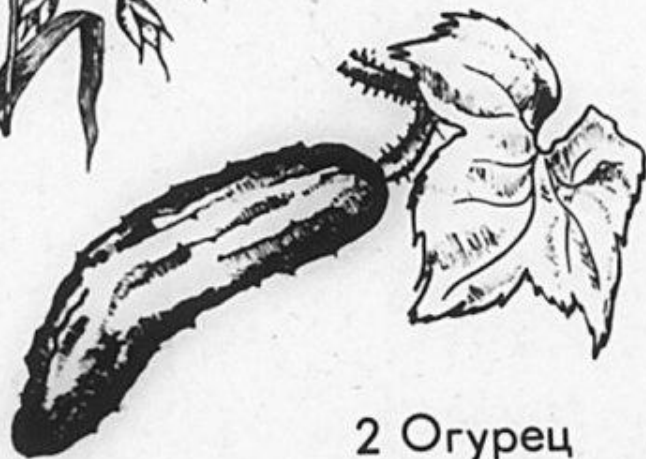
+15°	...	1
+12°	...	2
+10°	...	3
+8°	...	4
+5°	...	5
+3°	...	6
+2°	...	7
+1°	...	8

Назовите растения:

I вариант
теплолюбивые



1 Овёс



2 Огурец

II вариант
холодостойкие



2 Арбуз



1 Ячмень

Назовите растения:

I вариант
теплолюбивые



I Горох

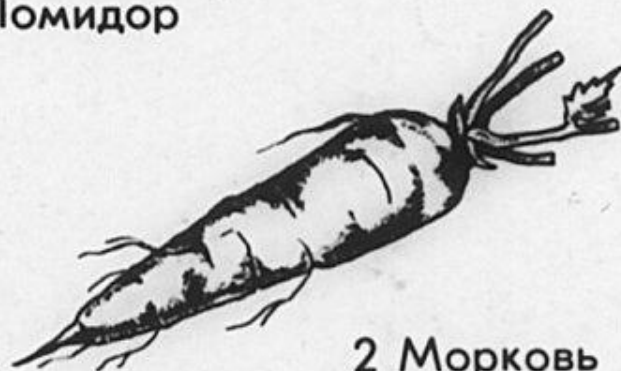


2 Абрикос

II вариант
холодостойкие



I Помидор




2 Морковь

Назовите растения:

I вариант
теплолюбивые

II вариант
холодостойкие



1 Кукуруза



2 Лён



2 Пшеница



1 Фасоль

Проверьте ответы :

I вариант:

8 , 7 , 3457 , 2 , 134 , 3 , 2 , 1 , 3 , 6 , 5 , 2 , 2 , 1

II вариант:

1 , 2 , 3456 , 6 , 5 , 2 , 1 , 8 , 2 , 4 , 7 , 1 , 2 , 2