

**Сложение и вычитание чисел
первого десятка.**

Состав чисел 7,8,9.

Безденежных Марина
Николаевна

МБОУ «СОШ № 25» г.Абакана

Красавица какая
Стоит, светло сверкая!
Как пышно убрана!
Скажите: кто она?





Помоги Снеговикау нарядить елочку



$2+5=7$

$4+3=7$

$7-2=5$

$7-5=2$

$7-4=3$

$7-1=6$


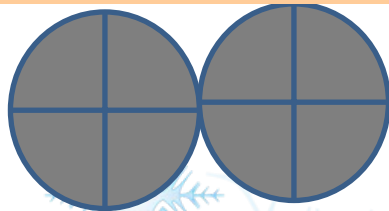

$7-6=1$

$1+6=7$

Дополни до 8

8

1	2	1	2	3	6	5	8	4
7	6	7	6	5	2	3	0	4





8

5

3

4

1

6

2




$$2+6=$$



$$3+5=8$$



$$6+2=$$



$$5+3=8$$



$$8-2=$$



$$8-5=3$$



$$8-6=$$



$$8-3=5$$



 $7+1=$



$4+4=8$

$1+7=$



$8-4=4$

$8-1=$



$8-8=0$

$8-7=$



$8-0=8$





9

5

4

8

1

6

3

2

7






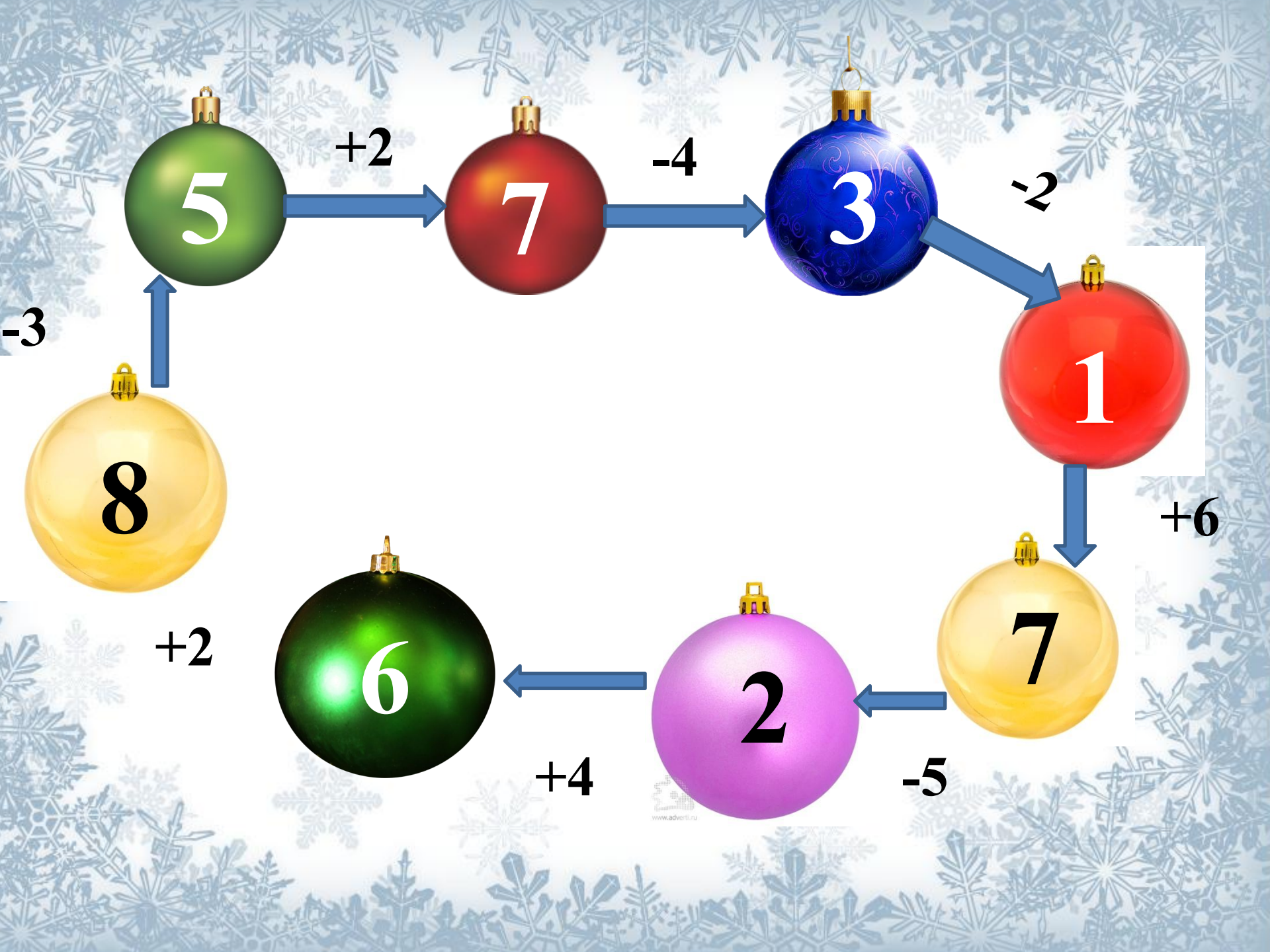
Дополни до 10

10

1 2 3 4 5 6 7 8 9

9 8 7 6 5 4 3 2 1





+2

-4

-2

-3

+6

+2

+4

-5

www.advert.ru

$$7 - 6 < 2$$

$$8 - 3 > 4$$

$$7 - 2 < 8$$

$$8 - 6 < 7$$

$$7 - 5 > 1$$

$$8 - 4 < 5$$

Коля повесил на ёлку сначала 6 игрушек, а затем еще 3. Сколько игрушек повесил на ёлку мальчик?




$$6+3=9 \text{ (иг.)}$$

Ответ: 9 игрушек.



Задача



Как тремя прямыми отделить кроликов от моркови?



**СКОЛЬКО ШЛО ГОЛОВ И НОГ –
СОСЧИТАЕШЬ ЛИ, ДРУЖОК?**



Мне навстречу бежали
поросята. Один впереди
двух. Один между двух.
Один позади двух. Сколько
всего бежало поросят?





<http://www.fonstola.ru/large/201304/93577.jpg>

<https://img4.goodfon.ru/original/2560x1440/d/33/novyi-god-prazdnik-minimalizm-zima-fon-sneg-snezhinki-rozh-3.jpg>

<https://fs00.infourok.ru/images/doc/146/168953/img13.jpg>