



Урок математики в 3 классе



Девиз урока

Думать — коллективно!

Решать — оперативно!


Отвечать —

доказательно! Чертить


— старательно!

И открытия нас ждут

обязательно!



Мальчик написал на бумажке
число 86 и говорит своему
товарищу: «Не производя
никакой записи, увеличь это
число на 12 и покажи мне
ответ». Недолго думая,
товарищ показал ответ




86

98

Какое число получится,
Если перемножить
Количество хоботов у слона,
шей у вертишейки,
Панцирей у черепахи, клювов у дятла,
Крыльев у воробья, глаз у зайца,
Хвостов у головастика, гребешков у
петуха,
Рогов у осла, лап у медведя,
Бивней у мамонта, копыт у лошади,
Ног у сороконожки и щупалец у

осьминога?

0




Ребус

’ ’)



И




Заврики

Пробный тур
23 -30 ноября

Дорога в школу


Развёртка

Этажи



**Запиши ответы на
таблицу умножения на 7 в
порядке убывания**

Назовите ответы в группе



14


35

28

49

42

21



2


10

7

9

3

4



Вырази в мм

4 см =


40 мм

7 см =

70 мм

8 см =

80 мм



Вырази в см

50 мм =


5 см

90 мм =

9 см

10 мм =

1 см



Вырази в см и мм

67 см =


6 см 7 мм

83 см =

8 см 3 мм


718 см =

71 см 8 мм



Самостоятельная работа


0 ошибок -



1-2 ошибки -



3-4 ошибки -




??????

ММ


СМ

ДМ



Тема урока

Миллиметр и дециметр




Цель урока

Узнать соотношение
между

~~мм и см~~
Узнать соотношение
между

~~Узнать соотношение~~
между

мм и дм



???????

1 см =


10 мм

1 дм =

10 см

1 дм =

100 мм



Самопроверка

7 дм =

700 мм

2 дм =

200 мм

4 дм =


400 мм

8 дм =

800 мм

10 дм =

1000 мм



Взаимопроверка

300 мм =

3 дм

900 мм =


9 дм

500 мм =

5 дм


1000 мм =

10 дм




Домашнее задание

№359-361. с. 105




Бег с



№354. с. 104

1 дм 20 мм = 12 см




**Найди самую большую
длину, начерти**



14 см

1 дм 40 мм

140 мм




Переведи в мм



Измерь в дм и мм

работа



Тетрадь


для _____

учени _____ класса _____


_____ школы _____

Самооценка


Метод «Светофор»




красный сигнал- если трудно,
нужна помощь



жёлтый сигнал- если понятно не всё,
нужен совет



зелёный сигнал- всё понятно, цель
достигнута, могу помочь



Итог урока

Я могу дм перевести в ...

В дм можно измерить...

