

Урок математики в 3 классе




Девиз урока

В школе будем не
лениться, на десятки
лишь учиться, к
НОВЫМ знаниям
стремиться!



Ребусы

ТИ



Вырази

115 см

=

1 м 15 см


1150

мм

11 дм 5 см



Ребусы



Вырази

150 см

1 м

15 дм

=

50 см
1500

мм




Ребусы

Т = К

1,3,2,3

,



Вырази

2 м =

200 см


20 дм

2000 мм



**Запиши ответы на
таблицу умножения на 8
в порядке убывания**

80, 72, 64, 56, 48, 40, 32, 24, 16, 8



**Объединитесь по три,
назовите ответы**



8x9

8x8

8x2

8x3

8x1

8x5

8x7

8x0

8x6

8x10

8x4

63



72

5

48



81



46



64

5

16

5

18



10



24

5

32



21



1



8

5

9



32



36



40

5

54



63



56

5

8



1



0

5

48

5

56



54



80

5

18



10



28



36



32

5

Самостоятельная работа

Начерти отрезки заданной

длины

1 вар.

7 см 5 мм

120 мм

1 дм 2 см 3 мм

1 дм 25 мм

2 вар.

4 см 5 мм

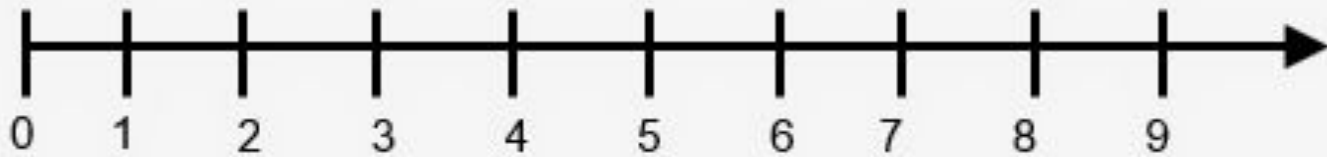
110 мм

1 дм 3 см 2 мм

1 дм 35 мм



Что это?



Тема урока

Изображения чисел на числовом луче



Цель урока

Узнать, как ...

изобразить

числа на

числовом луче




№380. с. 110.



Найдите правильный числовой

луч



Найдите ошибки



Изображение чисел на числовом луче



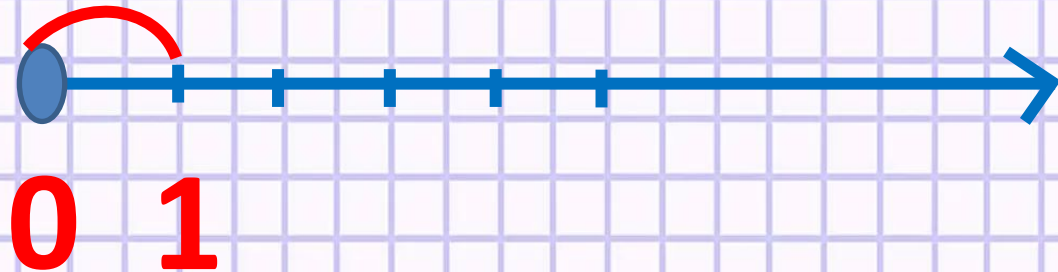
Что такое луч?

это часть прямой линии,
расположенная по одну
сторону, от какой-либо
точки



Что такое числовой луч?

Это луч с заданным началом отсчёта, единичным отрезком и направлением увеличения чисел



Домашнее задание

№381, 382. с. 110 или
придумать свои задания



Физминутка



Задание

Построй числовой луч с
единичным отрезком

1 клетка и отметь точки

3, 7, 9



Задание

Построй числовой луч
с единичным отрезком
3 клетки и отметь точки

3, 4, 7



Задание

Построй числовой луч с
единичным отрезком

2 см и отметь точки

2, 4, 6



Задание

Построй числовой луч с
единичным отрезком... и
отметь точки

20, 40, 70



Проверка по кругу

1 вар. – единичный отрезок 1 см,
отметь точки **3,7,9**


2 вар. – единичный отрезок 1
клетка, отметь точки **5, 8, 12**

3 вар. – единичный отрезок 3
клетки, отметь точки **2, 4, 7**

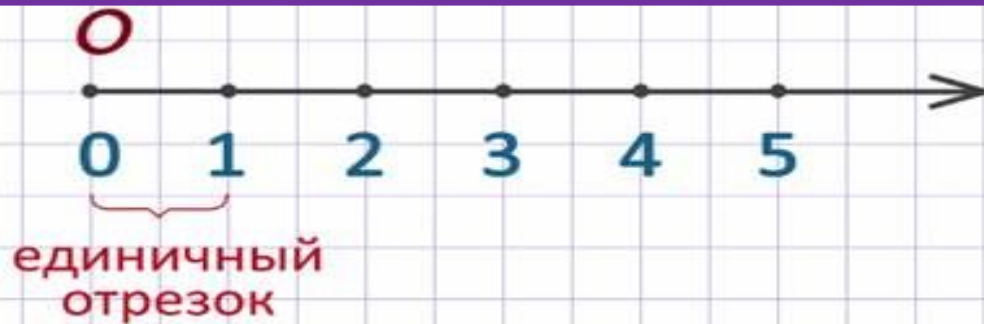
4 вар. – единичный отрезок,
отметь точки **20, 30, 60**

№386. с. 111

Изобрази на
числовом луче
числа 50, 100, 150,
250



Отметьте ваши знания



Итог урока

Я узнал (а)...

Я повторил(а)...

Мне ещё надо

ПОУЧИТЬСЯ...

