


**Урок
математики
в 3 классе**



Девиз урока

Будем думать,
Будем чертить,
Будем друг другу
Во всём
помогать!



ГОТОВИМСЯ К ДИНО ОЛИМПИАДЕ



Кто не живет в степи?



Кто не живет в пустыне?



Запиши ответы на
таблицу
умножения на

9

Найди пару,
назови ответы



Проверь!!!!

$9 \times 1 = ?$

$9 \times 6 = ?$

$9 \times 2 = ?$

$9 \times 7 = ?$

$9 \times 3 = ?$

$9 \times 8 = ?$

$9 \times 4 = ?$


$9 \times 9 = ?$

$9 \times 5 = ?$

$9 \times 10 = ?$



???????



Тема урока

Куб и его
изображение.

Поупражняемся в
изображении куба.



Цель урока

Узнать, что такое...

куб.

Поупражняться...

изображать куб.



Что такое куб?

Это геометрическая
фигура. Его поверхность **6**
состоит из **6** равных
квадратов, **граням**
называются **и**



Что такое куб?

Стороны этих квадратов

называют **рёбрами**

куба, а вершины

вершинам

квадратов - **12**.

8

и

куба. У куба ... рёбер и ...

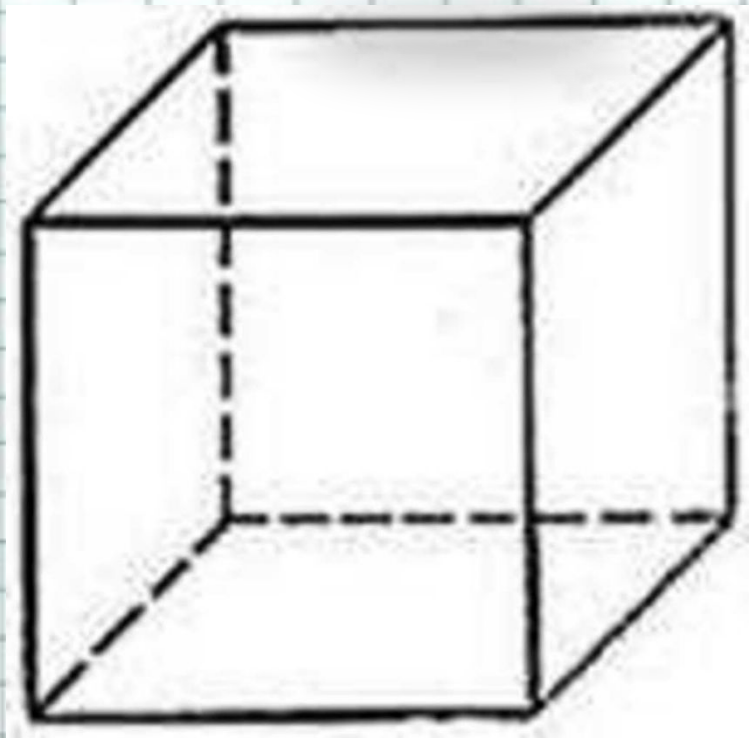
вершин.



Покажи



Переднюю грань
Правую грань
Верхнюю грань
Нижнюю грань
Левую грань
Заднюю грань



Вычисли сумму граней



11



14



13



Вычисли сумму противоположных



10



7

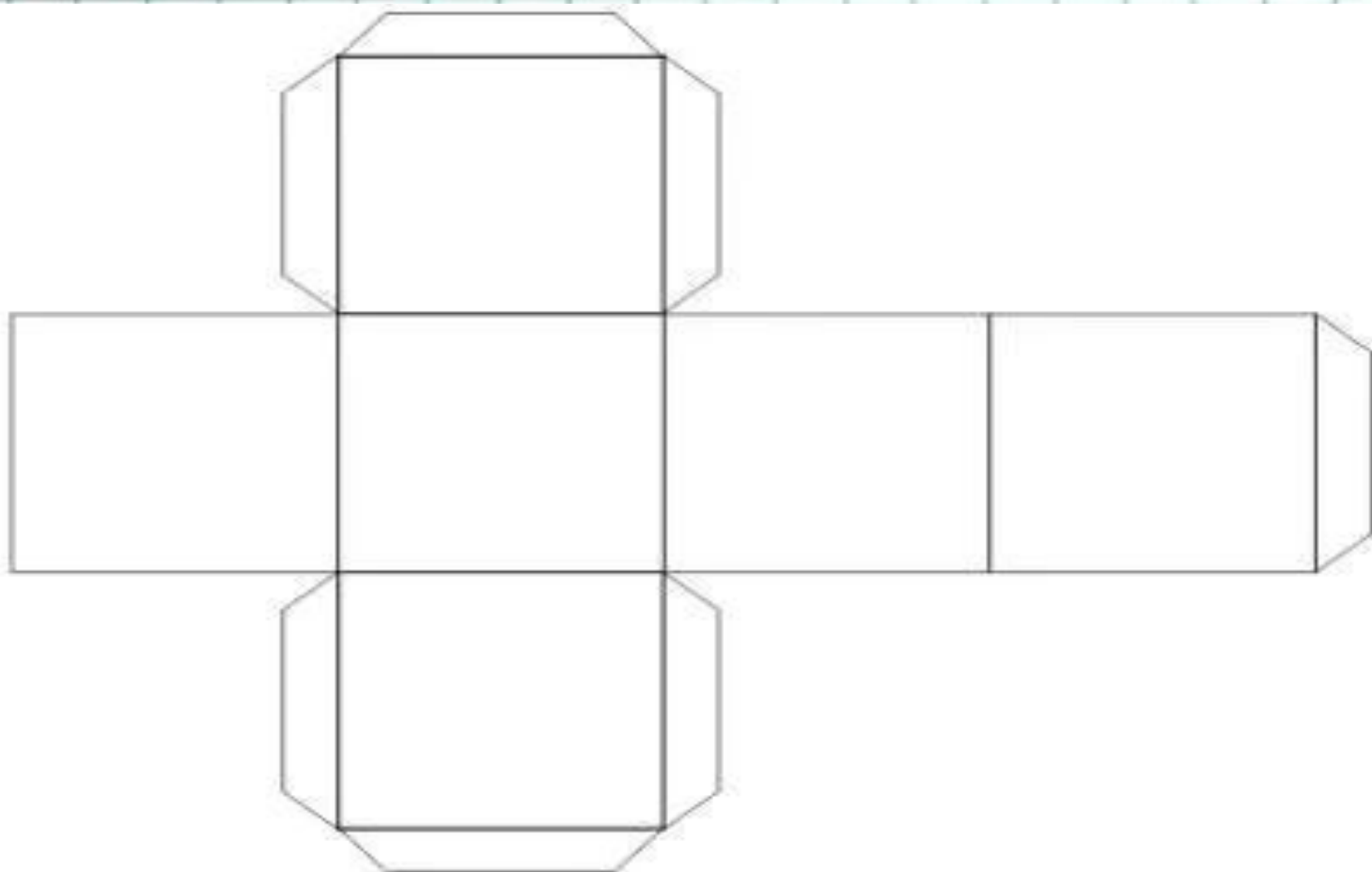


8



Домашнее задание

№ 1



Физминутка

Кубик в правую руку берем,
Кубик в левую руку берем,
Кубик на кубик красиво кладем.
Домик большой мы для кукол
построим
И новоселье куклам устроим.



**Сосчитай сколько
кубов?**



125



Самооценка

Итог урока

Я узнал....

Я уже могу....

Мне еще надо
научиться....

