

**Урок
математики
в 3 классе**



Как нужно вести себя в школе?



школа



Настрой на урок

Руки в кулачки сожмём,
Крылья носа разотрём.
Точка есть и в центре лба

—

Помассируй для ума.
Возле уха и внутри
Точки хорошо потри.



**Запишите ответы на
таблицу умножения на
8
в порядке возрастания**

8,16,24,32,40,48,56,64,72,80

**Найди пару, назови
ответы**



$8 \times 1 = ?$

$8 \times 2 = ?$

$8 \times 3 = ?$

$8 \times 4 = ?$

$8 \times 5 = ?$

$8 \times 6 = ?$

$8 \times 7 = ?$

$8 \times 8 = ?$

$8 \times 9 = ?$

$8 \times 10 = ?$



Вырази в см, мм

1 дм =

10 см

100 мм

3 дм 2 см =

32 см

320 мм

6 дм 9 см =

69 см

690 мм



Вырази в см, мм

5 дм =

50 см

500 мм

8 дм 1 см =

81 см

810 мм

3 дм 4 см =

34 см

340 мм



Самостоятельная работа

1. Начерти отрезок 7 см
2. Начерти отрезок 1 дм 2 см
3. Начерти отрезок 110 мм
4. Начерти отрезок 1 дм 2 см 5 мм
5. Начерти отрезок 1 дм 30 мм



??????



1 мм

1 см

1 дм

?

Тема урока

Миллиметр и метр



Цель урока

Уметь переводить
метры в...

мм, см и дм



??????

1 CM =

10 MM

1 DM =

10 CM =

100 MM

1 M =

10 DM

100 CM

1000 MM



Запомни!!!

$$1 \text{ м} = 1000 \text{ мм}$$



Домашнее задание

№365,366.с. 106
или придумать
подобные
примеры



Физминутка



Ребус



Переведите в мм

2 м =

2000 мм




медведь



Ребус



0



Переведите в мм

3 м =

3000 мм



носорог



Ребус




Переведите в мм

3 м 20 см =

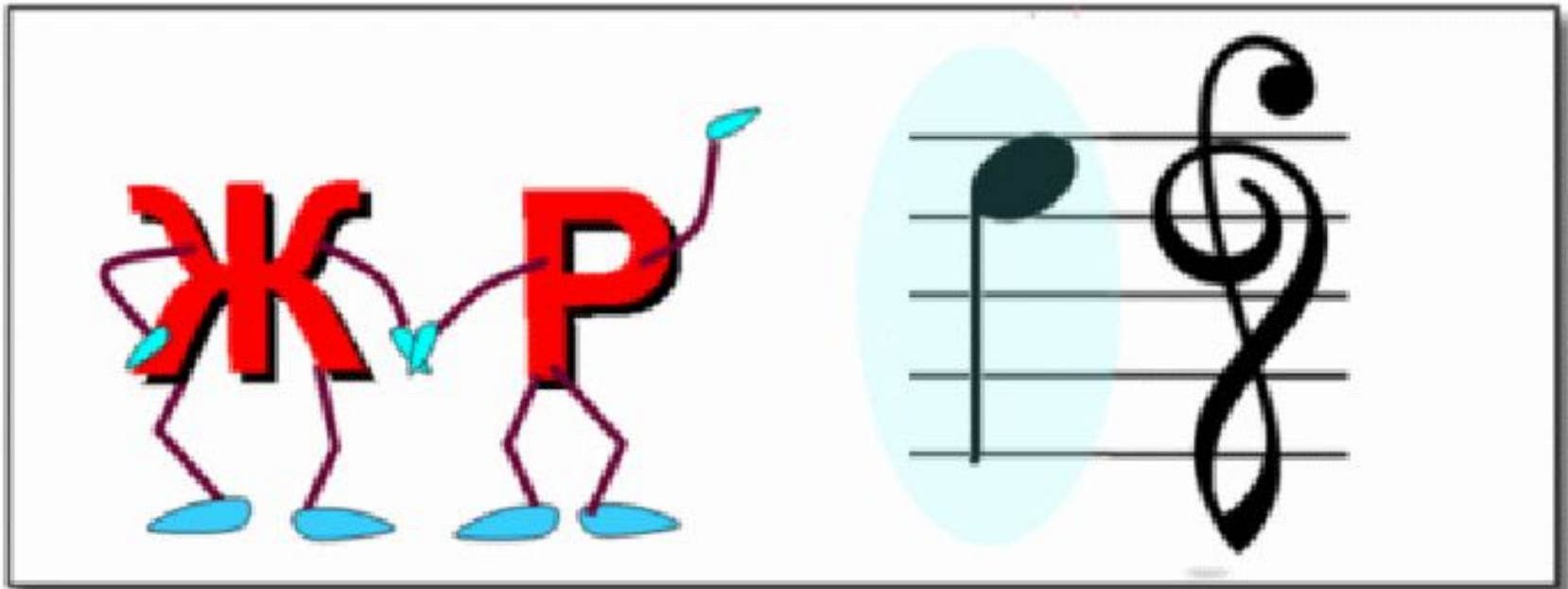
3200 мм



пеликан




Ребус



Переведите в мм

6 м =

6000 мм



жираф



Ребус

5, 3, 2
40

1'

П=Д



Переведите в мм

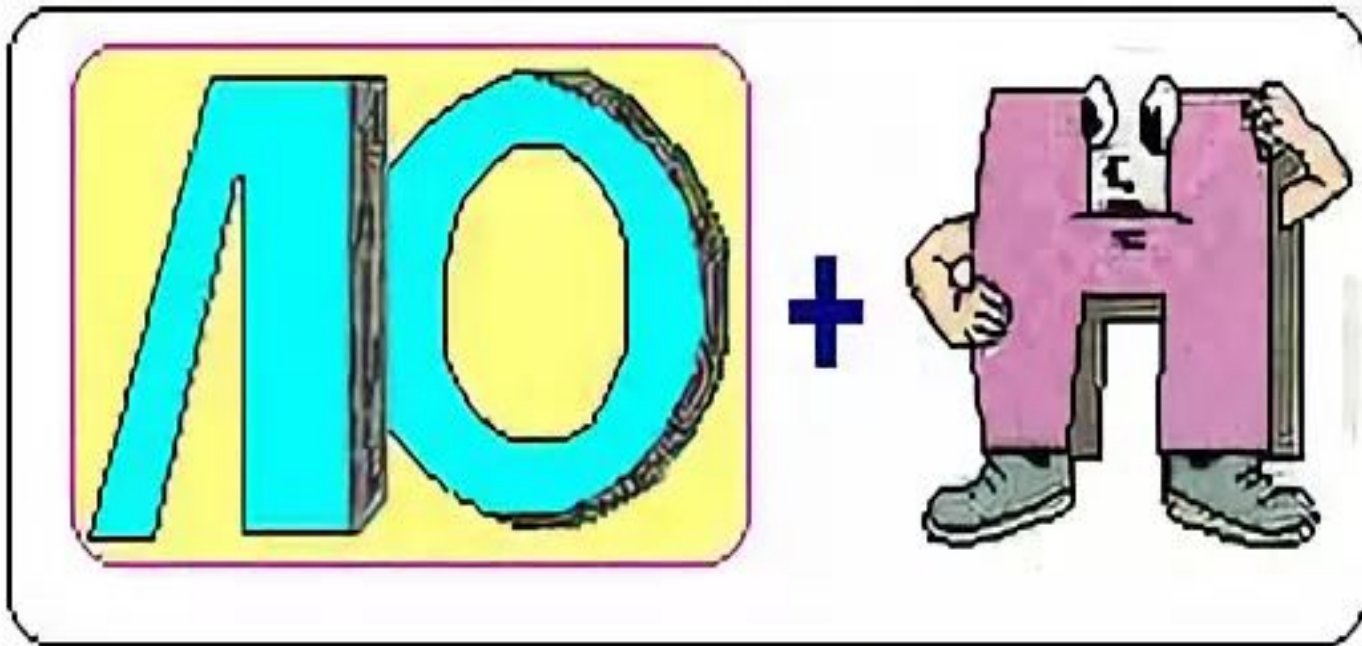
7 м =

7000 мм



крокодил


Ребус



Переведите в мм

8 м =

8000 мм



СЛОН





Переведите в мм

18 м =

18000 мм



Тигровая акула




Самооценка



**Всё
понятно!**



**Есть
вопросы!**



Всё сложно!



Итог урока

Я узнал...

Мне легко...

Мне пока сложно...

