

Урок математики ВО



*Пусть математика сложна,
Её до края не познать,
Откроет двери всем она,
В них только надо
постучать.*





“ ”

ЗАДАЧА



??????

**У зайчика было 20
морковок, он съел 5 штук.
Сколько осталось?**

??????

У зайчика было 20
морковок, он съел 5 штук.
Сколько осталось?

Условие
требование

Тема урока

**Данные и
искомое.**

Цель урока

Узнать, что
такое...

данные и
искомое.

Юля и Костя собрали в лесу 17 грибов.
Юля нашла 9 грибов. Сколько грибов
нашёл Костя?

17 всего грибов

9 Юля

? Костя



- Назови, а какое еще число спрятано в задаче.

Как назовем числа, которые
известны?

17 и **9** Известны- Даны- ДАнные

Как назовем число, которое
спрятано в задаче?

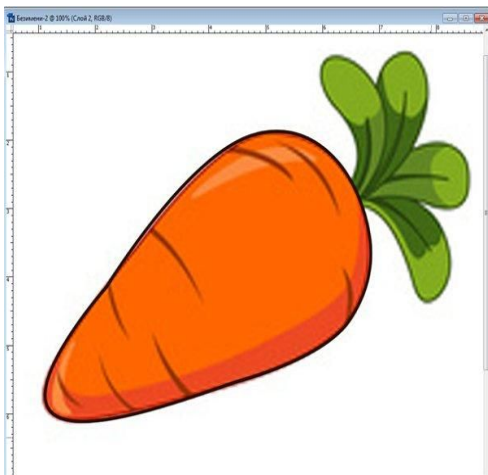
? Найти- Искать- Искомое

Придумай вопрос к задаче



$$40 + 20$$

У зайчика 40 морковок и
20 кочанов капусты.



**У зайчика 40 морковок и 20
кочанов капусты.**

**Сколько всего моркови и
капусты у зайчика?**

$$40 + 20 = 60$$

**У зайчика 40 морковок и 20
кочанов капусты.**

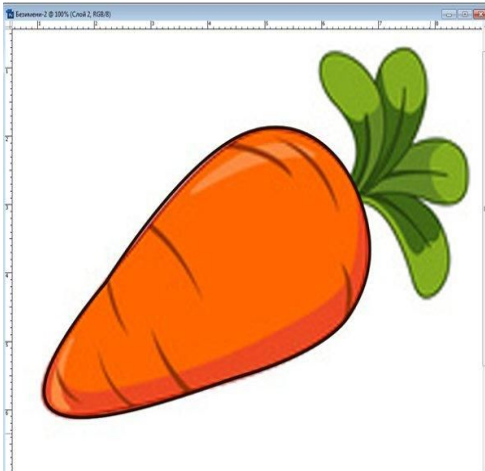
**Сколько всего моркови и
капусты у зайчика?**

Придумай вопрос к задаче



$$40 - 20$$

У зайчика 40 морковок и
20 кочанов капусты.



**У зайчика 40 морковок и 20
кочанов капусты.**

**На сколько морковки
больше, чем капусты у
зайчика?**

$$40 - 20 = 20$$

**У зайчика 40 морковок и 20
кочанов капусты.**

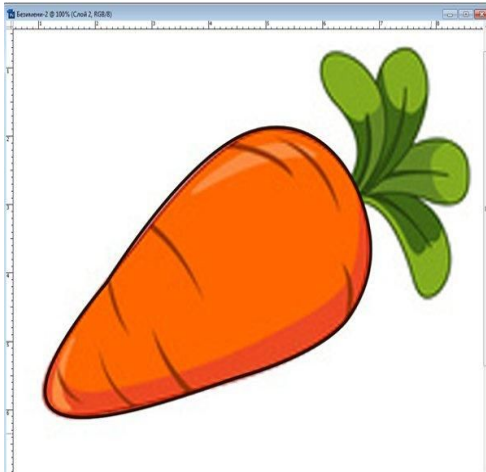
**На сколько морковки
больше, чем капусты у
зайчика?**

Придумай вопрос к задаче



$$40 : 20$$

У зайчика 40 морковок и
20 кочанов капусты.



**У зайчика 40 морковок и 20
кочанов капусты.**

**Во сколько раз морковки
больше, чем капусты у
зайчика?**

$$40 : 20 = 2$$

У зайчика 40 морковок и 20
кочанов капусты.

Во сколько раз морковки
больше, чем капусты у
зайчика?

??????

**У зайчика в одном мешке
10 морковок, в другом 20
морковок, а в третьем 40
морковок. Сколько
морковок в двух мешках?**

Лишнее данное

У зайчика в одном мешке
10 морковок, в другом 20
морковок, а в третьем 40
морковок. Сколько
морковок в двух мешках?

**Придумайте вопрос так,
чтобы все данные
использовались?**

**У зайчика в одном мешке
10 морковок, в другом 20
морковок, а в третьем 40
морковок.**

**Сколько морковок в трёх
мешках?**

Зайки



- Скачут, скачут во лесочке,
- Зайцы – серые клубочки.
- Прыг – скок, прыг – скок –
- Встал зайчонок на пенек.
- Всех построил по порядку,
- Стал показывать зарядку.
- Раз! Шагают все на месте.
- Два! Руками машут вместе.
- Три! Присели, дружно встали.
- Все за ушком почесали.
- На четыре потянулись.
- Пять! Прогнулись и нагнулись.
- Шесть! Все встали снова в ряд,
- Зашагали как отряд.


А.Л. ЧЕКИН

МАТЕМАТИКА




Часть **2**

Учебник



2

К Л А С С




OZON.RU

№1. с. 140

**Бабушке 55 лет, а
дедушке 62 года. На
сколько лет дедушка**




е бабушка




№1. с. 140

**Бабушке 55 лет, а
дедушке 62 года. На
сколькo лет дедушка
е баба**




№1. с. 140

Бабушке 55 лет, а
дедушке 62 года. На
сколько лет дедушка
старше



Придумайте ? 55 + 62


**Бабушке 55 лет, а
дедушке 62 года.**



$$55 + 62$$


Бабушке 55 лет, а
дедушке 62 года.

Сколько лет бабушке и
дедушке вместе?



№2. с. 140

**Бабушке 55 лет, а
дедушка старше её на 7
лет. Сколько лет**




№2. с. 140

**Бабушке 55 лет, а
дедушка старше её на 7
лет. Сколько лет**



ду!




№2. с. 140

Бабушке 55 лет, а
дедушка старше её на 7
лет. Сколько лет




ду!






№5. с. 141



**В одном мешке 32 кг
моркови, в другом 35 кг, а
в третьем – 33 кг. Сколько
кг в первых двух мешках?**

№5. с. 141



**В одном мешке 32 кг
моркови, в другом 35 кг, а
в третьем – 33 кг. Сколько
кг в первых двух мешках?**



$$32+35+33$$

**В одном мешке 32 кг
моркови, в другом 35 кг, а
в третьем – 33 кг.**

Сколько кг в трёх мешках?



Итог урока

**С какими новыми
понятиями
познакомились?**

Что знали по этой теме?

Чему научились?

**Что сложно было на
уроке?**