

МАТЕМАТИКА

2
клас
с






Оргмомент

Прозвенел звонок веселый
Нам урок пора начать
Встали правильно красиво
Значит можно начинать



Эмоциональный настрой

Погладьте свою голову!



<http://www.liveinternet.ru/users/irisha...fishka/>




Эмоциональный настрой

Дайте **пять** соседу!



Эмоциональный настрой

Помашите нашим гостям!






Девиз урока



Мы сможем,
мы сумеем,
у нас получится



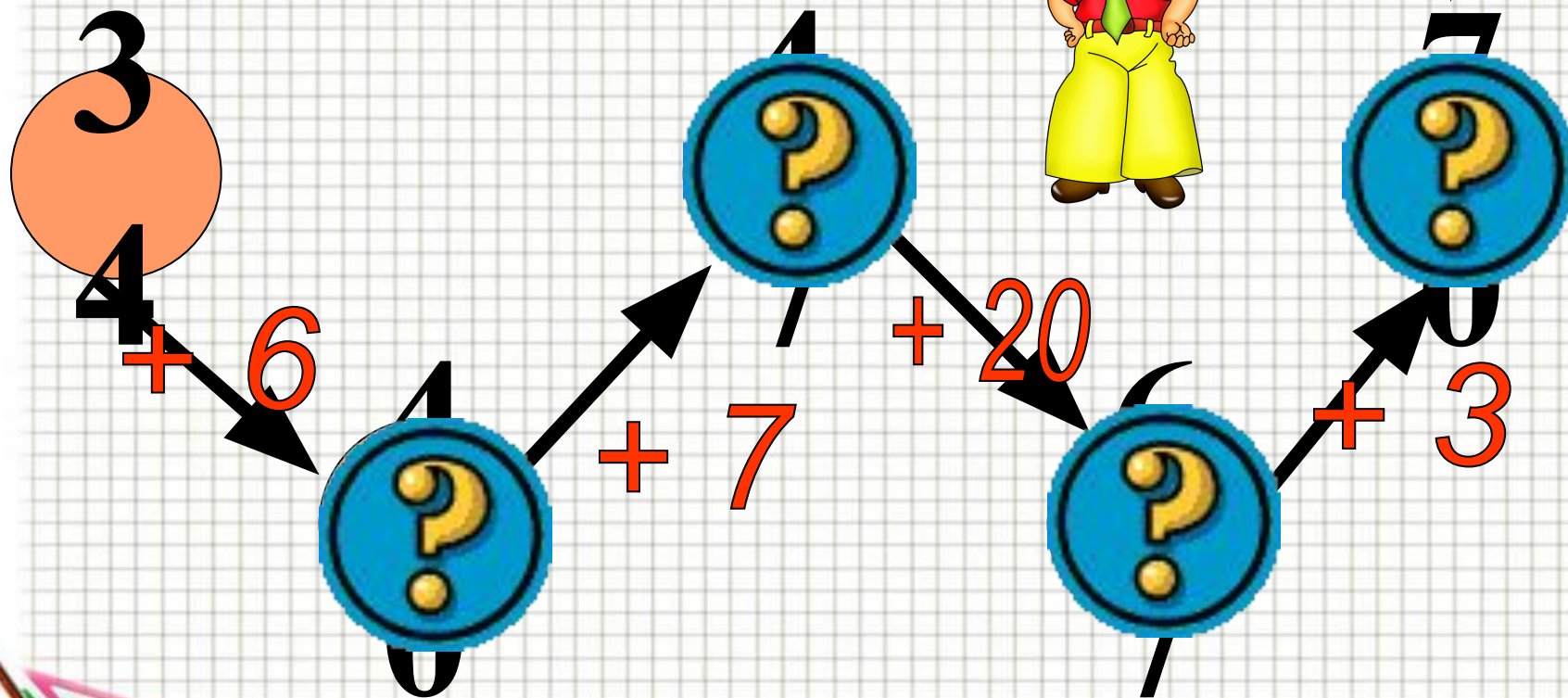



Задача на смекалку

Незнайка решил искупаться. Он разделся, сложил одежду на берегу, вошёл в воду и поплыл. «Сейчас я три раза переплыву реку, оденусь и пойду домой». Как вы думаете, нашёл ли он свою одежду на берегу, когда вышел из воды? Объясните.



Восстанови цепочку



M

52

50



80

6

O

95




90



Вычисли



$$40 + 3 + 20 = ?$$



$$7 + 20 + 50 = ?$$



Цветочек



Найди лишний пример

$$45 - 3$$

$$60 - 8$$

$$26 + 31$$

$$67 - 23$$

$$42 - 14$$



Найди лишний пример


$$45 - 3$$

$$60 - 8$$

$$26 + 31$$

$$67 - 23$$

$$42 - 14$$





Тема урока:


**Сложение двузначных
чисел без перехода
через разряд**



Цель урока:

Научить выполнять...
сложение двузначных
чисел без перехода
через разряд.





$70-4$

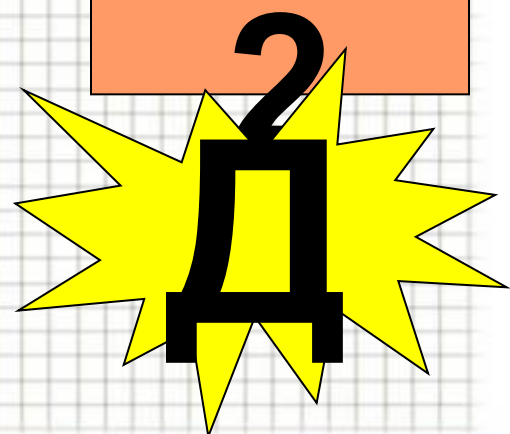



$34+$
 45



$32+$
 5

$50+$
 2



п

е



т

к

ш

у

о



Петушок



malenkajastrana.myl.ru


СКЛАДЫВАЕМ ДЕСЯТКИ С ДЕСЯТКАМИ, ЕДИНИЦЫ С ЕДИНИЦАМИ

$$43 + 25 = 68$$




$$4 \text{ дес.} + 2 \text{ дес.} = 6 \text{ дес.}$$

$$3 \text{ ед.} + 5 \text{ ед.} = 8 \text{ ед.}$$



Домашнее задание



**№5. с.86,
придумать
свои 8
примеров**



Кот и дрозд услышали, бросились в погоню и отняли у лисы петушка.

Петух




- Шёл по берегу петух,
- (шаги с раскачиванием в сторону, руки за спину)
- Поскользнулся ,в речку – бух.
- (круговое движение руками, присесть)
- Будет знать петух, что впредь
- (грозит пальцем)
- Надо под ноги смотреть
- (наклон вперёд)



Придумайте сами своё
такое же задание:



Самостоятельная работа



$$46 + 12$$

$$18 + 21$$

$$52 + 34$$

$$25 + 42$$

$$24 + 75$$

Проверьте!!!



$$46 + 12 = 58$$

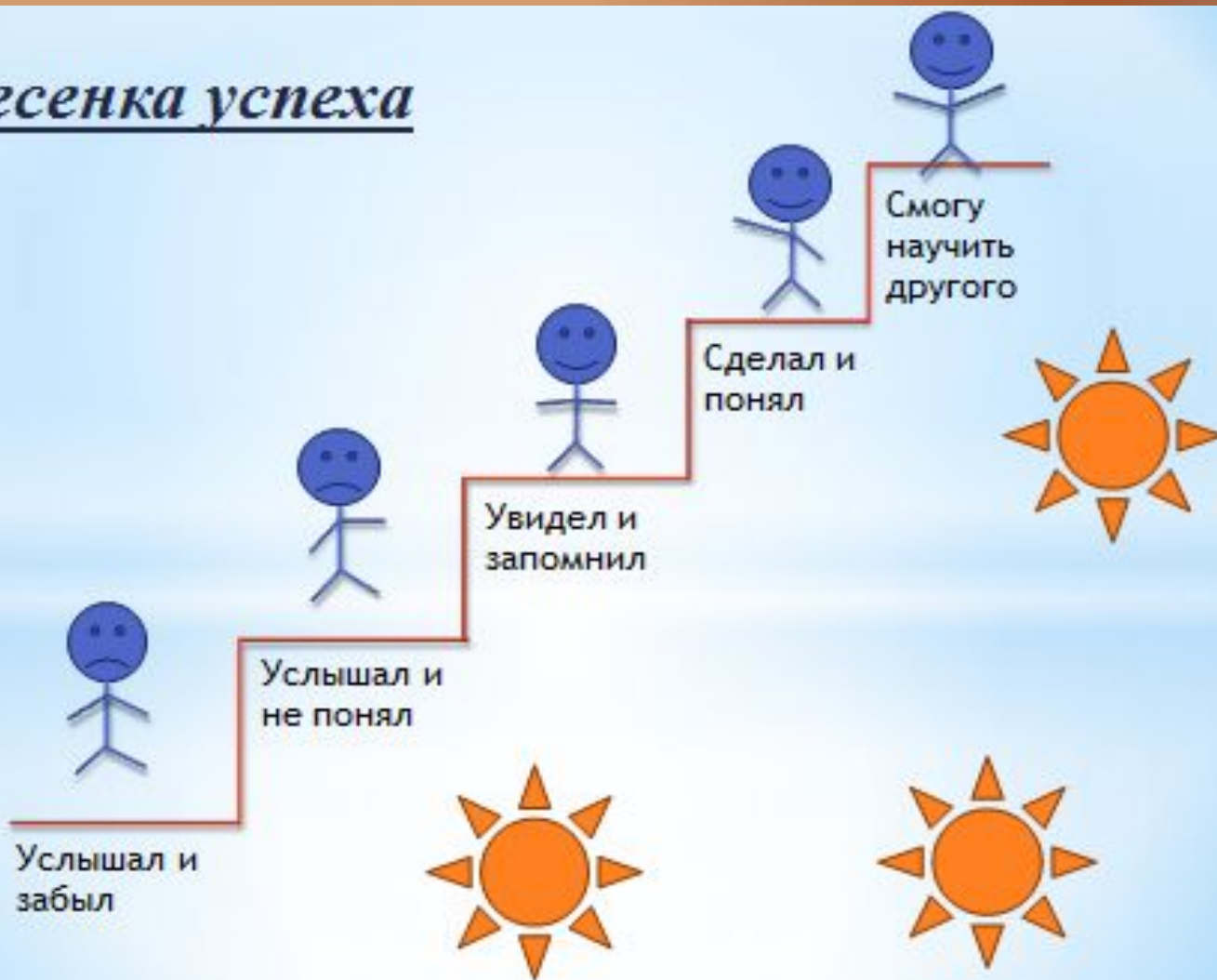
$$18 + 21 = 39$$

$$52 + 34 = 86$$

$$25 + 42 = 67$$

$$24 + 75 = 99$$

Лесенка успеха



№6. с.86

**Придумай задачу по
круговой схеме, реши её.**



Петух гораздо лучше своей подруги курицы. На голове и на щеках у него красные мясистые наросты - гребешок и борода, в хвосте и крыльях блестящие разноцветные перья, на ногах, повыше лап, острые отростки, шпоры, которыми петух наносит весьма чувствительные раны своему сопернику. Петух криклив и задорен. Два петуха редко разойдутся, не подравшись.



Как петухи распетушились



Рефлексия



было интересно...

было трудно...

я научилась...

теперь я могу...



мне захотелось...

меня удивило...

