

Урок математики в 3 клас



Настрой на урок

Сегодня на уроке
хотелось бы...



Развиваем логику

У сороконожки 90 ножек. Она купила 13 пар сапожек. Но при этом 16 ног остались босыми. Сколько пар старых сапожек было на сороконожке до покупки новых сапожек?

24 пары



Самопроверка



$32 : 4$

8

$44 : 2$

22

$30 : 3$

10

$66 : 33$

2

$60 : 10$

6

$32 : 16$

2

$80 : 2$

40

$45 : 3$

15

$96 : 3$

32

$54 : 18$

3

Самооценка

0 ошибок – «5»

1-2 ошибки – «4»

3-4 ошибки – «3»



Задача

На одном участке собрали 60 кг картофеля, на другом в 4 раза меньше. Сколько кг собрали на 2 участка?

$$60 : 4 =$$

15



Задача

На одной выставке было 48 рисунков, на другой - 16 рисунков. Придумай вопрос так, чтобы задача решалась на деление?

$$48 : 16 =$$

$$3$$



Задача

Придумай задачу на кратное сравнение

34

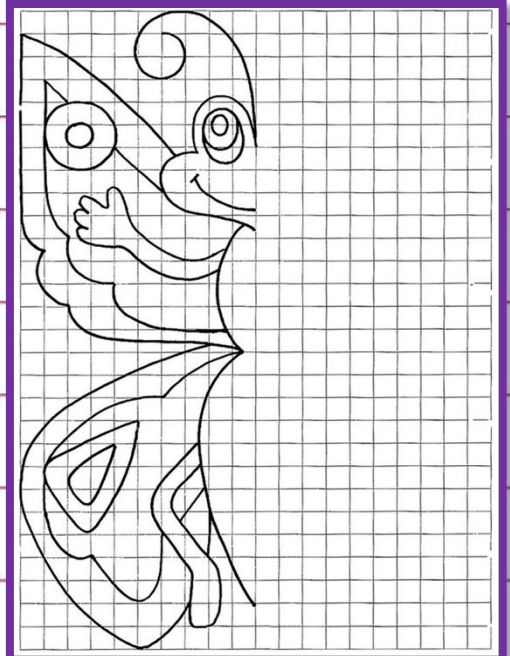

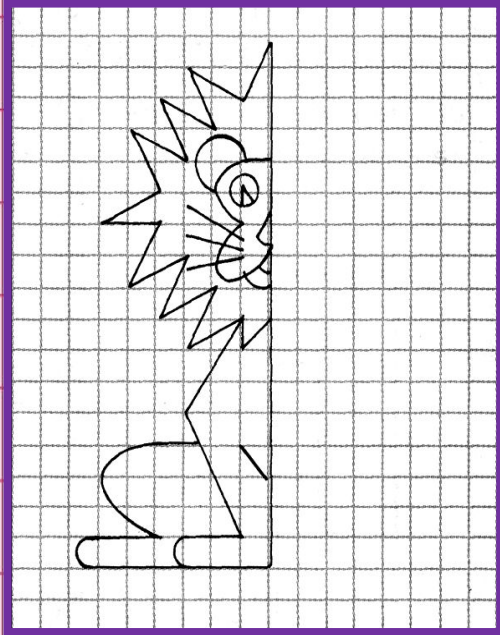
17

$34 : 17 =$

2



??????



Тема урока

Построение симметричны х фигур



Задачи урока

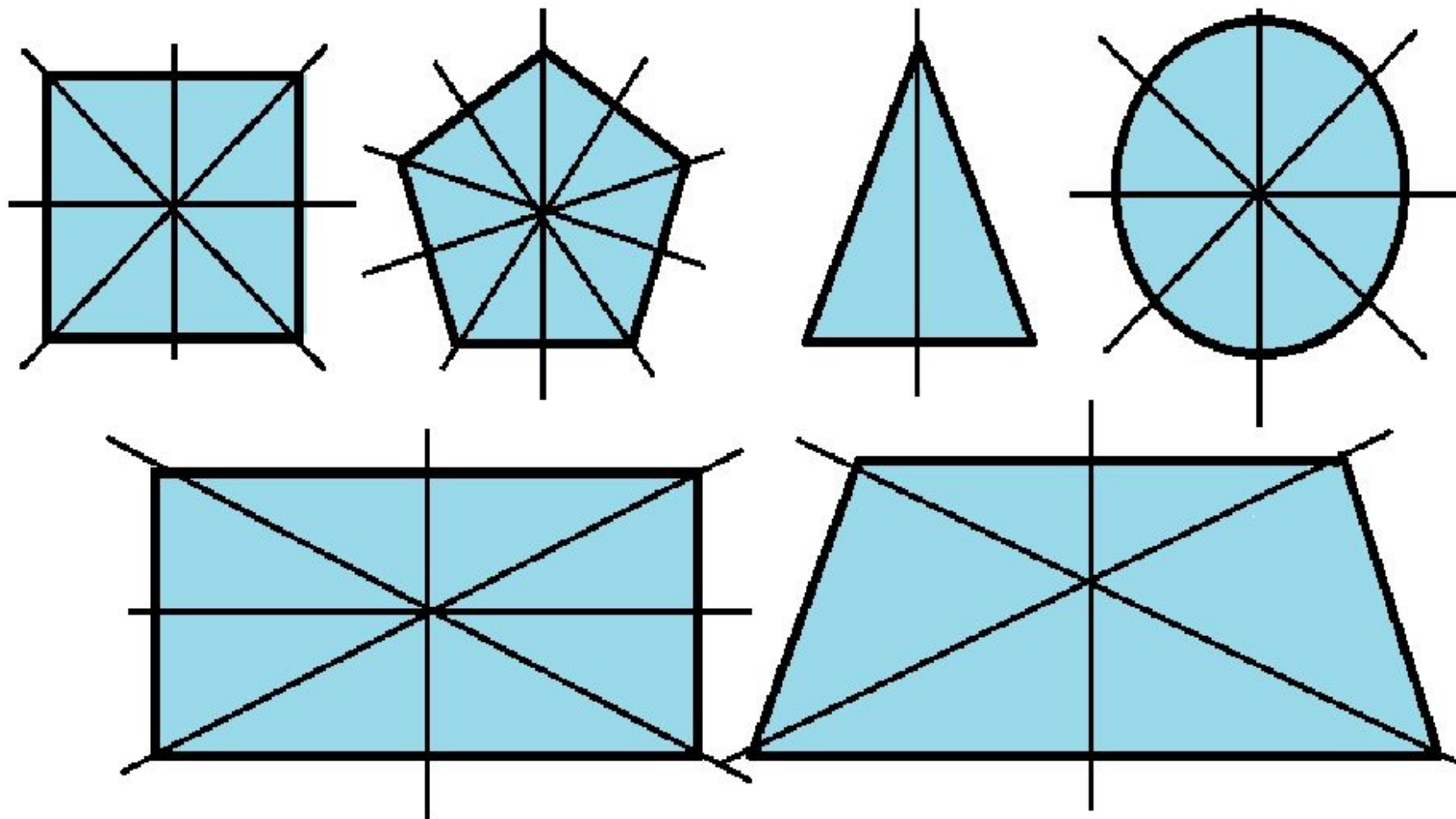
Узнать...

Уметь...

Развивать....



СИММЕТРИЯ ГЕОМЕТРИЧЕСКИХ ТЕЛ



Домашнее задание

С.123 (на выбор)

Придумать свои

симметричный

продолжить

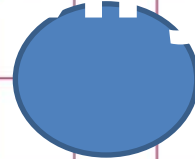
симметричный

рисунок



Физминутка

придумайте в паре
симметричную
фигуру



№371


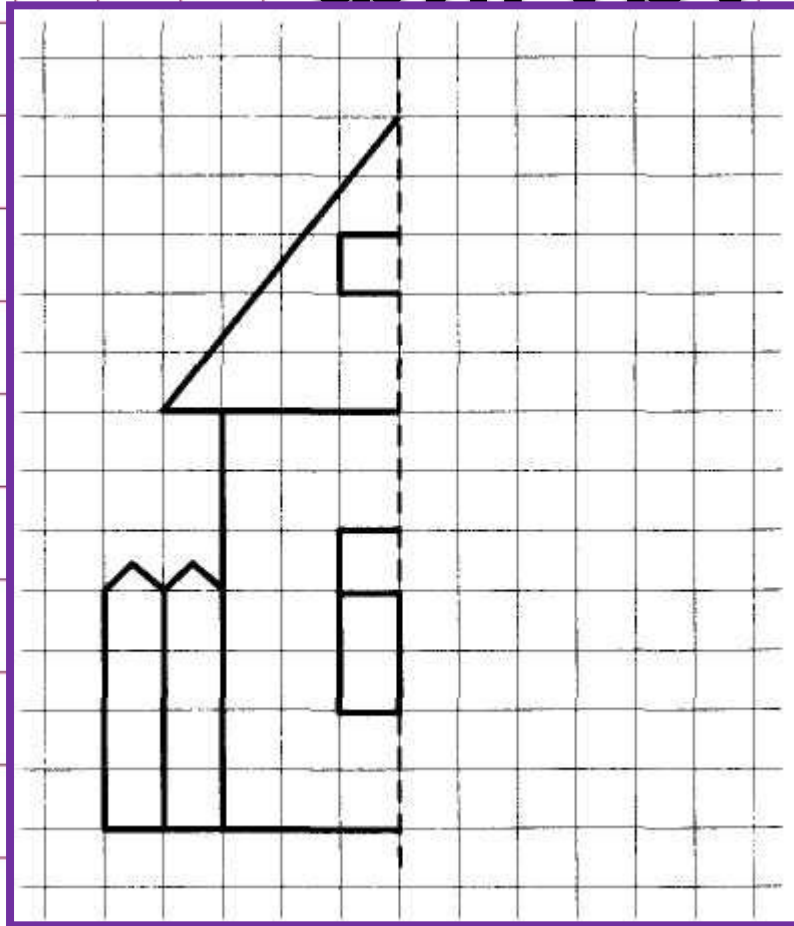
A




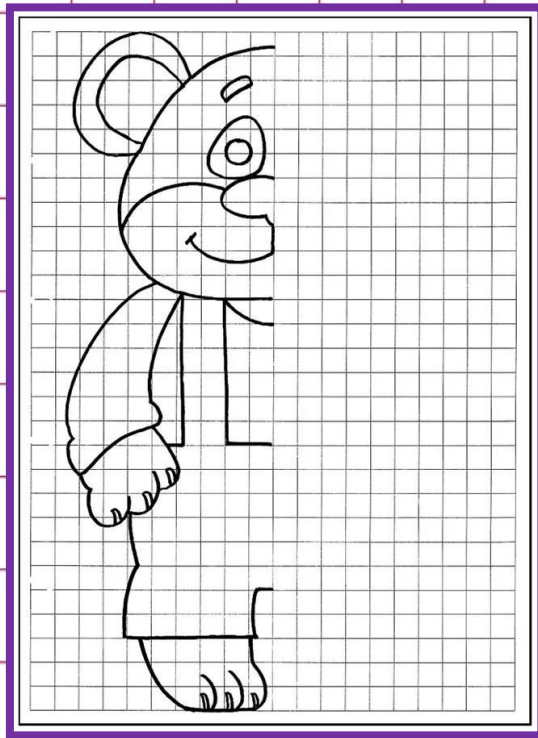
E



Изобрази симметричную фигуру



Изобрази любую симметричную фигуру



CONTENTS



Самооценка

Научу

всех!

Легко!

ЕСТЬ

сомнения!

Немного сложно!

Очень сложно!



Итог урока

Самое лёгкое задание

Самое сложное
задание

Самое интересное

