


Урок математики в 3 классе





Девиз урока

**Вспоминаем то, что
знаем,
Что не знаем закрепляем!**






Массаж



Под губой и над губой
Помассируем с тобой.


А теперь два пальца
сразу

Из носа выгонят заразу.

Указательными пальцами дети массируют точки с наружной стороны ноздрей, затем тщательно растирают крылья носа









После суточного дежурства в больнице доктор решил выспаться и лег в 9 часов вечера. Он должен был к 11 часам утра опять быть в больнице. Поэтому он поставил будильник на 10 часов. Сколько времени пройдет до звонка будильника?



1 час








**Запиши ответы на
таблицу умножения на
4 в порядке
уменьшения**

Назови ответы в группе





Вычисли

11×9

99

12×4

48

13×2

26





Вычисли

15×3

45


16×3

48

17×3

51





Вычисли

$$23 \times 4$$

92

$$54 \times 2$$

108

$$46 \times 3$$

138





Вычисли

$$5 \times 6 \times 9$$

270


$$4 \times 5 \times 7$$

140

$$8 \times 5 \times 3$$

120





Вычисли

$$4 \times 15$$

60

$$5 \times 28$$

140

$$6 \times 35$$

210



Самостоятельная работа

1 вар.

$$147 \times 2$$

$$226 \times 3$$

$$482 \times 2$$

$$328 \times 3$$

$$457 \times 3$$

2 вар.

$$136 \times 2$$

$$324 \times 3$$

$$463 \times 2$$

$$327 \times 3$$

$$464 \times 3$$



???????


$$8000 \times 9$$

$$(40 + 20) \times 3$$

$$235 \times 2$$

$$6 \times 5 \times 8$$





Тема урока

Поупражняемся в вычислениях





Цель урока

Закрепить умение...

**решать примеры
изученных видов**






Домашнее задание


**№306-308. с. 93
(на выбор)**





Физминутка





На доске с объяснением

$$70 \times 9$$

$$630$$

$$700 \times 9$$

$$6300$$


$$7000 \times 9$$

$$63000$$

$$70000 \times 9$$

$$630000$$





Работа в паре

$$80 \times 5$$

$$400$$

$$800 \times 5$$

$$4000$$


$$8000 \times 5$$

$$40000$$

$$80000 \times 5$$

$$400000$$





Найди пару, проверь

120 x 3

360

1200 x 3

3600


12000 x 3

36000

120000 x 3

360000





Запиши только ответы

$$(30 + 20) \times 2$$

100


$$(300 + 200) \times 2$$

1000

$$(3000 + 200) \times 2$$


6400






№303. с. 93

**Вычисли периметр
квадрата со
стороной 125 см**



$$125 \times 4 = 500(\text{см})$$





№304. с. 93.

Длина – 30 м

Ширина – 20 м


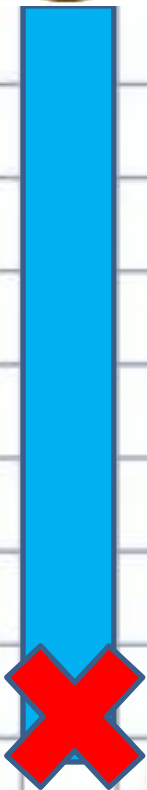
Длина забора- ?


$$30 \times 2 + 20 \times 2 = 100(\text{м})$$





Самооценка





Итог урока

Сегодня на уроке мы...

У нашего класса лучше

всего...

Пока у класса не

получается..

