

Урок математики в 3 классе



Девиз урока

Думаем – оперативно,
Отвечаем – правильно.
Считаем – быстро,
Измеряем – точно.



Ребус



Ребус



Ребус



**Запиши ответы на
таблицу умножения на 7 в
порядке увеличения**

Назовите ответы в группе





7×3

7×8

7×2

7×9

7×1

7×5

7×4

7×0

7×6

7×10

7×7

36



21

5

24



48



46



56

5

14

5

18



12



63

5

72



54



0



7

5

10



45



30



35

5

24



26



28

5

7



1



0

5

42

5

56



48



70

5

27



10



48



47



49

5

Самостоятельная работа

Таблица умножения

Примеров – 10

время – 2 минуты

0 ошибок – 5

1 ошибка – 4

2 ошибки - 3



Выполни разностное и кратное сравнение

14 и 7

$$14 - 7 = 7$$

$$14 : 7 = 2$$

7 и 70

$$70 - 7 = 63$$

$$70 : 7 = 10$$



Выполни разностное и кратное сравнение

21 см и 7 см

$$21 - 7 = 14$$

$$21 : 7 = 3$$

7 и 49

$$49 - 7 = 42$$

$$49 : 7 = 7$$



Правило

Чтобы выполнить
кратное сравнение
чисел, надо большее
число разделить на
меньшее



Правило

Чтобы выполнить
разностное
сравнение чисел,
надо из большего
числа вычесть
меньшее




**Придумай вопрос,
чтобы задача**

решалась $35 + 7$

**Заяц на зиму приготовил 7
кочанов капусты и 35
морковок.**



Помогите зайчику измерить длину морковки



Тема урока

Сантиметр и миллиметр



Цель урока

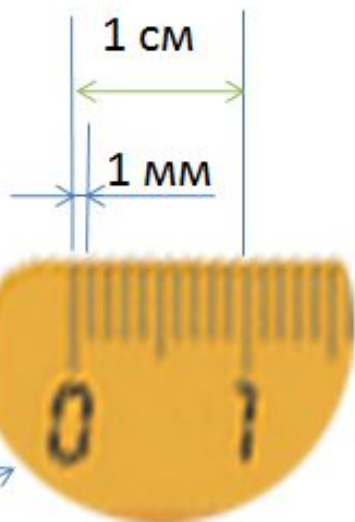
Узнать, как связаны см и дм

Узнать, как связаны см и мм

Узнать, как связаны дм и мм



222222



Словарь

Милли – это...


слово, означающее
уменьшение в 1000 раз

1 метр = 1000 мм

1 грамм = 1000 мг



Шишкина школа



$$1 \text{ CM} = 10 \text{ MM}$$



Домашнее задание

№348, 349, с.103,
измерить дома 5
разных предметов в
мм (желающим)



Физминутка

Идем миллиметровыми

шагами

Идем сантиметровыми

шагами сантиметровыми

шагами миллиметровыми

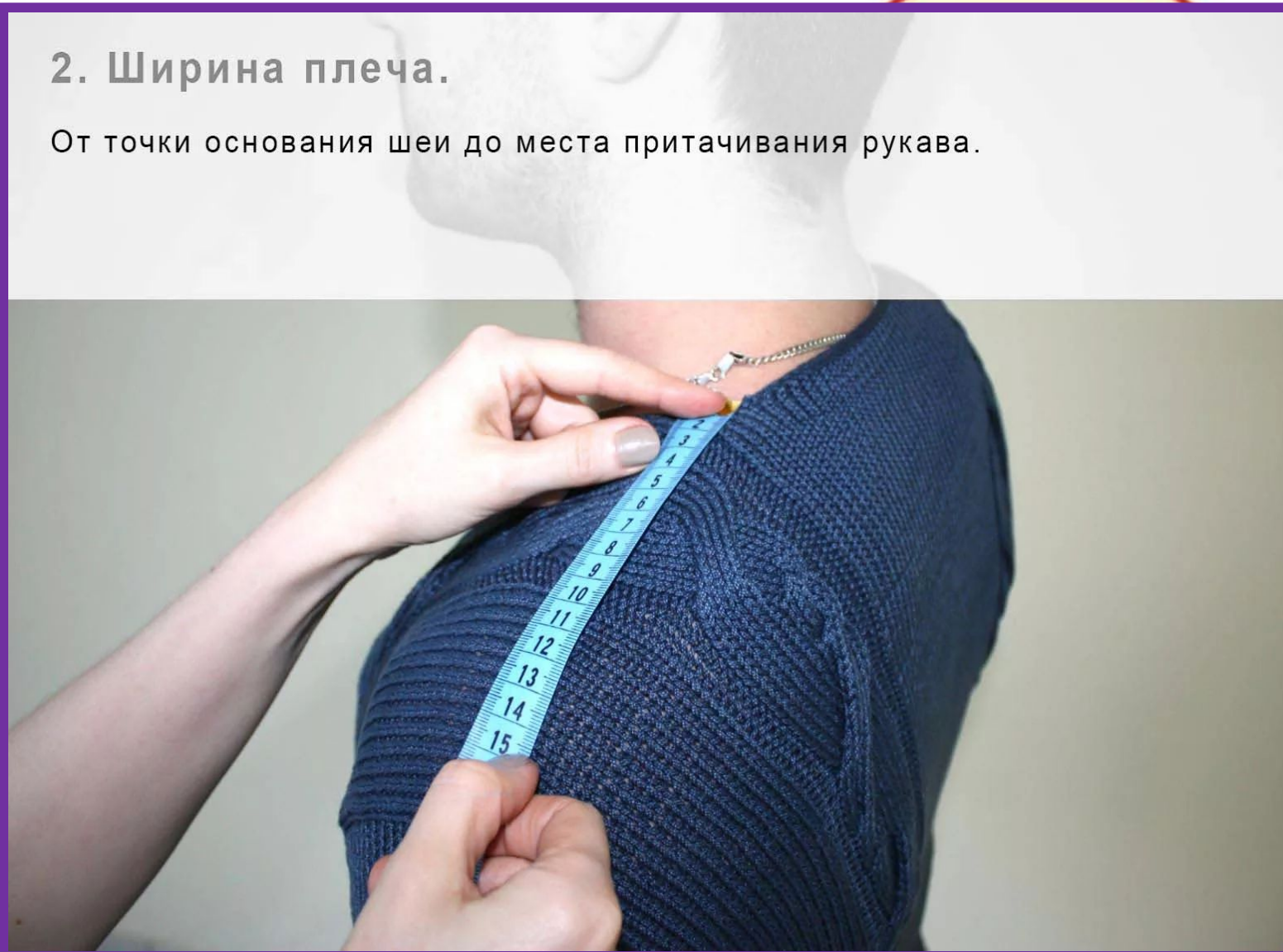
шагами



Миллиметровая линейка

2. Ширина плеча.

От точки основания шеи до места притачивания рукава.



Что удобнее измерять в мм?



Самопроверка

5 см =

50 мм

8 см =

80 мм

3 см =

30 мм

7 см =

70 мм

10 см

100 мм



Взаимопроверка

60 мм =

6 см

20 мм =

2 см

40 мм =

4 см

90 мм =

9 см

100 мм =

10 см



Найди пару, проверь

48 мм =

4 см 8 мм

568 мм =

56 см 8 мм

345 мм =

34 см 5 мм

1084 мм

108 см 4 мм

2943 мм

294 см 3 мм



Измерьте в мм



Ширина -
?

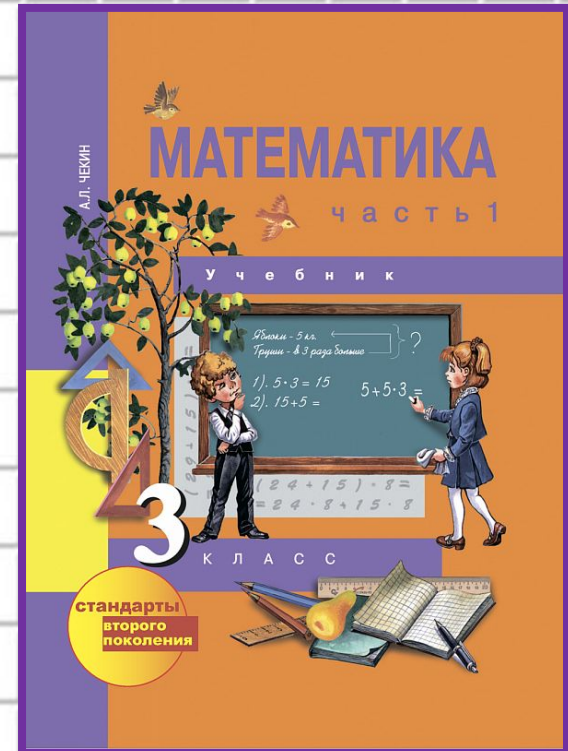



Длина -
?

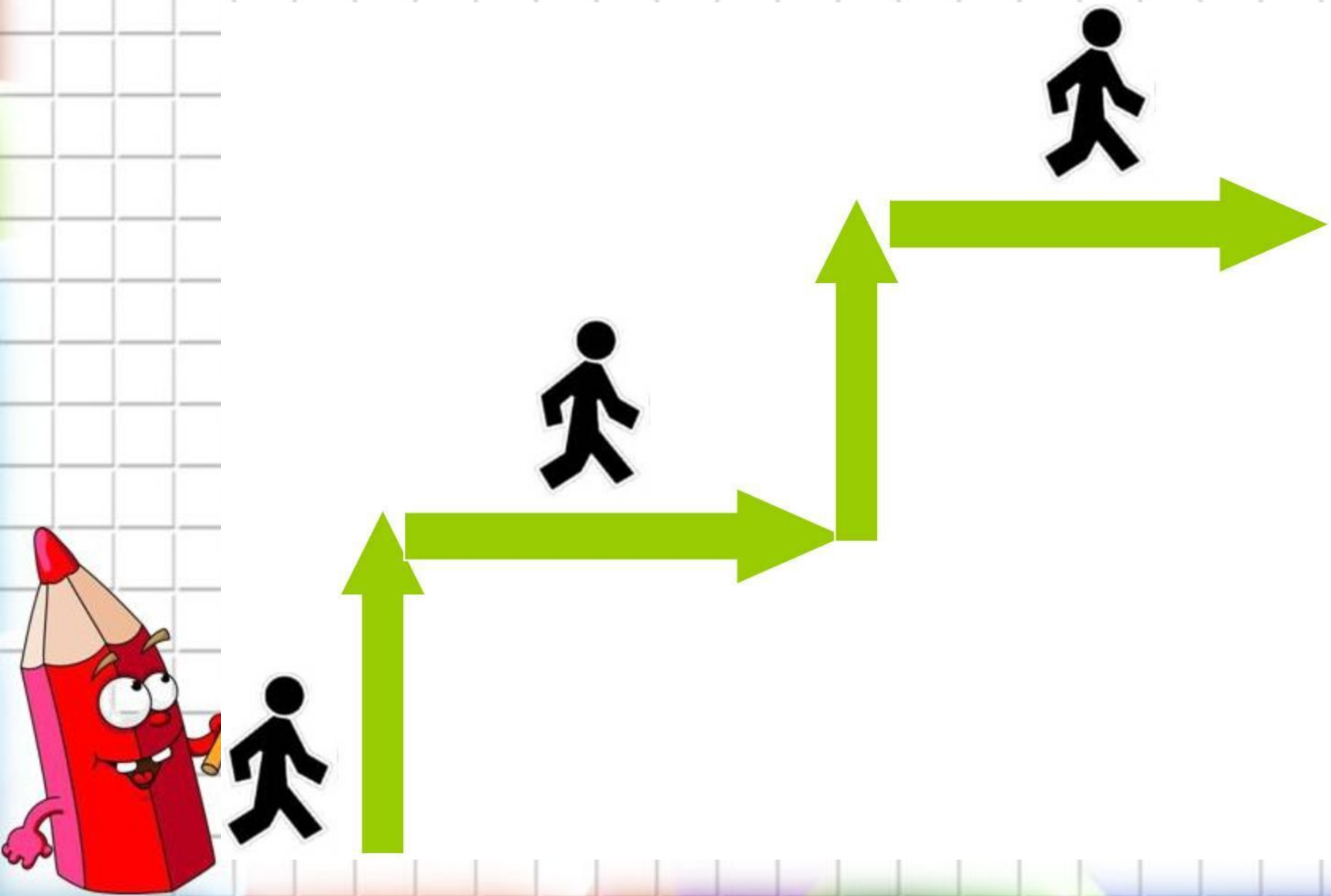
Толщина - ?

Толщина -
?

Длина -
?



Самооценка



Итог урока

Я узнал(а)...

Я могу...

В мм удобнее

измерять...

